



Azlık - Çokluk



Aşağıdaki soruları resme bakarak yanıtlayalım.



En az hangi hayvan vardır?

.....



En çok hangi hayvan vardır?

.....



En az hangi meyve vardır?

.....



En çok hangi meyve vardır?

.....



Ayvalar mı daha az, kirazlar mı?

.....



Elmalar mı daha çok, armutlar mı?

.....



Hangi tabakta daha az baklava vardır? İşaretleyelim.



Hangi tavuğun daha çok civcivi vardır? İşaretleyelim.



Hangi baloncunun balonları daha çoktur? İşaretleyelim.



Hangi oltada daha az balık vardır? İşaretleyelim.





Aşağıdaki cümleleri okuyalım. Boş bırakılan yerlere "azdır" ya da "çoktur" sözcüklerinden uygun olanını yazalım.




8 ceviz, 12 cevizden



5 yumurta, 2 yumurtadan



10 civci, 14 civcivden



6 limon, 11 limondan



7 araba, 15 arabadan



18 top, 17 toptan



9 gözlük, 14 gözlükten



12 kalem, 8 kalemden




5 kedi, 12 kediden




10 fil, 9 filden

Eşittir - Büyüktür - Küçüktür

 Aşağıdaki grupların hangisinde varlık sayısı daha fazladır?










 Aşağıdaki grupların hangisinde varlık sayısı daha azdır?



Aşağıdaki havuçları tavşanlarla bire bir eşleştirelim.



Aşağıdaki ifadeleri "büyüktür, küçüktür, eşittir" sözcüklerinden uygun olanıyla tamamlayalım.

-  5 sayısı, 6 sayısından
-  12 sayısı, 6 sayısından
-  14 sayısı, 17 sayısından
-  11 sayısı, 11 sayısına
-  20 sayısı, 19 sayısından
-  3 sayısı, 13 sayısından
-  8 sayısı, 8 sayısına



1. Yandaki çiçeklerin sayısı, aşağıdakilerden hangisine eşittir?



A) 1 onluk, 2 birlik

B) 1 onluk, 3 birlik

C) 1 onluk, 4 birlik

2. Aşağıdaki ifadelerden hangisi doğrudur?

A) 9 sayısı, 6 sayısından küçüktür.

B) 13 sayısı, 17 sayısından küçüktür.

C) 10 sayısı, 11 sayısından büyüktür.

3. 1 onluk, 5 birlik

1 onluk, 8 birlik

2 onluk

18

20

15

13

Yukarıda verilen sayılarla, onluk ve birlikleri verilen sayılar bire bir eşleştirilirse hangisi dışta kalır?


A) 13

B) 15

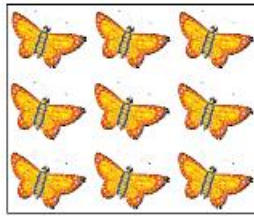
C) 20

4. Aşağıdakilerin hangisinde daha çok hayvan vardır?


A)



B)




C)



5. Hangisinin onluk ve birlik sayıları yanlış verilmiştir?

A)



1 onluk, 2 birlik

B)



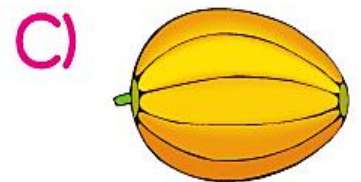










1 onluk, 3 birlik

C)



1 onluk, 5 birlik


Her soruda meyvelerden az miktarda olanı işaretleyiniz.





Her soruda varlıklardan çok olanı işaretleyiniz.

6. A)



B)



C)



7. A)



B)



C)



8. A)



B)




C)




9. A)




B)



C)



10. A)



B)



C)



Hangi palyaçonun **daha az** topu vardır?

A)



B)



C)



Cevizleri **çok** olan sincap hangisidir?

A)



B)



C)



Hangi tavuğun civcivleri **daha fazladır**?

A)



B)

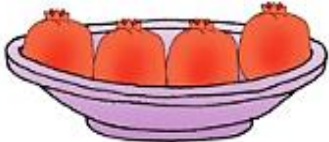


C)

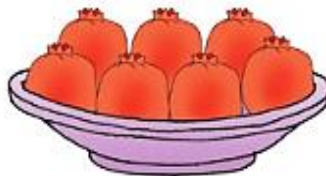


Narı **az** olan tabak hangisidir?

A)



B)



C)

