



1. Bölüm: GEOMETRİ



Nesneleri Tanıyalım

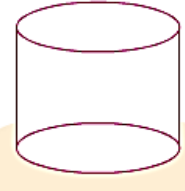
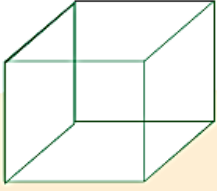
Küreye Benzeyen Nesneler



Aşağıdaki nesnelere küreye benzeyenleri işaretleyelim.
Adlarını söyleyelim.




Aşağıdaki resimlerden küreye benzeyenleri boyayalım.



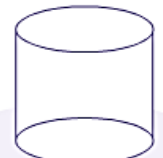
Silindire Benzeyen Nesneler



Aşağıdaki nesnelere silindire benzeyenleri işaretleyelim.
Adlarını söyleyelim.



Aşağıdaki resimlerden silindire benzeyenleri boyayalım.

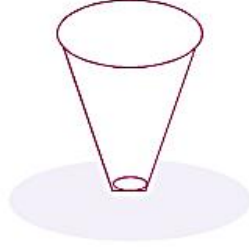
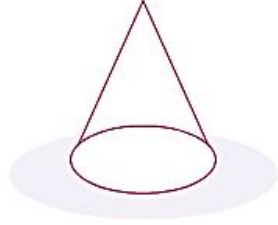


Koniye Benzeyen Nesneler

 Aşağıdaki nesnelere koniye benzeyenleri işaretleyelim.
Adlarını söyleyelim.

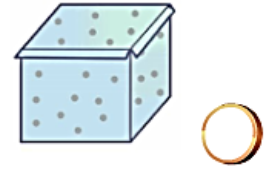


Aşağıdaki resimlerden koniye benzeyenleri boyayalım.

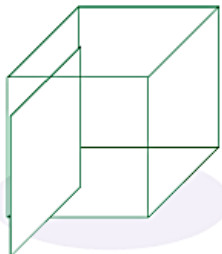



Küpe Benzeyen Nesneler

 Aşağıdaki nesnelere küpe benzeyenleri işaretleyelim.
Adlarını söyleyelim.



Aşağıdaki resimlerden küpe benzeyenleri boyayalım.





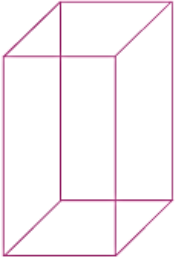
Prizmaya Benzeyen Nesneler



Aşağıdaki nesnelere inceleyelim. Adlarını söyleyelim.



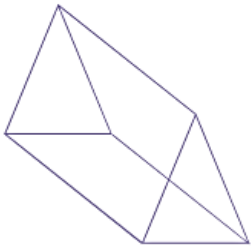
Buzdolabı, kibrit kutusu, çadır gibi nesnelere **prizmaya** benzer.



Yandaki prizmaya benzeyen nesnelere işaretleyelim. Adlarını söyleyelim.



Yandaki prizmaya benzeyen nesnelere işaretleyelim. Adlarını söyleyelim.

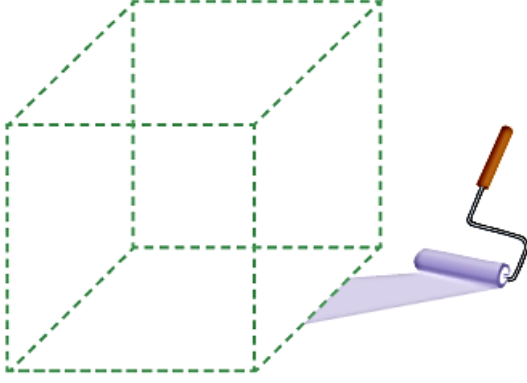


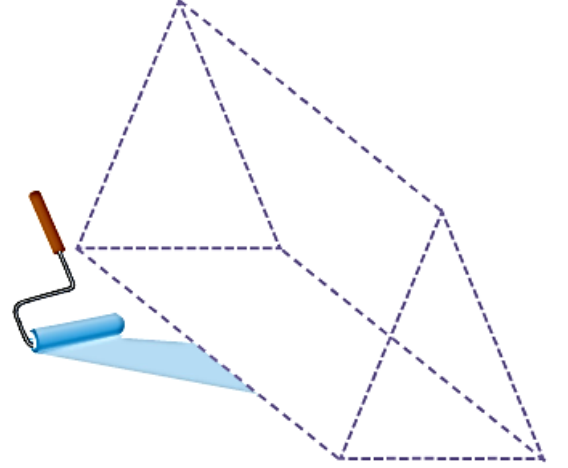
Yandaki prizmaya benzeyen nesnelere işaretleyelim. Adlarını söyleyelim.

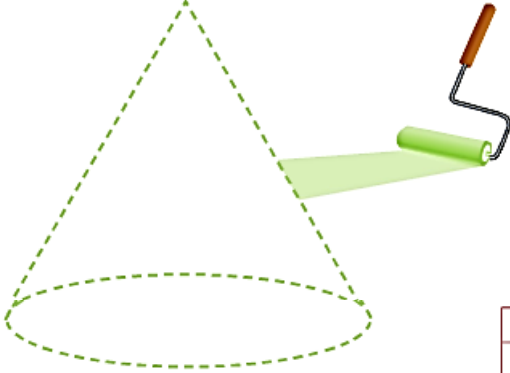


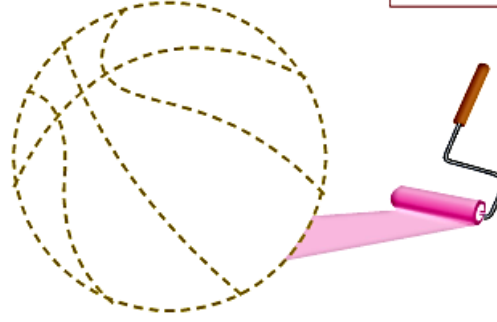


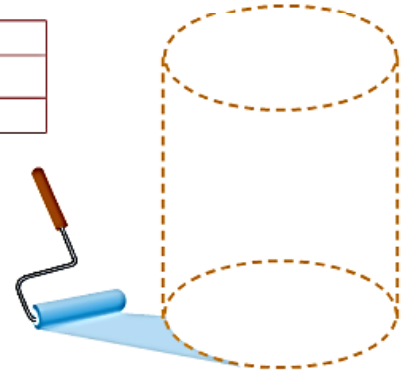
Kesikli çizgilerin üzerinden giderek geometrik cisimleri çizelim. Çizdiğimiz geometrik cismin adını yazıp boyayalım.










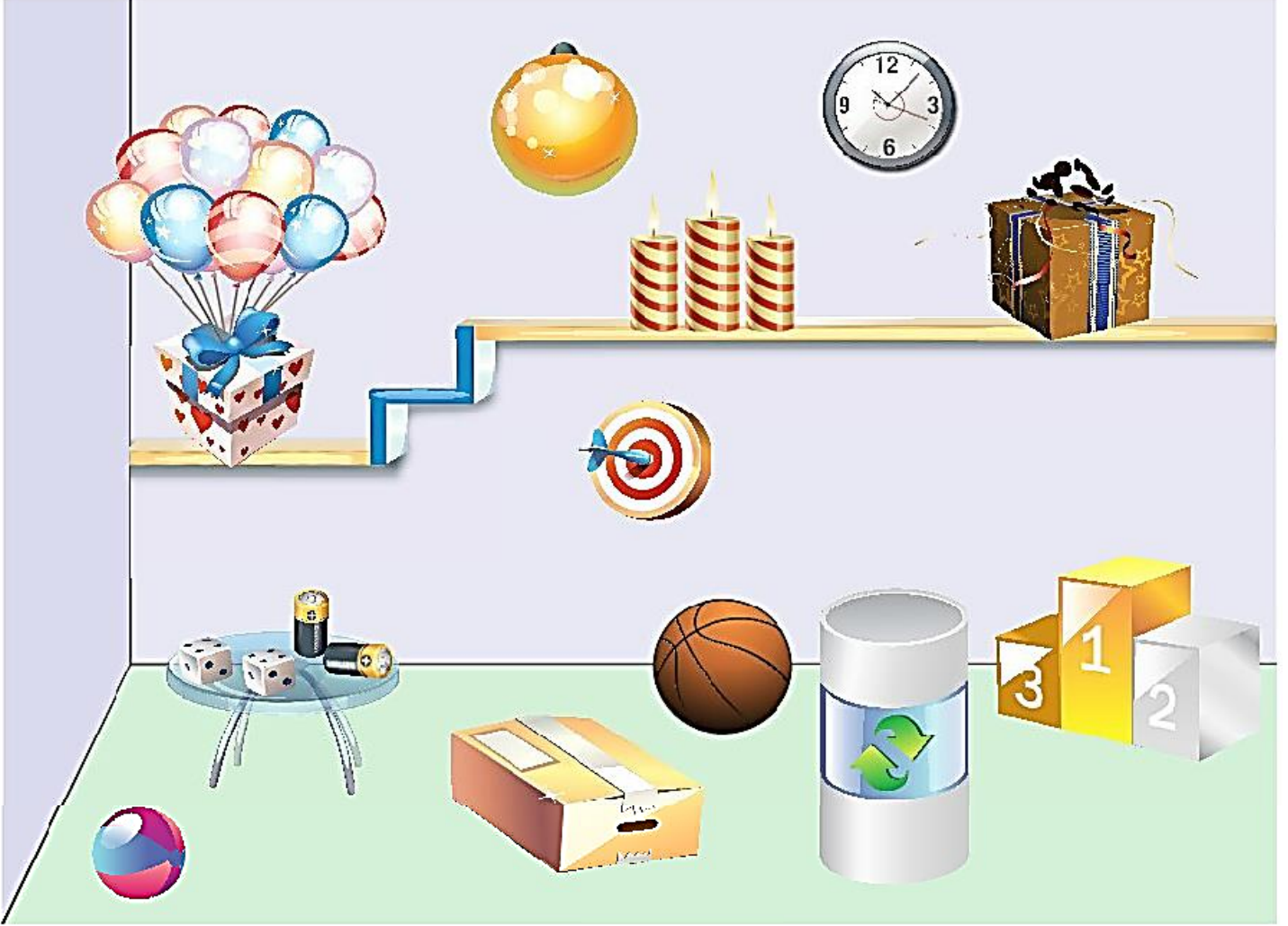








Aşağıdaki resmi inceleyelim. Noktalı yerleri resme göre tamamlayalım.



Küpe benzeyen nesnelere:


Silindire benzeyen nesnelere:

Küreye benzeyen nesnelere:

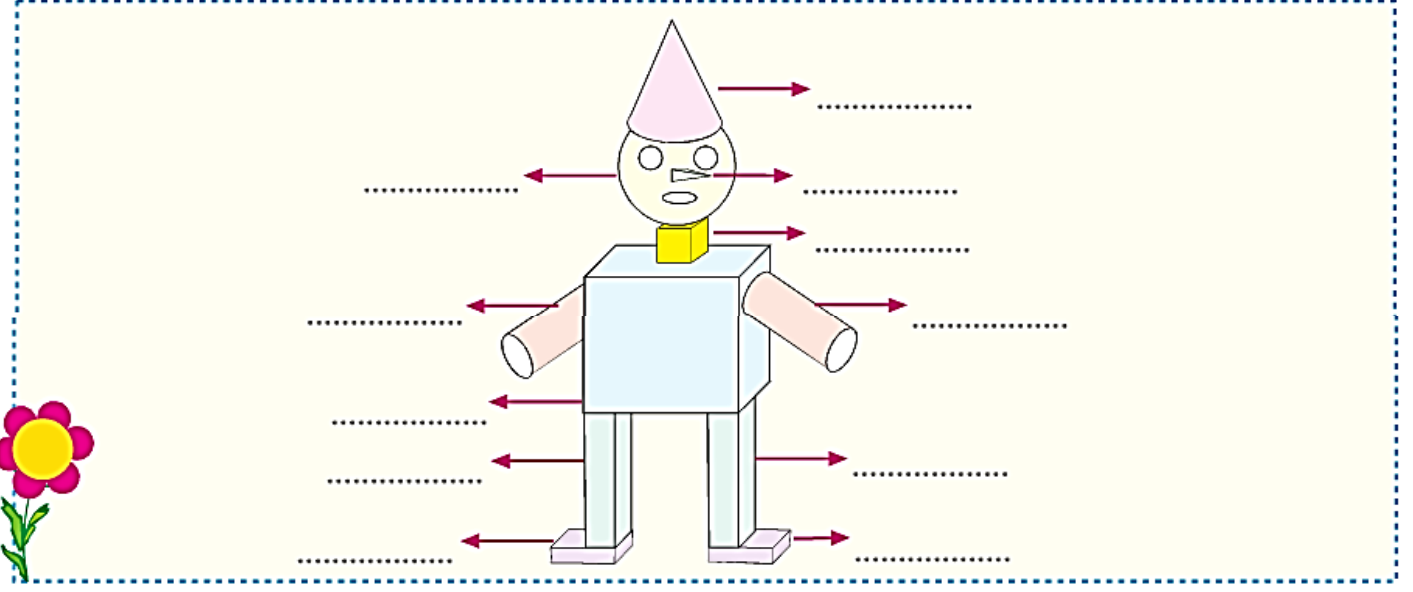
Prizmaya benzeyen nesnelere:




Aşağıdaki oyuncaqlarda hangi geometrik cisimler kullanılmıştır? Söyleyelim.



Aşağıdaki robotta hangi geometrik cisimler kullanılmıştır? Söyleyelim ve yazalım.



Aşağıdaki şekillerde hangi geometrik cisimler vardır? Yazalım.



1. Aşağıdaki nesnelere hangisi küreye örnektir?



2.



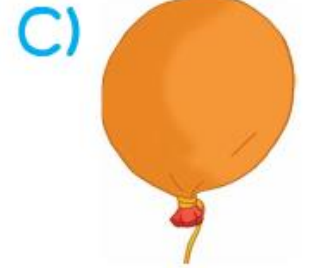
Yukarıdaki nesnelere hangisine örnektir?

A) Prizma

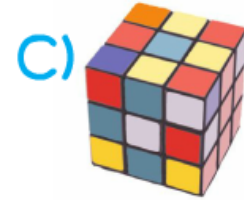
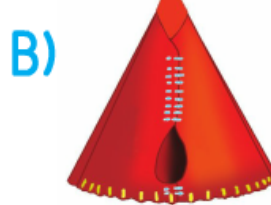
B) Küp

C) Koni

3. Aşağıdakilerden hangisi silindire örnek **olamaz**?



4. Aşağıdaki nesnelere hangisi, farklı bir geometrik şekildedir?



5. Yandaki görselde aşağıdaki geometrik şekillerden hangisine örnek **yoktur**?



A) Küp

B) Koni

C) Küre

1. Aşağıdaki nesnelere hangisi prizmaya benzer?

A)



B)



C)



2. Aşağıdaki nesnelere hangisi küpe benzer?

A)



B)



C)



3. Aşağıdaki nesnelere hangisi prizmaya benzemez?

A)



B)



C)



4. Yukarıdaki nesnelere kaç tanesi prizmaya benzer?

A) 3

B) 2

C) 1

5. Şeyma, küre biçimindeki eşyaları okula götürmek istiyor. Şeyma hangi eşyaları almalıdır? İşaretleyerek gösteriniz.

