



Bu nesnelere küreye benzer.



Resimde küreye benzeyen nesnelere gösterip söyleyiniz.
Küreye benzeyen nesnelere Elif'in küresiyle eşleştiriniz.



Resimleri verilen nesnelere küreye benzeyene 😊 çiziniz.





Bu nesnelere prizmaya benzer.



Resimde prizmaya benzeyen neler var? Prizmaya benzeyen nesnelere Hasan'ın kutusuyla eşleştiriniz.

1. Şeyma, küre biçimindeki eşyaları okula götürmek istiyor. Şeyma hangi eşyaları almalıdır? İşaretleyerek gösteriniz.



2. Resimleri verilen eşyalardan prizmaya benzeyenleri işaretleyerek gösteriniz.





3. Küpe benzeyen nesneleri işaretleyiniz.



4. Aşağıdaki nesneleri benzedikleri geometrik cisimlerin isimleri ile eşleştiriniz.



küre



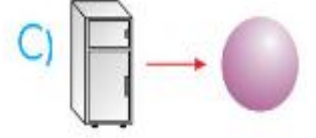
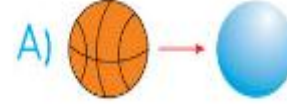
prizma




küp



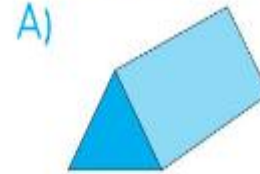
1. Aşağıdaki eşleştirmelerden hangisi yanlıştır?



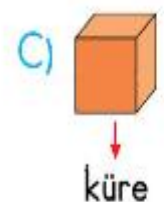
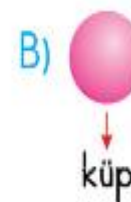
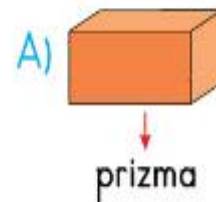
2. Aşağıdakilerden hangisi küreye benzer?



3. Aşağıdakilerden hangisi prizmaya benzemez?



4. Aşağıdaki eşleştirmelerden hangisi doğrudur?






1. Aşağıdaki nesnelere hangisi prizmaya benzer?



Bu nesnelere silindire benzer.



2. Aşağıdaki nesnelere hangisi küpe benzer?



Silindire benzeyen nesnelere işaretleyiniz.

3. Aşağıdaki nesnelere hangisi prizmaya benzemez?



4. Yukarıdaki nesnelere kaç tanesi prizmaya benzer?

A) 3

B) 2

C) 1

1. Aşağıdaki nesnelere hangisi silindire benzer?




2. Aşağıdaki eşleştirmelerden hangisi yanlıştır?



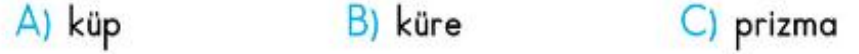
3. Yandaki yapıyı oluşturmak için hangi geometrik cisim modeli kullanılmamıştır?



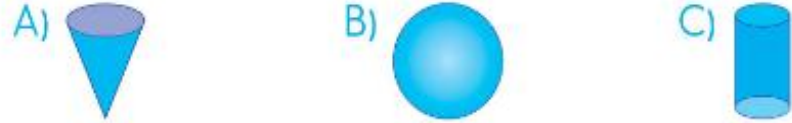
4. Aşağıdaki geometrik cisimlerden hangisi yandaki resimde yoktur?




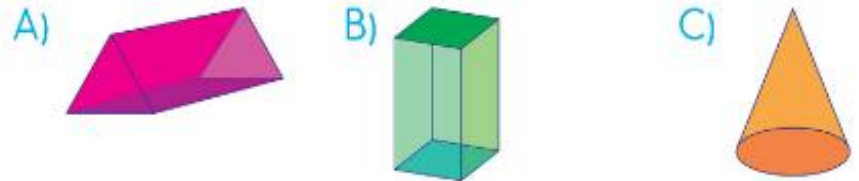
5. En küçük turuncu renkli cisim nedir?



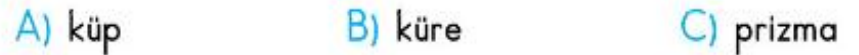
6. Aşağıdakilerden hangisi küreye benzer?



7. Aşağıdaki geometrik cisimlerden hangisi prizma değildir?



8. En büyük yeşil renkli cisim nedir?





Bu nesnelere koniye benzer.



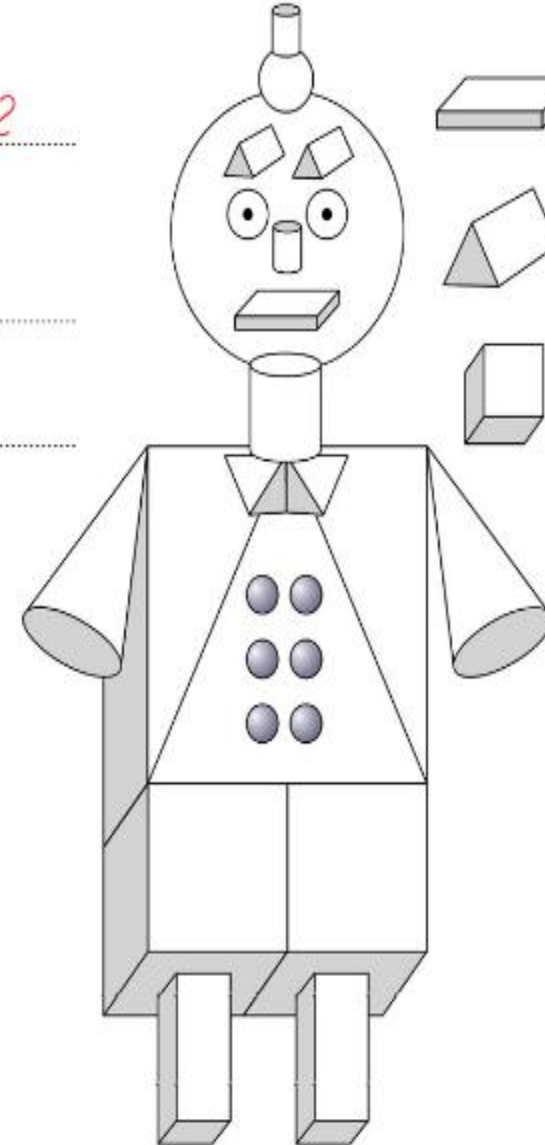
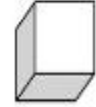
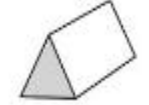
Koniye benzeyen nesnelere işaretleyiniz.



Robotu inceleyiniz. Robotun hangi geometrik cisimlerden oluştuğunu söyleyiniz. Robottaki geometrik cisimlerin sayısını örnekteki gibi yazınız.



2





1. Aşağıdaki nesnelere hangisi silindire benzer?



2. Aşağıdaki nesnelere hangisi koniye benzer?



3. Aşağıdaki nesnelere hangisi silindire benzemez?



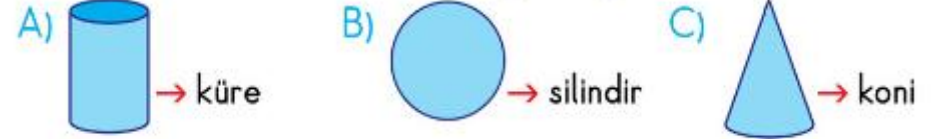
4. Aşağıdaki nesnelere hangisi küreye benzer?



5. Aşağıdaki nesnelere hangisi küreye benzemez?



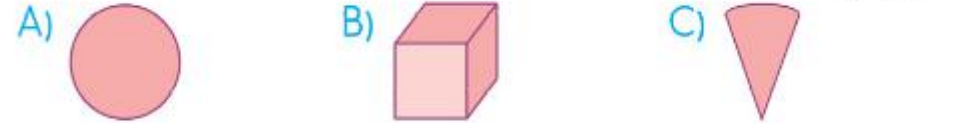
6. Aşağıdaki eşleştirmelerden hangisi doğrudur?



7. Kardan adamı oluşturmak için hangi geometrik cisim modeli kullanılmamıştır?



8. Yandaki yapıyı oluşturmak için hangi geometrik cisim modeli kullanılmamıştır?



ÇEVREMİZDE KÜREYE BENZEYEN NESNELER

■ Aşağıdaki resmi inceleyelim. Resimde gördüklerimizi anlatalım. Küreye benzeyen varlıkları işaretleyelim.



■ Evinizde küreye benzeyen nesnelere neler olabileceğini arkadaşlarınızla tartışınız.

HANGİSİ KÜRE?

■ Küreye benzeyen nesnelere boyayınız.



■ Küreye benzeyen nesnelere işaretleyiniz.



■ Küreye benzemeyen nesnelere işaretleyiniz.



PRİZMAYI TANIYORUZ

■ Aşağıdaki eşyalardan prizmaya benzeyenleri işaretleyiniz.




BOYAYALIM

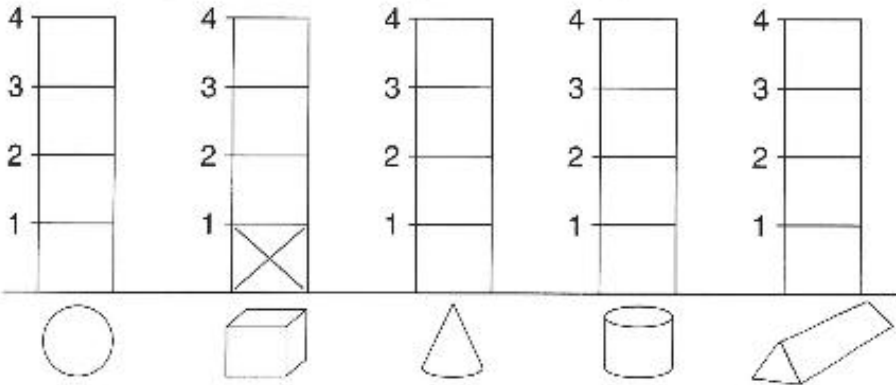
■ Aşağıdaki resmi boyayınız. Küreye ve prizmaya benzeyenleri gösteriniz.




SİLİNDİR VE KONİYİ TANIYORUZ




■ Yukarıdaki resimleri inceleyelim. Her nesneden kaç tane olduğunu örnekteki gibi işaretleyelim.



EŞLEŞTİRELİM

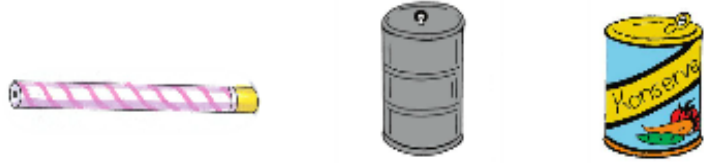


■ Yukarıdaki resimleri inceleyelim. Benzerlerini bulup aynı renge boyayalım.

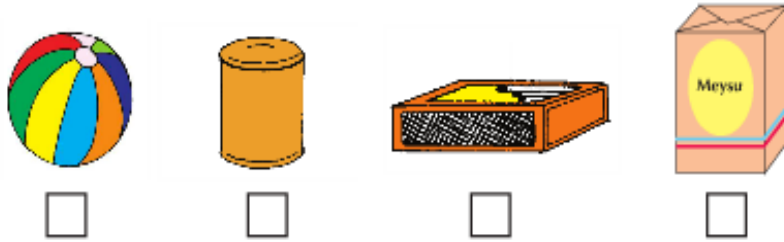


Silindire Benzeyen Varlıklar

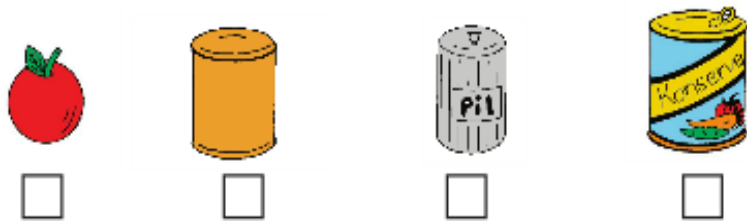
- Çöp bidonu, konserve kutusu ve açılmamış kurşun kalem **silindire** benzeyen varlıklardır.



- Çevrenizden silindire benzeyen varlıkları söyleyiniz.
- Aşağıdaki varlıklardan **silindire benzeyeni** seçip işaretleyiniz.

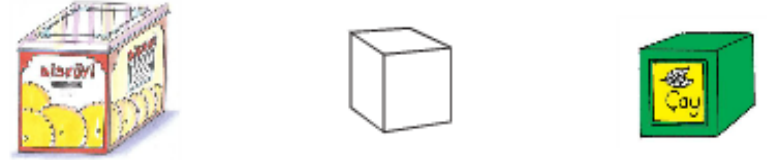


- Aşağıdaki varlıklardan **silindire benzemeyeni** seçip işaretleyiniz.

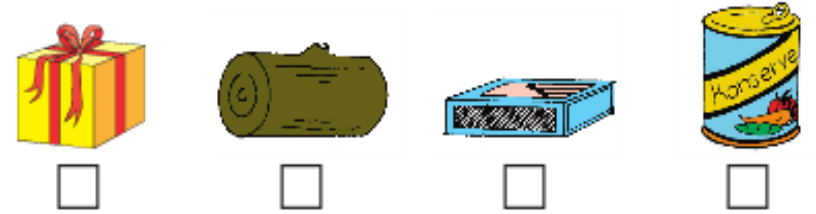


Küpe Benzeyen Varlıklar

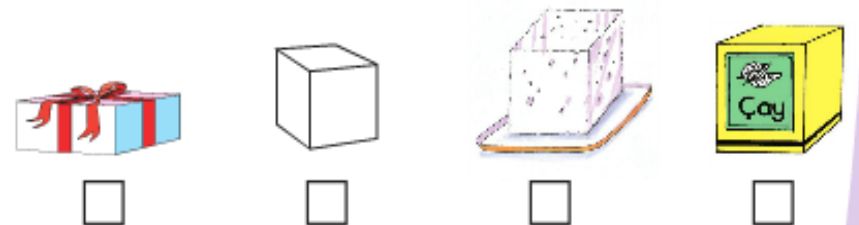
- Bisküvi kutusu, küp şeker ve çay kutusu **küpe** benzeyen varlıklardır.



- Çevrenizden küpe benzeyen varlıkları söyleyiniz.
- Aşağıdaki varlıklardan **küpe benzeyeni** seçip işaretleyiniz.




- Aşağıdaki varlıklardan **küpe benzemeyeni** seçip işaretleyiniz.



Dikdörtgenler Prizmasına Benzeyen Varlıklar

• Kibrit kutusu, kitap ve televizyon ekranı **dikdörtgenler prizmasına** benzeyen varlıklardır.

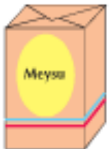


• Çevrenizden dikdörtgenler prizmasına benzeyen varlıkları söyleyiniz.

• Aşağıdaki varlıklardan **dikdörtgenler prizmasına benzeyeni** seçip işaretleyiniz.




• Aşağıdaki varlıklardan, **dikdörtgenler prizmasına benzemeyeni** işaretleyiniz.



ETKİNLİK

1. Palyaçonun kafası hangi şekle benziyor? Boyayınız.



2. Aşağıdaki varlıklardan **küpe benzeyeni** işaretleyiniz.



3. Aşağıdaki varlıklardan **silindire benzemeyeni** işaretleyiniz.



4. Aşağıdaki varlıklardan **dikdörtgenler prizmasına benzemeyeni** işaretleyiniz.

