

ÖRÜNTÜ VE SÜSLEMELER

Kazanım 1: Bir örüntüdeki ilişkiyi belirler.



Nesnelerin, belli bir düzen içinde yerleştirilmesi bir örüntü oluşturur.



Örüntünün öğeleri sırasıyla **elma - armuttur.**



Örüntünün öğeleri sırasıyla **dondurma - dondurma - balondur.**




Yukarıdaki örüntünün sırası **şeklindedir.**



Aşağıdaki örüntüleri oluşturan öğeleri örnekteki gibi gösteriniz.



Aşağıdaki resimlerden keserek örüntüler oluşturunuz.



Baskı tekniği ile oluşturulan örüntüyü inceleyiniz. Örüntüyü oluşturan öğeleri bulunuz. Sizler de benzer örüntüler oluşturabilirsiniz.



1. HAFTANIN TESTİ



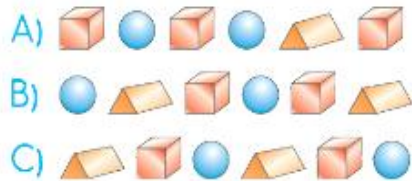
1. Örüntüyü oluşturan öğeler sırasıyla aşağıdakilerden hangisidir?



2. Aşağıdakilerden hangisi örüntüdür?



3. Aşağıdakilerden hangisi yukarıdaki nesnelere oluşturulan bir örüntüdür?



4. Aşağıdakilerden hangisi örüntü değildir?



5. Aşağıdakilerden hangisi örüntüdür?



6. Aşağıdakilerden hangisi örüntü değildir?



7. Yukarıdaki örüntüyü oluşturan öğeler sırası ile hangileridir?



ÖRÜNTÜ

Kazanım 2: Bir örüntüdeki eksik bırakılan öğeleri belirleyerek tamamlar.

Örüntünün kaç öğeden oluştuğunu bularak örüntüdeki ilişkiyi belirleyip örüntüyü devam ettirebiliriz.

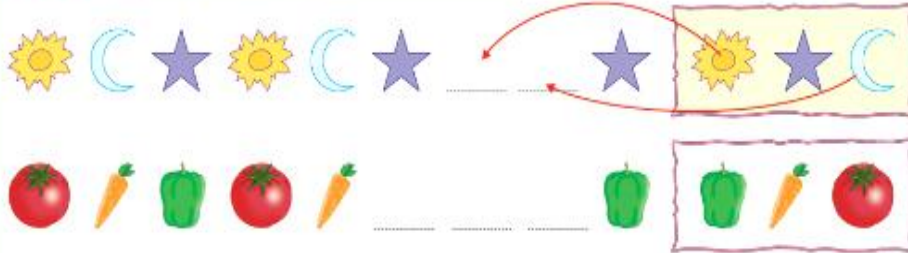


Merak ediyorum, eksik bırakılan öğe acaba ne?

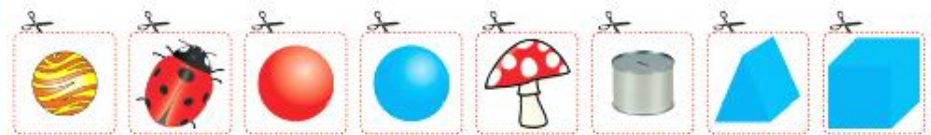
Örüntünün öğeleri sırasıyla küp-küre-küredir. Eksik bırakılan öğe küptür.



Örüntüde eksik bırakılan yerlere gelecek öğeleri örnekteki gibi eşleştirerek gösteriniz.



Örüntüde eksik bırakılan öğeleri aşağıdan keserek yerlerine yapıştırınız.



2. HAFTANIN TESTİ

1. Yandaki öğeler aşağıdaki örüntülerden hangisini tamamlar?



- A)
 B)
 C)



2. Yukarıdaki örüntüde tekrar eden bölüm aşağıdakilerden hangisidir?

- A) B) C)



3. Örüntünün eksik öğeleri sırasıyla nelerdir?

- A) B) C)

4. Yandaki üç öğenin oluşturduğu örüntü aşağıdakilerden hangisidir?



- A)
 B)
 C)



5. Örüntünün eksik bırakılan öğeleri aşağıdakilerden hangisidir?

- A) B) C)



6. Örüntüde eksik bırakılan öğeler aşağıdakilerden hangisidir?


- A) B) C)



7. Örüntüde eksik bırakılan öğeler aşağıdakilerden hangisidir?

- A) B) C)

• Aşağıdaki nesnelerin nasıl sıralandıklarını söyleyiniz.



• Aşağıdaki nesnelerin sıralanışını inceleyiniz. Boş yerleri tamamlayınız.



* Örüntülerin sıralanma kurallarını altına yazınız.



Kuralı.....



Kuralı.....

* Örüntüleri tamamlayan nesnelere işaretleyiniz.




* Örüntüleri kuralına uygun boyayarak devam ettiriniz.



• Aşağıdaki nesnelere inceleyiniz. Sırayı bozan nesneyi işaretleyiniz.



1. Aşağıda verilen örüntüde boş bırakılan kutuya hangi resim gelmelidir?



2. Aşağıda verilen örüntüde boş bırakılan kutuya hangi resim gelmelidir?



3. Aşağıda verilen örüntüde boş bırakılan kutuya hangi resim gelmelidir?



Örüntüdeki eksik şekli çizerek tamamlayınız.

