


ZAMANI ÖLÇELİM

Saat: Bir günlük sürenin yirmi dört eşit parçasından bir parçası. Zamanı ölçen araç.



Akrep: Saatin iki ibresinden küçük olanı. Saatleri gösterir.



Yelkovan: Saatin iki ibresinden büyük olanı. Saatin dakikalarını gösterir.



Bir işin veya bir oluşun içinde geçtiği, geçeceği, geçmekte olduğu süreye **zaman** diyoruz. Bu zamanı da saatle ölçeriz.

Saat üzerindeki kısa kol saat başlarını belirtir. Kısa olan kola **akrep** denir.



Saat üzerindeki uzun kol dakikayı belirtir. Uzun olan kola **yelkovan** denir.



Yelkovan, saat başlarında daima 12'nin üzerinde olur.

Aşağıda verilen saat modelleri üzerinde istenilen saati, örnekteki gibi gösteriniz, noktalı yerleri tamamlayınız.



saat tam 1



..... 7



..... 2



..... 8



..... 5



..... 10



..... 6















..... 12



Akrep 3'ü gösteriyor. Yelkovan
12'yi gösteriyor. Saat: Üç.













1. Aşağıdaki saatler kaç gösteriyor? Bulunuz.

Altlarına yazınız.

 Saat:	 Saat:	 Saat:
 Saat:	 Saat:	 Saat:
 Saat:	 Saat:	 Saat:
 Saat:	 Saat:	 Saat:

2. Aşağıdaki saatlerin kaç olduğu altlarında
verilmiştir. Saat kadranında akrep ve yelkovan
çizerek gösteriniz.



 Saat: 5	 Saat: 7	 Saat: 9
 Saat: 11	 Saat: 4	 Saat: 2
 Saat: 1	 Saat: 10	 Saat: 8
 Saat: 3	 Saat: 6	 Saat: 12



Saat

Deniz zamanını çok iyi kullanıyor. Saatinde yatıyor, saatinde kalkıyor. Okula gittiği saat bellidir.



Saat modellerine Deniz'in gün içinde yaptıklarına göre akrep ve yelkovan çiziniz. Sabah saat 7'de yataktan kalkar.



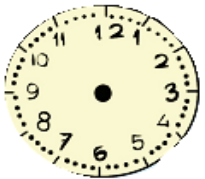
Sabah 8'de kahvaltı yapar.



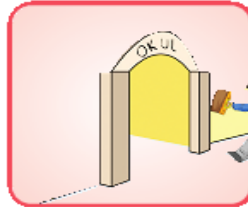
Sabah 9'da okulda olur.



Saat 12'de öğle yemeği yer.



Saat 6'da ev ödevlerini yapar.



satılmayan ccaak

* Noktalı bölümleri uygun sözcükleri kullanarak tamamlayınız.

dakikayı akrep saati yelkovan

Saatin üzerindeki uzun kola..... denir.
.....gösterir.

Saatin üzerindeki kısa kola..... denir.
.....gösterir.



* Aşağıdaki saatlerin kaç gösterdiğini altlarına yazınız.



Saat:



Saat:



Saat:



Saat:

* Verilen saatlerin akrep ve yelkovanlarını çiziniz.



Saat: 5



Saat: 11



Saat: 3



Saat: 7

* Aşağıdaki problemleri çözünüz.

1 - Cansu, saat 8'de evinden çıktı ve saat 11'de evine döndü. Cansu, kaç saat sonra evine dönmüştür?

2 - Kerem, saat 9'da kütüphaneye gitti. 3 saat sonra eve döndü. Kerem, eve geldiğinde saat kaç göstermektedir?

.....

satılmayan ccaak