

- Görselleri inceleyelim. Soruları yanıtlayıp işaretleyelim.



Deniz topu şemsiyenin  
Havlu şemsiyenin  
Çocuk şemsiyenin

Üstünde	Altında
<input type="radio"/>	<input type="radio"/>
<input type="radio"/>	<input type="radio"/>
<input type="radio"/>	<input type="radio"/>



Dede ağacın  
Çocuklar göletin  
Nine ağacın

Solunda	Sağında	Etrafında
<input type="radio"/>	<input type="radio"/>	<input type="radio"/>
<input type="radio"/>	<input type="radio"/>	<input type="radio"/>
<input type="radio"/>	<input type="radio"/>	<input type="radio"/>

- Görselleri inceleyelim. Soruları yanıtlayıp işaretleyelim.



Sarı araba  
Mavi araba  
Kırmızı araba

Önde	Arkada	Ortada
<input type="radio"/>	<input type="radio"/>	<input type="radio"/>
<input type="radio"/>	<input type="radio"/>	<input type="radio"/>
<input type="radio"/>	<input type="radio"/>	<input type="radio"/>



Ayı  
Tavşan

Yüksekte	Alçakta
<input type="radio"/>	<input type="radio"/>
<input type="radio"/>	<input type="radio"/>

At çadırın  
Palyaço çadırın

İçinde	Dışında
<input type="radio"/>	<input type="radio"/>
<input type="radio"/>	<input type="radio"/>



- Görselleri inceleyelim. Soruları yanıtlayıp işaretleyelim.



Çukurda Tümsekte  
Kurt    
Tavşan



Yakınında Uzağında  
Ot atın    
Top atın



- Çok olan grubu işaretleyelim.



- Az olan grubu işaretleyelim.



- En çok olan grubu işaretleyelim.



- En az olan grubu işaretleyelim.



1. Hangi varlık sehpanın üstündedir?



2. Hangi ev çocuğun sağındadır?



3. Hangi kuzu ağılın içindedir?




4. Hangi köpek kulübenin arkasındadır?






### HANGİSİ YÜKSEKTE?

■ Aşağıdaki nesnelere yüksekte olanı gösterip işaretleyiniz.



### DOĞRULARI İŞARETLEYELİM

■ Aşağıdaki nesnelere en alçakta olanı gösterip işaretleyiniz.

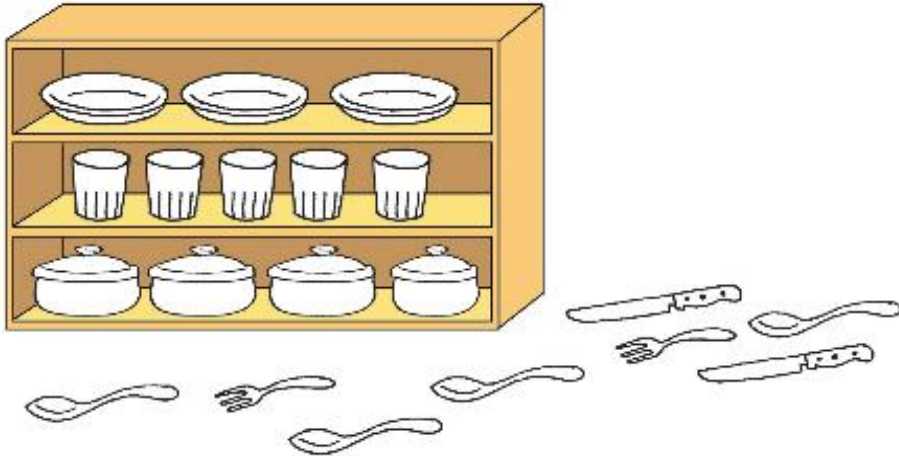


### HANGİSİ DAHA YAKINDIR?

- Öğretmene en yakın olan çocuğu daire içine alınız.
- Öğretmene en uzak olan çocuğu çarpı işareti (X) ile işaretleyiniz.



- Dolabın içinde olan nesneleri kırmızıya boyayınız.
- Dolabın dışında olan nesneleri maviye boyayınız.



### YERLERİNİ SÖYLEYELİM

- Aşağıdaki resmi inceleyiniz. Soruları resme göre yanıtlayınız.



- Yukarıdaki evcil hayvanları markete göre uzaktan yakına doğru numaralandırınız.




- Yukarıdaki evcil olmayan hayvanları markete göre yakından uzağa doğru numaralandırınız.



- Markete en yakın hayvan \_\_\_\_\_.


■ Sepetin içindeki köpekleri sarıya, dışındaki köpekleri kahverengiye boyayınız.



■ Tepsinin dışındaki pastaları ok işaretiyle tepsinin içine yerleştiriniz.



■ Aşağıdaki resimleri inceleyiniz. Noktalı yerlere "içindedir," ve "dışındadır," sözcüklerinden uygun olanını yazınız.



Çilek, tabağın .....

Karpuz, tabağın .....

Elma, tabağın .....

Armut, tabağın .....

Muz, tabağın .....

### TAMAMLAYALIM


■ Aşağıdaki resmi inceleyiniz. Noktalı yerleri resme göre tamamlayınız.



Vazo, kitapların .....

Fincan, kitapların .....

■ Şapkayı kardan adamın kafasına ok işaretiyle yerleştiriniz.



### GÖZLEMLEYELİM, YANITLAYALIM

■ Aşağıdaki soruları resme göre yanıtlayınız.



1. Size göre en sağda olan çocuğun adını yazınız.  
.....
2. Size göre en solda olan çocuğun adını yazınız.  
.....
3. Nazan'la Çetin'in arasındaki çocuğun adını yazınız.  
.....
4. Size göre Tülay'ın sağındaki çocuğun adını yazınız.  
.....
5. Size göre Tülay'ın solundaki çocuğun adını yazınız.  
.....
6. Tülay'ı, size göre en sağa ok işaretiyle yerleştiriniz.

### HANGİSİ ÖNDE

■ Aşağıdaki resmi inceleyiniz. Soruları resme göre yanıtlayınız.



1. Tünele göre en önde olan hayvanın adını yazınız.  
.....
2. Tünele göre en arkada olan hayvanın adını yazınız.  
.....
3. Kirpinin kaplumbağanın önüne yerleştirilişini ok işaretiyle gösteriniz.
4. Tavşanın iki varlığın en önüne yerleştirilişini ok işaretiyle gösteriniz.
5. Kaplumbağanın iki varlığın en arkasına yerleştirilişini okla gösteriniz.

### TÜMSEKTE, ÇUKURDA

■ Resmi inceleyiniz. Aşağıdaki boşlukları resme göre tamamlayınız.



Kız çocuk ..... Ağaç .....  
Erkek çocuk ..... Köpek .....

■ Tümsekte olan varlığın yanındaki kutucuğa T yazınız.  
Çukurda olan varlığın yanındaki kutucuğa Ç yazınız.

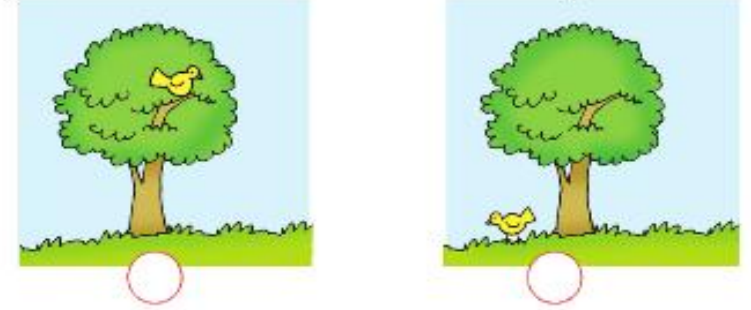


### ALTINDA, ÜSTÜNDE

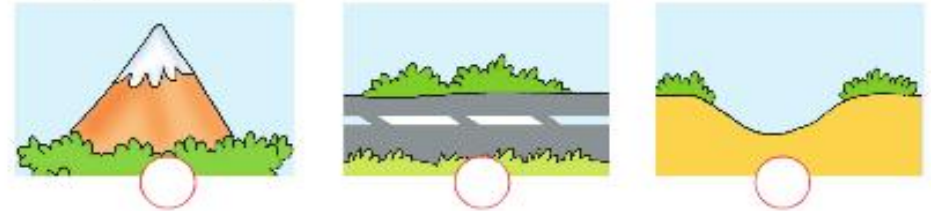
■ Masanın altında olan kediyi işaretleyiniz.



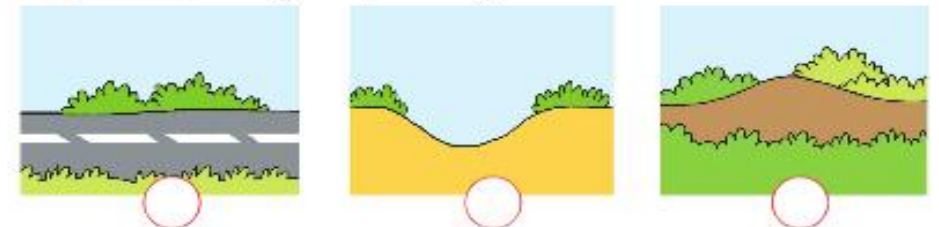
■ Ağacın üzerinde duran kuşu işaretleyiniz.




■ Çukur olan yeri işaretleyiniz.



■ Tümsek olan yeri işaretleyiniz.



1. Aşağıdaki nesnelere hangisi en yüksektir?




- A. kova B. halı C. bardak

2. Aşağıdaki çocuklardan hangisi en alçaktadır?



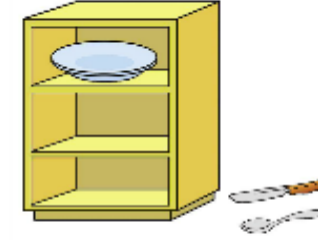
- A. Can B. Mert C. Okan

3. Hangi hayvan daha yakındır?



- A. inek B. tavuk C. koyun

4. Hangi nesne dolabın içindedir?



- A. bıçak B. kaşık C. tabak


5. Ayşe Zeynep'in sağında, Ebru da Ayşe'nin sağındadır. Buna göre kim ortadadır?

- A. Ebru B. Ayşe C. Zeynep

6. Ahmet'in 5 kalemi var. Mert'in kalemleri Ahmet'in kalemlerinden 2 fazladır. Emre'nin kalemleri Mert'in kalemlerinden 2 fazladır. Buna göre en çok kime kalem vardır?

- A. Mert B. Ahmet C. Emre

7. Durağa göre hangi araç en öndedir?



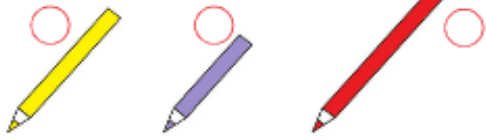
- A. otobüs B. kamyon C. bisiklet






## SIRALAYALIM


■ Aşağıdaki nesnelere sorulara göre işaretleyiniz.



■ En uzun kalem hangisidir?



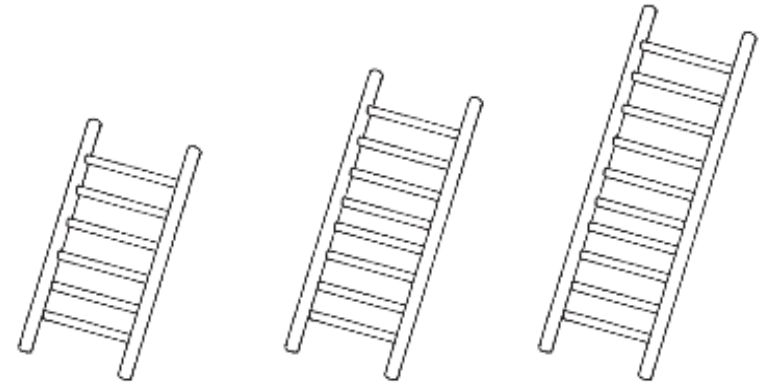
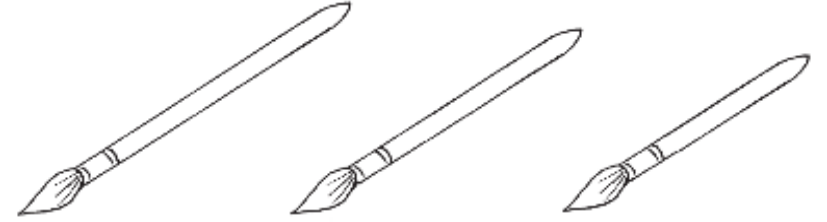

■ En kısa bayrak direği hangisidir?



■ En uzun olan çiçek ve ağacı çarpı işareti ile işaretleyiniz.


## BOYAYALIM

■ En kısa olan nesnelere kırmızıya, en uzun nesnelere sarıya boyayınız.



### UZUNLUKLARINA GÖRE SIRALIYORUZ

■ Aşağıdaki varlıkları uzundan kısaya doğru örnekteki gibi sıralayınız.



### EN KISADAN, EN UZUNA


■ Aşağıdaki varlıkları kısıdan uzuna doğru sıralayınız.



■ Aşağıdaki varlıklardan en kısa olanını gösterip işaretleyiniz.




■ Baştaki resmi ok işaretiyle sıraya koyunuz.



## İçinde ve Dışında

1. Sepetin içindeki köpekleri sarıya, dışındaki köpekleri kahverengiye boyayınız.



2. Tepsinin dışındaki pastaları ok işaretiyle tepsinin içine yerleştiriniz.



3. Aşağıdaki resimleri inceleyiniz. Noktalı yerlere "içinde" ve "dışında" sözcüklerinden uygun olanı yazınız.




Çilek, tabağın ..... dir. Karpuz, tabağın ..... dir.  
Elma, tabağın ..... dir. Armut, tabağın ..... dir.  
Muz, tabağın ..... dir.

## Uzak ve Yakın


• Aşağıdaki resmi inceleyiniz. Soruları resme göre cevaplayınız.



1. Yukarıdaki evcil hayvanları markete göre uzaktan yakına doğru numaralandırınız.



2. Yukarıdaki evcil olmayan hayvanları markete göre yakından uzağa doğru numaralandırınız.



## Üzerinde ve Altında




### ETKİNLİK

- Kitap, masanın üzerindedir.
- Köpek, masanın altındadır.



- Kediyi, kafesin altına ok işaretiyle yerleştiriniz.



- Vazoyu, sehpanın üzerine ok işaretiyle yerleştiriniz.



## Önde ve Arkada



### ETKİNLİK

- Aşağıdaki resmi inceleyiniz. Soruları resme göre yanıtlayınız.



1. Tünele göre en önde olan hayvanın adını yazınız.

2. Tünele göre en arkada olan hayvanın adını yazınız.

3. Kirpinin kaplumbağanın önüne yerleştirilişini ok işaretiyle gösteriniz.

4. Tavşanın iki varlığın en önüne yerleştirilişini ok işaretiyle gösteriniz.

5. Kaplumbağanın iki varlığın en arkasına yerleştirilişini okla gösteriniz.

## Çukur ve Tümsek



1. Resmi inceleyiniz. Aşağıdaki boşlukları resme göre tamamlayınız.




Kız çocuk ..... Ağaç .....  
Erkek çocuk ..... Köpek .....

2. Tümsekte olan varlığın yanındaki kutucuğa **T** yazınız.  
Çukurda olan varlığın yanındaki kutucuğa **Ç** yazınız.



## ÖĞRENDİKLERİMİZİ ÖLÇELİM 4



1. ve 2. soruları yukarıdaki resme göre yanıtlayınız.

1. Yukarıdaki resimde en yüksekte olan çocuk hangisidir?  
A. Ayşe B. Tülin C. Nilüfer

2. Yukarıdaki resimde en alçaktaki çocuk hangisidir?  
A. Tülin B. Nilüfer C. Ayşe

3. Aşağıdaki varlıklardan en ağır olanı hangisidir?  
A.  B.  C. 

4. Aşağıdaki varlıklardan hangisi en hafiftir?  
A. balon B. elma C. kabak



5., 6., 7. ve 8. soruları yukarıdaki resme göre yanıtlayınız.

5. Ağaca en yakın hayvan hangisidir?

- A. koyun      B. ördek      C. at

6. Ağaca en uzak hayvan hangisidir?

- A. at      B. koyun      C. ördek

7. Ördek ile at arasındaki hayvan hangisidir?

- A. ağaç      B. koyun      C. ördek

8. Koyunun arkasındaki hayvan hangisidir?

- A. ağaç      B. ördek      C. at



Resmi inceleyiniz. 9. ve 10. soruları resme göre cevaplayınız.


9. Yukarıdaki resme göre aşağıdakilerden hangisi doğrudur?

- A. Top sandalyenin altındadır.  
B. Uçurtma evin altındadır.  
C. Kuş arabanın altındadır.

10. "Uçurtma evin ..... ." cümlesinde noktalı bölüme aşağıdakilerden hangisini yazmalıyız?

- A. içindedir      B. altındadır      C. üstündedir

11.



Otoparka göre en öndeki araba hangi renktedir?

- A. kırmızı      B. mavi      C. sarı