




HAYAT BİLGİSİ GENEL TEKRAR TESTİ

1. Eda o gün okula gelmeyen arkadaşı Seda'nın hasta olduğunu öğrenince onu ziyarete gitti.

Buna göre, Seda'ya hangisini söylemelidir?

- A. Başın sağ olsun.
- B. Geçmiş olsun.
- C. Çok yaşa.

2.



Yukarıdaki ailelerden hangisi yapısı bakımından diğerlerinden farklıdır?

- A. I
- B. II
- C. III

3.



Babam balıkçıdır. Geceleri sık sık balık avlamaya çıkar. Yönünü bulmak için de Kutup Yıldızı'ndan yararlanır.

Buna göre, Ceyda'nın babası yüzünü Kutup Yıldızı'na dönerse sol kolu hangi yönü gösterir?

- A. batıyı
- B. güneyi
- C. doğuyu




4.




Evdeki kazaları önlemek için aşağıdakilerden hangisini yapmalıyım?

- A. Muslukları açık bırakmalıyım.
- B. Lambaları açık bırakmalıyım.
- C. Eşyaları yerine kaldırmalıyım.

5. Deprem anında aşağıda bulunanlardan hangisi daha güvenlidir?

- A. 
- B. 
- C. 

6. Üçüncü sınıfa başlayacak olan Zehra kumbarasında biriktirdiği paralarla öncelikle aşağıdakilerden hangisini alırsa parasını doğru kullanmış olur?

- A. 
- B. 
- C. 

7. Sena : Dişlerini fırçalarken musluğu açık bırakır.
Kerem : Bozuk paralarını hemen markette harcar.
Suat : Alışverişten sonra fiş ya da fatura alır.

Yukarıdaki öğrencilerden hangisinin bilinçli bir tüketici olduğu söylenebilir?

- A. Sena
- B. Kerem
- C. Suat

8. Evde kardeşi ile yalnız kalan Ece, odasında oynayan kardeşinin birden bayıldığını gördü.

Bu durumda Ece, aşağıdaki telefonlardan hangisini aramalıdır?

- A. 110
- B. 112
- C. 156

Bilgi yüktür, paylaştıkça azalır.



9.



Aşağıdaki atasözlerinden hangisi tasarrufla ilgili değildir?

- A. Güvenme varlığa, düşersin darlığa.
- B. Tatlı dil, yılanı deliğinden çıkarır.
- C. İşten artmaz, dişten artar.

10.

Erhanların ailesinde evdeki yemek, bulaşık, temizlik, alışveriş gibi işlerin hepsini annesi yapıyor ve çok yoruluyor.

Bu duruma göre, Erhanların ailesi hakkında hangisi söylenebilir?

- A. Bu ailedeki bireyler çok yardımseverdir.
- B. Bu ailede herkes üzerine düşen görevi yapmaktadır.
- C. Bu ailede görev dağılımı adil değildir.

11. Arkadaşlarından olumsuz bir eleştiri alan Bahar, hangisini yapmalıdır?

- A. Kendini eleştirenleri o da eleştirmelidir.
- B. Eleştirileri önemsemelidir.
- C. Kendini eleştirenlere küsmelidir.

12.



Aşağıdakilerden hangisi ailemizle birlikte kutladığımız özel günlerden değildir?

- A. Öğretmenler Günü
- B. Doğum günü
- C. Ramazan Bayramı

13. Aşağıdakilerden hangisi bir yönüyle diğerlerinden farklıdır?

- A. Kurban Bayramı
- B. Cumhuriyet Bayramı
- C. Ramazan Bayramı

14.



Yukarıdaki haritada, yurdumuzu düşmanlardan kurtarma çareleri arayan Mustafa Kemal'in Kurtuluş Savaşı öncesinde hazırlık yaptığı iller verilmiştir.

Bu illerimizin sıralanışı hangi seçenekte doğru verilmiştir?

- A. İzmir-Sinop-Amasya-Sivas-İstanbul-Eskişehir
- B. İstanbul-Samsun-Ankara-Amasya-Erzurum-Sivas
- C. İstanbul-Samsun-Amasya-Erzurum-Sivas-Ankara

15. Daha güzel bir dünya oluşturmak için üzerimize düşen görevler arasında hangisi yoktur?

- A. Ormanları tahrip etmek.
- B. Atmosferi korumak.
- C. Doğal kaynakları bilinçli kullanmak

16.



Eşyalar aynı maddelerden yapılır.



İsteklerimizi ihtiyaçlarımızdan sonra karşılamalıyız.



Haritada karalar kahverengi tonlarıyla gösterilir.

Hangi çocuklar doğru bilgi vermiştir?

- A.
- B.
- C.

Bilgi yüktür, paylaştıkça azalır.

