

3. SINIF HAYAT BİLGİSİ KONU TESTİ

- * Okul Hazırlığını Yaptın mı?
- * Yaşamın Zenginlikleri
- * Benim Arkadaşlarım Nasıl Olmalı?
- * Doğru ve Etkili İletişim

Adım:
Soyadım:
Sınıfım:
Numaram:

TEST - 1

HATIRLAYALIM

- * Okula gitmeden önce ders programına göre çantamızı hazırlamalıyız.
- * Okula hazırlıklı gitmezsek hem öğretmenimize hem de arkadaşlarımıza karşı mahcup duruma düşebiliriz.
- * Hepimizin farklı özellikleri, yetenekleri vardır ve hepimizin ilgili alanları farklıdır.
- * Arkadaşlarımızı seçerken çok dikkatli olmalıyız ve arkadaşlarımızın özelliklerinin bizim yapımıza uyup uymadığına önem vermeliyiz.
- * Karşımızdaki insanla etkili bir **iletişim** kurabilmek için; ses tonumuza, açık ve net konuşmaya, kibar olmaya özen göstermeliyiz.

1

- Konuşurken dinleyicinin gözlerine bakar.
 - Söylemek istediğini doğru ifade eder.
 - Gerekli yerlerde vurgu yapar.
- Yukarıda verilenlerden kaç tanesi etkili bir konuşmacıda olması gereken özelliklerdendir?

A) 1 B) 2 C) 3

2

Aşağıdaki ifadelerden hangisi yanlıştır?

- A) Bazı arkadaşlarımızla aynı boy ve kiloda olabiliriz.
- B) Bazı insanlar aynı müzik türünden hoşlanabilir.
- C) Bizimle aynı şeylerden hoşlanmayan arkadaşlarımızla iletişim kurmamalıyız.

3

- ★ Ders çalışmak
- ▲ Çantamızı hazırlamak
- Ders programına bakmak
- Okula gitmek

Yukarıdaki olayları hangi sıra ile gerçekleştiririz?

- A) ★ ● ▲ ■ B) ■ ★ ▲ ●
C) ● ★ ▲ ■

4

Aşağıdaki öğrencilerden hangisinin davranışı doğrudur?

- A) Serkan, arkadaşı konuşurken sözünü keser.
- B) Cihan, konuşurken karşısındakiyle göz teması kurar.
- C) Seda, öğretmeninden söz hakkı almadan konuşur.

5

Aşağıdaki ifadelerden hangisi doğrudur?

- A) Dürüst kişilerle herkes arkadaş olmak ister.
- B) Somurtkan kişiler çok sevilir.
- C) Kötü sözler kullanan kişilerle arkadaşlık etmeliyiz.

6

- Hoşgörülü olmak
- Sözünde durmak
- Saygılı olmak

Yukarıda iyi arkadaşlarda olması gereken özellikler verilmiştir.

Aşağıdakilerden hangisi bu özelliklere eklenemez?

- A) Yardımsever olmak
- B) Sır tutmak
- C) Bencil olmak

7

Aysun eşofmanını evde unuttuğu için derse katılamamıştır.

Buna göre, Aysun hangi derse katılamamıştır?

- A) Türkçe
- B) Matematik
- C) Beden Eğitimi

Pazartesi	Salı	Çarşamba	Perşembe	Cuma
Türkçe	Hayat Bilgisi	Matematik	Hayat Bilgisi	Matematik
Türkçe	Hayat Bilgisi	Matematik	Türkçe	Türkçe
Matematik	Türkçe	Türkçe	Matematik	Hayat Bilgisi
Matematik	Türkçe	Beden Eğitimi	Görsel Sanatlar	Müzik
Hayat Bilgisi	Matematik	Beden Eğitimi	Görsel Sanatlar	Müzik

Yukarıdaki ders programına göre 8 ve 9. soruları cevaplayınız.

8

Programa göre çarşamba günü öğrenci hangi araç gereçleri yanına almalıdır?

- A) Flüt - Resim defteri - Eşofman
- B) Eşofman - Cetvel - Sözlük
- C) Boya kalemleri - Sözlük - Cetvel

9

Öğrenci flütünü evde unuttuğu için derse katılamamıştır.

Buna göre, bu olay hangi gün gerçekleşmiştir?

- A) Salı
- B) Cuma
- C) Perşembe

3. SINIF HAYAT BİLGİSİ KONU TESTİ

- * Duyarlı Olalım
- * Okulda Demokratik Yaşam
- * Tarafsız Olmalıyız
- * Sınıfımızın Krokisini Çizelim

Adım:
Soyadım:
Sınıfım:
Numaram:

TEST - 2

HATIRLAYALIM

- * Kişilerin duyarlılıklarına karşı saygılı davranmalıyız.
- * Bizim hoşlandığımız şeylerden başka bir arkadaşımız hoşlanmayabilir.
- * Okulda sınıfça yapacağımız etkinliklerde herkesin fikri alınarak karar verilmelidir.
- * Olaylar karşısında yanlı davranmamalıyız ve doğru ne ise onun yanında olmalıyız.
- * Kroki, bir yerin kuşbakışı görünümünün kabataslak çizimidir.
- * Kroki bir yeri daha kolay bulmamıza yardımcı olur.

1

Aşağıdakilerden hangisi bir duygu ifadesi değildir?

- A) Matematikten yüksek not alınca çok sevindim.
- B) Bu köprü çok uzun.
- C) Hayvanat bahçesindeki aslandan çok korktum.

2

Öfkemizi kontrol etmek için aşağıdakilerden hangisini yapmamalıyız?

- A) Derin derin nefes alıp vermeliyiz.
- B) İki yumruğumuzu iyice sıkıp sonra yavaşça gevşetmeliyiz.
- C) Bizi öfkeliendiren kişiye kötü sözler söylemeliyiz.

3

Öğretmen, sınıf içi bir etkinliğin yapılıp yapılmaması konusunda oylama yapmış ve öyle karar almıştır. Buna göre, öğretmenle ilgili aşağıdakilerden hangisi söylenebilir?

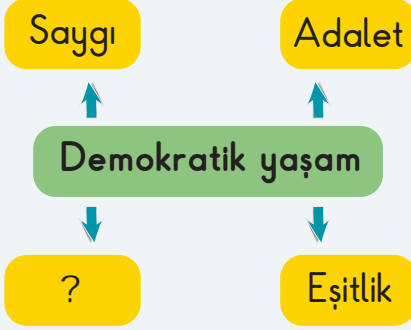
- A) Öğrencilerin görüşüne önem vermemektedir.
- B) Demokratik yaşamı benimsemiş bir öğretmendir.
- C) Baskıyla dediklerini kabul ettiren bir kişidir.

4

Aşağıdakilerden hangisi demokratik bir davranış değildir?

- A) Herkesin düşüncesine saygı göstermek.
- B) Fikrini açıkça, çekinmeden söylemek.
- C) Eşitlik ve adalete önem vermek.

5



Verilen şemada boş bırakılan yere aşağıdakilerden hangisi yazılabilir?

- A) Yalancılık
- B) Öfke
- C) Hoşgörü

6

Kroki ile ilgili aşağıda verilen ifadelerden hangisi yanlıştır?

- A) Bir yerin kuşbakışı çizimidir.
- B) Bilimsel ölçümler sonucu çizilir.
- C) Bir yeri daha kolay bulmamıza yardımcı olur.

7

Olaylar karşısında tarafsız olmalıyız ve doğruyu söylemeliyiz.

Doğru

Yanlış

Dürüst olursak arkadaşlarımızın güvenini kazanırız.

Yalan söylersek her zaman kazanırız.

Doğru

Yanlış

Doğru

Yanlış

1

2

3

4

Yukarıdaki ifadelerin doğru ya da yanlış olduğuna karar verilerek ilerlenirse hangi çıkışa ulaşılır?

A) 1

B) 2


C) 3

8


Kabataslak çizimdir.	Ülkelerin yeryüzü şekilleri hakkında bilgi verir.
Adres bulmak için kullanılabilir.	Geometrik şekillerle belirtilir.

Yukarıdaki kartta kroki ile ilgili verilen bilgilerden yanlış olanlar kesilip atılırsa kartın görünümü nasıl olur?


A)



B)



C)



3. SINIF HAYAT BİLGİSİ KONU TESTİ

Adım:

Soyadım:

Sınıfım:

Numaram:

- * Son Pişmanlık Fayda Etmez
- * Dostluk Kazansın
- * Okul Kuralları Bizim İçin

TEST - 3

HATIRLAYALIM

- * Okulumuzun ve sınıfımızın eşyalarını bilinçli kullanmalı ve korumalıyız.
- * Bir yarışmada rakibimiz kazandığında üzülmemeli ve onu tebrik etmeliyiz.
- * Okul kurallarına uymalıyız, çünkü bu kurallar bizim daha iyi eğitim almamız içindir.
- * Kurallara uymak hem bizim hem çevremizdekilerin yaşamı için önemlidir.
- * Bir spor karşılaşmasında bizi mağlup eden arkadaşımızı tebrik etmeliyiz.

1

Saygı

Bilgi

Sevgi

Hoşgörü

Bencillik

Cahillik

Yukarıdakilerden kaç tanesi okulun bize kattıkları arasında yer alır?

A) 3

B) 4

C) 5

2

Bir problemle karşılaştığımızda ne yapmalıyız?

A) Üzülüp ağlamalıyız.

B) Uygun bir çözüm yolu bulmaya çalışmalıyız.

C) Problemlerle ilgilenmemeliyiz.

3



Erkut

Okul eşyalarını bilinçli bir şekilde kullanmalıyız.



Cem

Laboratuvarında kullandığımız eşyaları eve götürmemeliyiz.

Yukarıdaki öğrencilerin ifadeleri için aşağıdakilerden hangisi söylenebilir?

A) Yalnız Cem'in ifadesi doğrudur.

B) Yalnız Erkut'un ifadesi doğrudur.

C) Her ikisinin de ifadesi yanlıştır.

4



Yapılan maçta Güneş Spor, Yıldız Spor'u yenmiştir.

Bu durumda Yıldız Spor'un oyuncularını nasıl davranırlarsa doğru olur?

- A) Güneş Spor'un oyuncularıyla kavga etmelidir.
- B) Yıldız Spor'un oyuncularını birbirlerine kaba sözler söylemelidir.
- C) Güneş Spor'un oyuncularını tebrik etmelidirler.

5



Yiyebileceğinden fazla ekmek alıp sonra çöpe atmak bütçemize zarar verir.



Boş yere harcanan enerji dış ülkelere bağımlılığımızı artırır.

Elmas

Yukarıdaki öğrencilerin ifadeleri için aşağıdakilerden hangisi söylenebilir?

- A) İlyas'ın ifadesi doğrudur.
- B) Elmas'ın ifadesi doğrudur.
- C) Her ikisinin de ifadesi doğrudur.

6

- Aldığımız ürünlerin bütçemize uygun olup olmadığına dikkat etmeliyiz.
- Aldığımız ürünün garanti belgesini almalıyız.
- Aldığımız gıdaların son kullanma tarihlerini kontrol etmeliyiz.

Yukarıdaki ifadelerden doğru olanların yanındaki kutucuğa "D", yanlış olanların yanındaki kutucuğa "Y" yazılıyor.

Buna göre, hangi seçenekte verilen doğrudur?

- | | | | | | |
|----|-------------------------|----|-------------------------|----|-------------------------|
| A) | <input type="radio"/> Y | B) | <input type="radio"/> D | C) | <input type="radio"/> D |
| | <input type="radio"/> D | | <input type="radio"/> Y | | <input type="radio"/> D |
| | <input type="radio"/> Y | | <input type="radio"/> Y | | <input type="radio"/> D |

7

Aşağıdakilerden hangisi okuldaki kurallardan biri değildir?

- A) Sınıfa öğretmenden sonra girmemeliyiz.
- B) Dersi dikkatli dinlemeli ve derste konuşmamalıyız.
- C) Karşıdan karşıya geçerken trafik ışıklarına dikkat etmeliyiz.

3. SINIF HAYAT BİLGİSİ KONU TESTİ

* Sağlık için El Ele
Acil Durum, Yardım
Edelim!

Adım:
Soyadım:
Sınıfım:
Numaram:

TEST - 4

HATIRLAYALIM

* Sağlığımızı korumak için; düzenli ve sağlıklı beslenmeli, kişisel temizliğimize dikkat etmeli, spor yapmalı, düzenli uyumalıyız.

* Kendi sağlığımız kadar arkadaşlarımızın sağlığını da korumalıyız.

* Acil Yardım çağrısı:

Sakin ol, ➔ İlk ➔ Yardım ➔ İlk
çevreyi müdahale çağır Yardım
boşalt

↓
Hastaneye
ulaştır

1

Aşağıdakilerden hangisi sağlıklı yaşam kurallarına uyan birinin yapacağı davranışlardan değildir?

- A) Düzenli spor yapma
- B) Sağlıklı ve düzenli beslenme
- C) Sigara içilen yerlerde bulunma

3

Sağlıklı yaşamaya çalışan bir kişi aşağıdakilerden hangisini yapmaz?

- A) Düzenli spor yapar.
- B) Geç saatte uyur, erken kalkar.
- C) Sağlıklı beslenir.

2

Aşağıdakilerden hangisi okul ortamında hastalıklardan korunma yollarından biri değildir?

- A) Sınıfı tenefüslerde havalandırmak.
- B) Ellerimizi sık sık yıkamak.
- C) Sınıfın camlarını ve kapısını sürekli kapalı tutmak.

4

Aşağıdakilerden hangisinin ilk yardım dolabında bulunması zorunlu değildir?

A)



Tentürdiyot

B)



Sargı bezi

C)



Şampuan

5



Hamburger



Patates kızartması



Çorba



Köfte

Yukarıdaki besinlerden kaç tanesi sağlıklı beslenen birinin tercih listesinde yer alır?

- A) 2 B) 3 C) 4

6

Aşağıdaki ifadelerden hangisi yanlıştır?

- A) Dengeli ve düzenli beslenmek büyüme ve gelişmemiz için gereklidir.
 B) Sürekli aynı besinden tüketirsek dengeli beslenmiş oluruz.
 C) Her yiyecek türünden belli miktarda tüketirsek dengeli beslenmiş oluruz.

7

1. Yardım çağır.
2. Hastaneye ulaştır.
3. İlk müdahale
4. Sakin ol, çevreyi boşalt.

Acil yardım çağrısı için yukarıdaki olaylar hangi sırayla gerçekleştirilmelidir?

- A) 1 - 2 - 3 - 4
 B) 4 - 3 - 1 - 2
 C) 3 - 1 - 2 - 4

8

Her yemekten sonra dişlerimi fırçalarım.	Yemeklerden önce ve sonra ellerimi yıkıyorum.
Düzenli olarak spor yaparım.	Hastalansam bile okula gideirim.

Yukarıdaki kutucuklarda yer alan ifadelerden yanlış olanlar kesilip atılırsa kutucukların görünümü nasıl olur?

- A) B)
 C)

3. SINIF HAYAT BİLGİSİ KONU TESTİ

- * Cumhuriyet Bayramı'nı Neden Kutluyoruz?
- * Atatürk'ün Öğrenim Hayatı
- * Bilinçli Tüketici
- * Nasıl Daha İyi Öğreniyorum?

Adım:

Soyadım:

Sınıfım:

Numaram:

TEST - 5

HATIRLAYALIM

- * Cumhuriyet 29 Ekim 1923'te kurulduğu için her yıl 29 Ekim'de Cumhuriyet Bayramı'nı kutlarız.
- * Mustafa Kemal Atatürk'ün öğrenim gördüğü okullar:
 - Mahalle Mektebi
 - Şemsi Efendi İlkokulu
 - Askeri Ortaokul
 - Manastır Askeri Lisesi
 - İstanbul Harp Akademisi
- * Satın aldığımız mal veya hizmetle ilgili satıcılarla aramızda sorun çıkabilir. Bu sorunları çözmek için Tüketici Sorunları Hakem Heyetine başvurmalıyız.
- * Kendimize uygun olan öğrenme tekniğini kullanırsak başarılı oluruz.
- * Herkesin öğrenme şekli farklıdır. Bu nedenle uygun öğrenme yollarını bulmalıyız.

1

Aşağıdakilerden hangisi bayramlarda artan bir duygumuzdur?

- A) Korku B) Üzüntü
C) Dayanışma

2

Şemsi Efendi
Mektebi

Askeri Rüştüye

Manastır
Askeri İdadisi

Harp
Akademisi

Atatürk yukarıda verilen okullardan kaç tanesinde öğrenim görmüştür?

- A) 2 B) 3 C) 4

3

Ayça, süt alırken son kullanma tarihine bakarak sütü aldı.

Cihan, aldığı cep telefonunun garanti belgesini imzalattı.

Yukarıdaki iki tüketicinin ortak özelliği hangisidir?

- A) Bütçelerini aşan alışveriş yapmışlardır.
B) Alışverişte gereksiz yere zaman kaybetmişlerdir.
C) Bilinçli tüketicilerdir.

4

Aşağıdakilerden hangisi Cumhuriyet Bayramı'nı kutlamamızın nedenidir?

- A) Çanakkale Zaferi'nin kazanılması
- B) Cumhuriyetin ilan edilmesi
- C) Herkesin birlikte eğlenmesi

5

Ayşe, aldığı elektrikli süpürge bozuk çıkınca, aldığı süpürgeyi satıcıya götürmüştür. Satıcı süpürgeyi geri almamıştır.

Buna göre, Ayşe bu durumda nereye başvurmalıdır?

- A) Tema Vakfı
- B) Tüketiciler Derneği
- C) Sigarayla Savaşanlar Vakfı

6

Ders çalıştığımız odada aşağıdakilerden hangisinin bulunması uygun olmaz?

- A) Çeşitli kitaplar
- B) Çalışma masası
- C) Televizyon

7

Aşağıdaki öğrencilerden hangisi sadece görsel öğrenen bir öğrencidir?

- A) Ceyda: Duyduğu şeyleri hiç unutmaz.
- B) Derya: Fotoğraf ve resimlerde gördüklerini çabuk anlar.
- C) Tuna: Televizyonda izlediği şeyleri daha iyi anlar.

8

Aşağıda verilen ifadelerden hangisi yanlıştır?

- A) Cumhuriyet yönetimi halkın birçok özgürlüğe kavuşmasını sağlamıştır.
- B) Cumhuriyet halkın kendi kendini yönetme şeklidir.
- C) Cumhuriyetle birlikte kadınlara verilen haklar azalmıştır.

9

Atatürk hayatının büyük bir bölümünü aşağıdakilerden hangisini yaparak geçirmiştir?

- A) Askerlik
- B) Öğretmenlik
- C) Başbakanlık

3. SINIF HAYAT BİLGİSİ KONU TESTİ

- * Okul Yolu, Dikkat Yolu
- * Hayır Kabul Edemem
- * Dürüstlük ve Güven
- * Çevrem Tertemiz

Adım:
Soyadım:
Sınıfım:
Numaram:


TEST - 6

HATIRLAYALIM

- * Okul yolunda trafik işaret ve levhalarına dikkat etmeliyiz.
- * Trafik kurallarına uyersak kazaları önlemiş oluruz.
- * Tanımadığımız biri sizi çağırdığında, size bir şey vermek istediğinde kabul etmemeli ve oradan uzaklaşmalıyız.
- * Arkadaşlarımızın güvenini kazanmak istiyorsak yalan söylememeliyiz ve verdiğimiz sözleri yerine getirmeliyiz.
- * Okulda çöpleri çevreye atmamalı ve atanları uyarmalıyız.

1

Vedat gel beraber parkta oynayalım.



Ercan



Vedat

Vedat eve doğru hızla yürümektedir. Annesi Vedat'ı evde beklemektedir.

Vedat yolda arkadaşı Ercan ile karşılaşır ve Ercan Vedat'a bir teklifte bulunur.

Bu durumda Vedat, Ercan'a ne söylerse doğru davranmış olur?

- A) Tamam hadi oynayalım.
- B) Hayır gelemem. Çok teşekkür ederim.
- C) Tamam oynayalım. Sonra da top oynayalım.

2



Yanda verilen trafik levhasının anlamı aşağıdakilerden hangisidir?

- A) Dikkat
- B) Okul yolu
- C) Yaya geçidi

3

- Nasıl bulmak istiyorsan öyle bırak!
 - Sağlam kafa, sağlam vücutta bulunur.
 - Yerlere çöp atmayalım.
- Yukarıdakilerden kaç tanesi çevre temizliğiyle ilgilidir?**

- A) 1
- B) 2
- C) 3

4

Aşağıdaki ifadelerden hangisi yanlıştır?

- A) Okulu temiz tutmak her öğrencinin görevidir.
- B) Okul temizliğinin sorumluluğu sadece okuldaki temizlik görevlilerine aittir.
- C) Okulumuzu temiz tutarsak sağlığımızı korumuş oluruz.

5

Ahmet, arkadaşı Serkan'a saat 3'te geleceğini söylemiş fakat randevu yerine gelmemiştir.

Bu durumda Serkan'ın Ahmet'le ilgili fikri aşağıdakilerde hangisi olabilir?

- A) Çok güvenilir ve sözünde durur.
- B) Çok şakacı ve güvenilir.
- C) Güvenilir olmayan ve sözünü tutmayan biridir.

6

Hiç tanımadığımız biri bize gel beraber babanın yanına gidelim derse ne yapmalıyız?

- A) Beraber gitmeliyiz.
- B) Hayır demeli ve oradan uzaklaşmalıyız.
- C) O kişiyle konuşmalıyız.

7

Trafik kurallarına uyarsak önlemiş oluruz.

Yukarıdaki açıklamada boş bırakılan yere aşağıdakilerden hangisinin yazılması doğru olur?

- A) kazaları
- B) çevre kirliliğini
- C) başarıyı

8



Ersin

....★..... ışıkta beklerim.



Berke

....■..... ışıkta hazırlanırım.

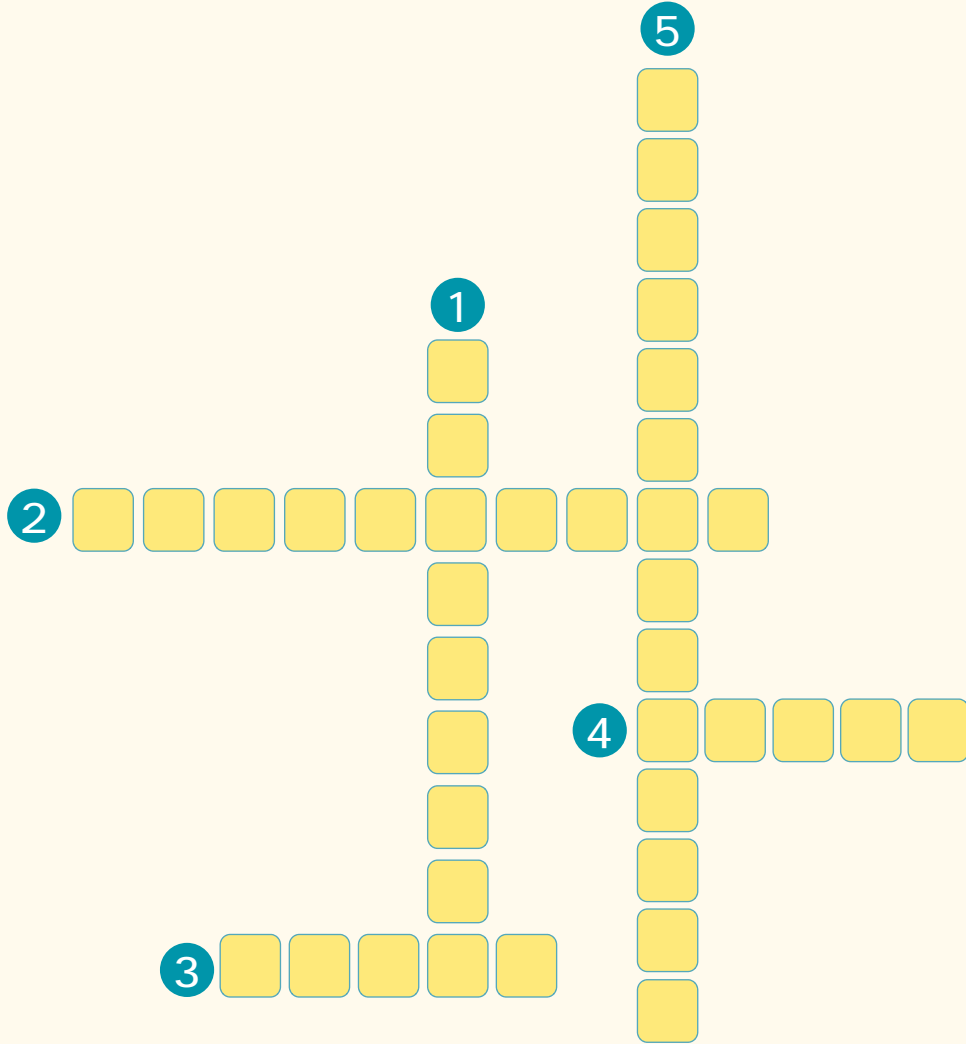
Ersin ve Berke'nin yukarıdaki ifadesinde ★ ve ■ yerine aşağıdakilerden hangisi gelmelidir?

- | | |
|------------|---------|
| ★ | ■ |
| _____ | _____ |
| A) Yeşil | Kırmızı |
| B) Kırmızı | Sarı |
| C) Sarı | Yeşil |

UYGULAMA - 1

1

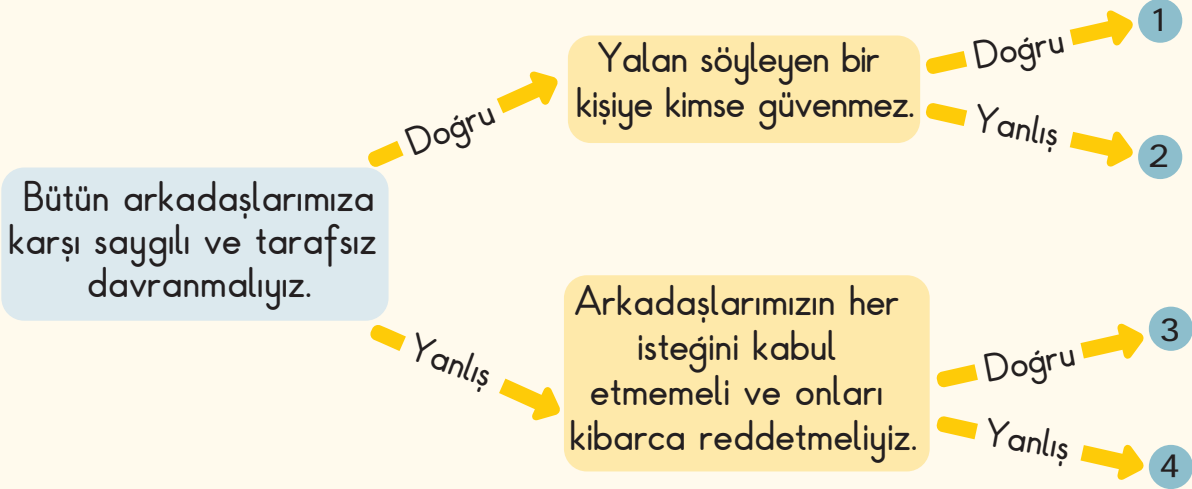
Aşağıdaki soruların cevaplarını bulmacadaki kutucuklara yazınız.



1. İlk yardım dolabında bulunması gereken bez.
2. 29 Ekim 1923'te ilan edilen ülkemizin yönetim şekli.
3. Trafik lambasında hangi renk ışık yanarsa yaya karşıya geçer.
4. Bir yerin kuş bakışı kabataslak çizimine verilen ad.
5. Atatürk'ün ilk olarak eğitim gördüğü okulun adı.

2

Aşağıdaki ifadelerin doğru ya da yanlış olduğuna karar verilerek ilerlerse hangi çıkış noktasına ulaşılır? İşaretleyiniz.



3

Aşağıdaki ifadeleri doğru ya da yanlış olmalarına göre işaretleyiniz.

Doğru Yanlış

1. Okul yolunda trafik işaret ve lavhalarına dikkat etmeliyiz.

2. Okulumuzu temiz tutmak sadece temizlik görevlilerinin işidir.

3. Cumhuriyet 29 Ekim 1923'te kurulduğu için her yıl 29 Ekim'de Cumhuriyet Bayramı'nı kutlarız.

4. Aynı besin türünden sürekli olarak tüketirsek dengeli beslenmiş oluruz.

5. Kişisel bakımımızı yaparken kaynaklarımızı tasarruflu kullanmalıyız.

6. Kroki bir yeri daha kolay bulmamıza yardımcı olur.

7. Okulda sınıfça yapacağımız etkinliklerde herkesin fikri alınarak karar verilmelidir.

UYGULAMA - 2

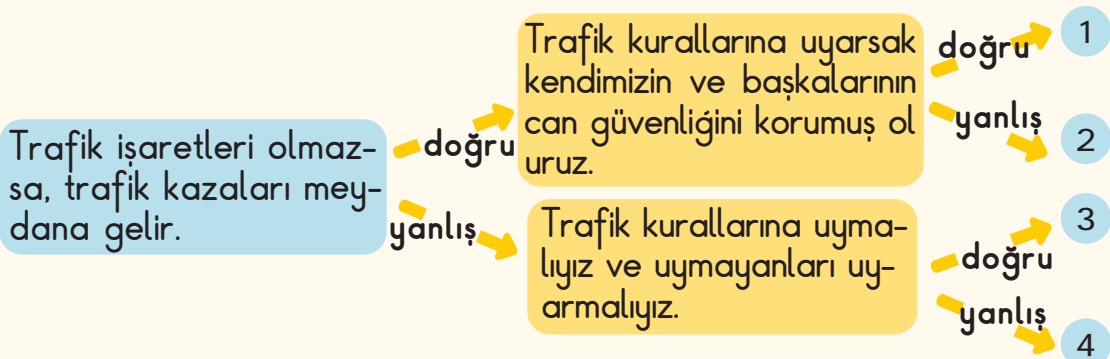
1

Aşağıdaki ifadeleri doğru ya da yanlış olmalarına göre işaretleyiniz.

- | | Doğru | Yanlış |
|--|--------------------------|--------------------------|
| 1. Demokrasi, kısıtlamaya ve zorlamaya bağlı olmaksızın düşünme ve davranma durumudur. | <input type="checkbox"/> | <input type="checkbox"/> |
| 2. Kanunlar önünde insanlar arasında ayırım ve fark yoktur. | <input type="checkbox"/> | <input type="checkbox"/> |
| 3. Arkadaşımız yanlış davranışlarda bulursa bile, onlardan yana olmalıyız. | <input type="checkbox"/> | <input type="checkbox"/> |
| 4. Kroki bilimsel ölçümler sonucu çizilir. | <input type="checkbox"/> | <input type="checkbox"/> |
| 5. Bir problemle karşılaştığımızda, uygun bir çözüm yolu bulmaya çalışmalıyız. | <input type="checkbox"/> | <input type="checkbox"/> |
| 6. Bir oyunda kaybettiğimizde kazananı tebrik etmeliyiz. | <input type="checkbox"/> | <input type="checkbox"/> |
| 7. Dengeli beslenmek aynı besinden sürekli yemek anlamına gelir. | <input type="checkbox"/> | <input type="checkbox"/> |
| 8. Hamburger, cips, kola gibi besinler sağlıklı besinler grubunda yer almaz. | <input type="checkbox"/> | <input type="checkbox"/> |
| 9. Yaralanan birini gördüğümüzde ambulans çağırmalıyız. | <input type="checkbox"/> | <input type="checkbox"/> |
| 10. Cumhuriyet halkın kendi kendini yönetme şeklidir. | <input type="checkbox"/> | <input type="checkbox"/> |

2

Aşağıdaki ifadelerin doğru ya da yanlış olmalarına karar verilerek ilerlenirse hangi çıkış noktasına ulaşılır? İşaretleyiniz.



3

Aşağıdaki kutucuklarda yer alan ifadelerden yanlış olanların üzerindeki harfleri sırayla şifre kutucuğuna yazınız ve şifreyi bulunuz.

K

Tanımadığımız kişilerle bir yere gitmemeliyiz.

L

Son kullanma tarihi geçmiş gıdaları almamalıyız.

B

Alışverişe çıktığımızda canımız ne isterse onu almamalıyız.

T

Cumhuriyet'in ilanı ile birlikte kılık ve kıyafette değişiklikler yapılmıştır.

İ

Atatürk 1881 yılında Ankara'da doğmuştur.

L

Yalan söylersek işlerimizi daha kolay gerçekleştiririz.

G

Temiz olmakla sağlıklı olmak arasında bir ilişki yoktur.

R

Başkalarının eşyalarını izinsiz kullanmamalıyız.

Z

Okulumuzun temiz olması için özen göstermeli ve arkadaşlarımızı uyarmalıyız.

C

Yemeklerden sonra dişlerimizi fırçalamalıyız.

İ

Sürekli et ürünleri yersek dengeli beslenmiş oluruz.

Y

Sağlıklı olmak için spor yapmalıyız.

ŞİFRE:

3. SINIF HAYAT BİLGİSİ KONU TESTİ

- * Evimdeyim,
Güvendeyim
- * Hayalimdeki Ev
Ben Adresimi Bilirim
- * Farklılıklar Güzeldir

Adım:
Soyadım:
Sınıfım:
Numaram:

TEST - 7

HATIRLAYALIM

- * Evimiz rahat ettiğimiz, kendimizi güvende hissettiğimiz yerdir.
- * Herkesin hayalindeki ev farklıdır. Kimi küçük, kimi büyük bir ev ister.
- * Evimizin adresini, anne ve babamızın telefonunu bilmeliyiz.
- * Pusula yönümüzü bulmak için kullandığımız araçtır.
- * Evimizin yerini tarif edebilmek için yönleri bilmemiz gerekir.
- * Bizi özel yapan ilgi ve yetenekler, her bireyde farklılık gösterebilir. Bunlara saygı göstermeliyiz.

1

Cumhuriyet Mah. Pınar Apt.
No:40 Daire:20
İstanbul

Yukarıda verilen adreste aşağıdakilerden hangisi eksiktir?

- A) Apartmanın numarası
- B) İl adı
- C) İlçe adı

3

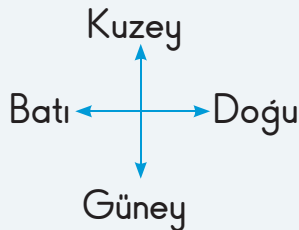


Kuzey da ara yönlerimizden birisidir.

Ebru'nun yukarıda verilen ifade-
sinde noktalı yerlere aşağıdaki-
lerden hangisi getirilemez?

- A) doğu
- B) batı
- C) güney

2



Yukarıdaki evin kapısı hangi yöne
bakmaktadır?

- A) Batı
- B) Doğu
- C) Güney

4

Aşağıdakilerden hangisi fiziksel
bir farklılıktır?

- A) İyi piyano çalma
- B) Matematik problemlerini kolayca çözme
- C) Sarışın, uzun boylu olma

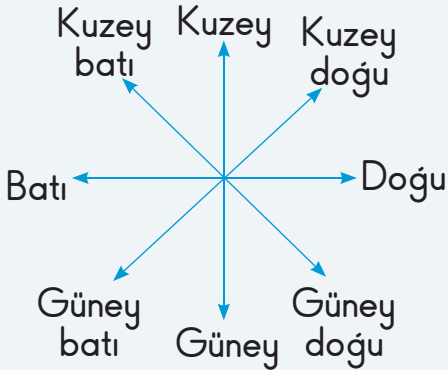
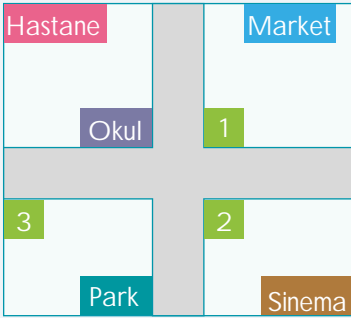
5

1. Farklılıklarımızın doğal karşılanması, aramızda sevgi ve saygı oluşturur.
2. Farklı yetenekleri, ortak bir amaç için değerlendirebiliriz.

Yukarıdaki ifadeler için aşağıdakilerden hangisi söylenebilir?

- A) Yalnız 1 doğrudur.
B) Yalnız 2 doğrudur.
C) Her ikisi de doğrudur.

6



- Okulun güneyindedir.
- Marketin güney batısındadır.
- Sinemanın kuzey batısındadır.

Tarif edilen ev kaç numaralı evdir?

- A) 1 B) 2 C) 3

7

Aşağıdaki ifadelerden hangisi yanlıştır?

- A) Canlıların yuvaları birbirine çok benzer.
B) Canlıların yuvaları barınma ihtiyaçlarını karşılar.
C) Her canlı türünün yuvası farklıdır.

8

Farklılıklarımızı saygı ile karşılamalıyız.	Herkesin yeteneği aynı alanda olmalıdır.
Farklılıklarımızı ortak bir amaç için kullanmalıyız.	Dünyadaki insanlar birbirinden farklı yeteneklere sahiptir.

Yukarıdaki kartta yer alan ifadelerden yanlış olanların üzeri karalanırsa kartın görünümü nasıl olur?

- A) B)
C)

3. SINIF HAYAT BİLGİSİ KONU TESTİ

- * Bedenimle Mutluyum
- * Onlar da Çocuk
- * Benim Mesleğim Ne Olacak?
- * Bedenimizin de dili var
- * Ailemiz Bizim İçin Özeldir

Adım:

Soyadım:

Sınıfım:

Numaram:

TEST - 8

HATIRLAYALIM

- * Herkesin fiziksel özellikleri birbirinden farklıdır. Bu özellikler farklı yeteneklerde olmamızı sağlar.
- * Bütün meslekler insanlara hizmet için vardır. Meslekler arasında iş bölümü vardır.
- * İletişim kurarken konuşmadan da duygularımızı anlatabiliriz.
- * Dürüst, sorumluluk sahibi, iyi ahlaklı çocukların yetişmesi için aile bağlarının güçlü olması gerekir.

1

- ▲ Kâğıt, kalem, tebeşir kullanırım. Öğretmektir görevim.
 - İğne, makas, iplik kullanırım. Elbiseler dikmektir görevim.
 - ★ Makas, ayna, tarak kullanırım. Saçları güzelleştirmektir görevim.
- Yukarıda bazı özellikleri verilen meslekler hangileridir?

- | ▲ | ● | ★ |
|-------------|----------|--------|
| A) Doktor | Mühendis | Kuaför |
| B) Öğretmen | Terzi | Kuaför |
| C) Mühendis | Terzi | Doktor |

2

Konuşmadan gülümseyerek başını öne ve arkaya doğru sallamanın anlamı nedir?

- A) Çok kızmak B) Kabul etmek
C) Onaylamak

3



Selin

Kötü günlerimizi ailemizle beraber paylaşıyoruz.



Koray

Ailemiz birçok konuda bize yardımcı olur.



Berkant

Ailemizde küçük bireylere sorumluluk verilmez.

Yukarıda verilen öğrencilerin ifadelerinden hangisi yanlıştır?

- A) Selin B) Koray C) Berkant

4

Mutlu ve huzurlu bir ailede aşağıdakilerden hangisi bulunmaz?

- A) İş birliği
B) Haklara saygı
C) Düzensizlik

5

- Özel günlerimizi ailemizle beraber geçiririz.
- Annemize sadece ev işlerinde yardım etmeliyiz.
- Sorumluluk sahibi çocuklarda aileye bağlılık artar.

Yukarıda verilen ifadelerden kaç tanesi doğrudur?

- A) 1 B) 2 C) 3

6



Yukarıda verilen meslekler hangileridir?

- | 1 | 2 | 3 |
|----------|-------|-----------|
| A) Kasap | Manav | İtfaiyeci |
| B) Manav | Kasap | Polis |
| C) Polis | Manav | Kasap |

7

Ailemizle ilgili aşağıda verilen ifadelerden hangisi yanlıştır?

- A) Sorunlarımızı ilk anlatmamız gereken kişilerdir.
- B) Samimi, sevgi ve saygıya dayalı bir ilişki vardır.
- C) Kimsenin sorunu diğerlerini ilgilendirmez.

8

Yandaki mesleği yapan bir kişi aşağıdakilerden hangisini yapmaz?



- A) Mahkemede duruşmalara katılır.
- B) İnsanları kanunlara göre savunur.
- C) Binaların mimarisiyle ilgili çizimler yapar.

9

Aşağıdakilerden hangisi doktorluk mesleğinin görevleri arasında yer almaz?

- A) Hastaları tedavi etmek.
- B) Hastalıklardan korunma yollarını anlatmak.
- C) Yol, köprü ve bina yapımı için ölçüm ve çizimler yapmak.

3. SINIF HAYAT BİLGİSİ KONU TESTİ

- * Birbirimizi Sevelim,
Sayalım
- * İletişim Türleri
- * Sen de Fikrini Söyle
- * Planlı Hayat,
Oh Ne Rahat

Adım:
Soyadım:
Sınıfım:
Numaram:

TEST - 9

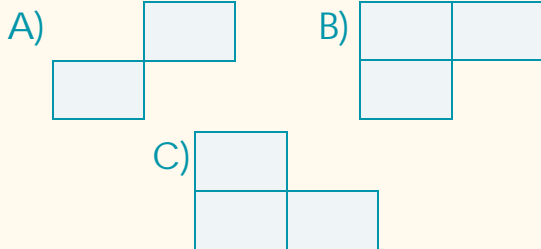
HATIRLAYALIM

- * İnsanlar arasında dil, din, cinsiyet ayrımı yapmadan insanları sevmeli ve saymalıyız.
- * İletişim araçları bilgi veren, eğiten ve eğlendiren araçlardır.
- * Ailede alınacak kararlarda aile bireylerinin hepsinin fikrinin alınması gerekir.
- * Bir gün boyunca yapılacakları önem sırasına koymaya, günlük ve haftalık zaman dilimlerine ayırmaya planlı yaşam denir.

1

Aynı fikirde olmayan insanlar birbirlerine hoşgörülü davranmalıdır.	Farklı düşünen insanlar arkadaşlık yapabilirler.
Kimseyi düşünceleri nedeniyle dışlamamalıyız.	Farklı inaçları olan insanlar aynı ülkede yaşayamazlar.

Yukarıdaki kartta yer alan ifadelerden yanlış olanlar çıkarılırsa kartın görünümü nasıl olur?



2



Mektup



Telefon



Televizyon

Yukarıdaki iletişim araçlarının türleri hangileridir?

	1	2	3
A)	Yazılı iletişim	İşitsel iletişim	Görsel iletişim
B)	İşitsel iletişim	Görsel iletişim	Yazılı iletişim
C)	İşitsel iletişim	Yazılı iletişim	Görsel iletişim

3

Aşağıdakilerden hangisini yapan bir kişi başarılı olamaz?

- A) İyi ve zamanında uyumak.
- B) Düzenli beslenmek.
- C) Plan yapmamak.

4

Aşağıdaki ifadelerden hangisi yanlıştır?

- A) Ailede alınacak kararlarda aile bireylerinin hepsinin fikrinin alınması gerekir.
- B) Ailemizde alınan kararlarda bizimde fikrimizin alınması hoşumuza gider.
- C) Ailede kimsenin fikri alınmadan herkes kendi istediği gibi davranmalıdır.

5

Aşağıdaki öğrencilerden hangisi planlı olarak yaşamaktadır?

- A) Bekir: Canım isteyince ders çalışırım.
- B) Seda: Ders programına göre derslerimi çalışırım.
- C) Aytuna: Her zaman oyun oynarım.

6

İnsanların, duygu ve düşüncelerini çeşitli yollarla ifade edebilmesine denir.

Yukarıdaki cümlede boş bırakılan yere hangi seçenekte verilen kelime getirilmelidir?

- A) Teknoloji
- B) İletişim
- C) Ulaştırma

7



Kemal

Sevincimi ve mutluluğumu dürüst arkadaşlarımla paylaşıyorum.



Tuğra

Bir durum karşısında taraf tutan arkadaşlarımla bir arada olmaktan hoşlanıyorum.



Yakup

Kavga etmekten kaçınmayan arkadaşlarla gezerim.

Yukarıda verilen öğrencilerden hangisi doğru arkadaşlıklar edinebilir?

- A) Kemal
- B) Tuğra
- C) Yakup

- * Başarılı Olmak İçin
- * Kaynaklar Tükeniyor,
Tasarruf Yapalım
- * Reklamlar

Adım:
Soyadım:
Sınıfım:
Numaram:

TEST - 10

HATIRLAYALIM

- * Başarılı olmak için planlı ve düzenli yaşamalıyız.
- * Başarılı olmak için günlük ve haftalık programlar yapmalı ve bu programları uygulamalıyız.
- * Kaynaklarımızı kullanırken, tasarruf yapmalıyız. Çünkü boşa giden kaynaklarımız dış ülkelere bağımlılığımızı artırır.
- * Reklamın çekici olması iyi bir tüketiciyi aldatmamalıdır.

1

Aşağıdaki ifadelerden hangisi yanlıştır?

- A) Çalışma odamızda masada çalışmalıyız.
- B) Çalışma odamız ne çok sıcak ne de çok soğuk olmalıdır.
- C) Çalışma odamızda radyo dinleyerek ders çalışabiliriz.


2

- Derslerimize zamanında çalışırsak başarılı oluruz.
- Derste öğretmenimizi iyi dinlemeliyiz.
- Okulda öğrendiklerimizi evde tekrar etmeliyiz.

Yukarıdaki ifadelerden kaç tanesi doğrudur?

- A) 1
- B) 2
- C) 3

3



Boşa yanan lambaları söndürürsek, gereksiz yere akan muslukların suyunu kapatırsak...

Ceren'in yukarıda verilen ifadesi aşağıdakilerden hangisiyle tamamlanabilir?

- A) Faturalarımıza daha az para öderiz.
- B) Savurganlık yapmış oluruz.
- C) Enerjiye bağımlılığımız artar.

4

Aşağıda verilen konuların hangisinde reklam yapılmamalıdır?

- A) Bir ailenin kullanacağı otomobil.
- B) İnsanların uzak durması gereken zararlı madde.
- C) Çocukların tüketmesi gereken süt ve süt ürünleri.

5

Reklamlarla ilgili aşağıda verilen ifadelerden hangisi yanlıştır?

- A) Malın satışını arttırmak için yapılır.
- B) Reklamı yapılan her ürün kalitelidir.
- C) Ürünü tanıtmak için yapılır.

6

Aşağıdakilerden hangisinin reklamı yapılmamalıdır?

- A) Çikolata
- B) İlaç
- C) Elektronik eşya

7

Aşağıdaki öğrenci davranışlarından hangisi yanlıştır?

- A) Okuldaki eşyalara zarar veren öğrenciyi, öğretmene söylemek.
- B) Başka arkadaşlarının eşyalarını kullanmak için izin istemek.
- C) Arkadaşlarıyla oyun oynadıkları bahçede bulunan okul eşyalarına zarar vermek.

8

Kusurlu bir ürün;

1.,
2.,

Yukarıdaki boşluklara aşağıdakilerden hangisi getirilemez?

- A) Çöpe atılır.
- B) Tamir edilir.
- C) Yenisiyle değiştirilir.

9

Elif, annesinin hergün verdiği harçlığın bir kısmıyla ihtiyaçlarını karşılıyor. Bir kısmıyla da kumbarasını dolduruyordu. Elif ay sonunda kumbarasını açtığında birikmiş parası olduğunu gördü.

Buna göre, harcamalarını Elif gibi planlı yapan kişiye verilen isim aşağıdakilerden hangisidir?

- A) Cimri
- B) Savurgan
- C) Tutumlu

- * Atatürk ve İnsan Hakları
- * Görgü Kuralları
- * Eğlenceli Gün
- * Liderin Etkileri

Adım:
Soyadım:
Sınıfım:
Numaram:

TEST - 11

HATIRLAYALIM

- * Atatürk önderliğinde vatandaşların hak ve hürriyetleri güvence altına alınmıştır.
- * Toplum içerisinde birbirimizi rahatsız etmemek için görgü kurallarına uymalıyız.
- * Ailemizle zaman geçirmeli ve güzel anılar oluşturmaya çalışmalıyız.
- * Lider kişiler:
 - İleri görüşlü
 - Yol gösteren
 - Planlı hareket eden
 - Cesur olmalıdır.

1

Aşağıdakilerden hangisi bir görgü kuralı değildir?

- A) Yemek yerken ağızını şapırdatmamak.
- B) Karşılaştığın birine merhaba demek.
- C) Trafik ışıklarına dikkat ederek karşıya geçmek.

3

Aşağıdakilerden hangisi Türk toplumunun liderlerinden değildir?

- A) Mustafa Kemal Atatürk
- B) Fatih Sultan Mehmet
- C) John Kennedy

2

Aşağıdakilerden hangisi lider kişinin özelliği değildir?

- A) İnsanlar arasında ayırım yapmak.
- B) Planlı ve düzenli olmak.
- C) Cesur ve kararlı olmak.

4

- Doğum Günü
- Bayram Günü
- Düğün Günü

Yukarıdakilerden kaç tanesi ailemizle birlikte eğlenceli zaman geçirdiğimiz gündendir?

- A) 1
- B) 2
- C) 3

5

- Haberleşme Hakkı
- Seçme ve Seçilme Hakkı
- Eğitim Hakkı

Yukarıdakilerden kaç tanesi insan hakları arasında yer alır?

- A) 1 B) 2 C) 3

6

K

İyi liderler zor koşullarda ortaya çıkar.

L

Bir toplum lideri atılgan ve cesaretli olmalıdır.

M

Liderler bir toplum için karar alırken, o topluma kaba kuvvet uygular.

Yukarıda verilen K, L ve M ifadeleri için aşağıdaki öğrencilerden hangisinin söylediği doğrudur?

A)



K ve L doğru, M yanlıştır.

B)



K doğru, L ve M yanlıştır.

C)



K yanlış, L ve M doğrudur.

7



Merve

Bir toplum karşısında konuşurken nezaket ifadelerini kullanmam.



Serap

Dinleyicinin yüzüne bakarak konuşmam.

Yukarıdaki ifadeler için aşağıdakilerden hangisi söylenebilir?

- A) Yalnız Merve'nin ifadesi doğrudur.
B) Yalnız Serap'ın ifadesi doğrudur.
C) Her ikisinin de ifadesi yanlıştır.

8

Aşağıda verilenlerden hangisi özel gündendir?

1. Sünnet
2. Kına gecesi
3. Türkü gecesi

- A) 1 ve 2 B) 1 ve 3
C) 2 ve 3

9

1. Nezaket ifadelerini kullanmak
2. Bağırarak konuşma
3. Vücut dilini kullanma

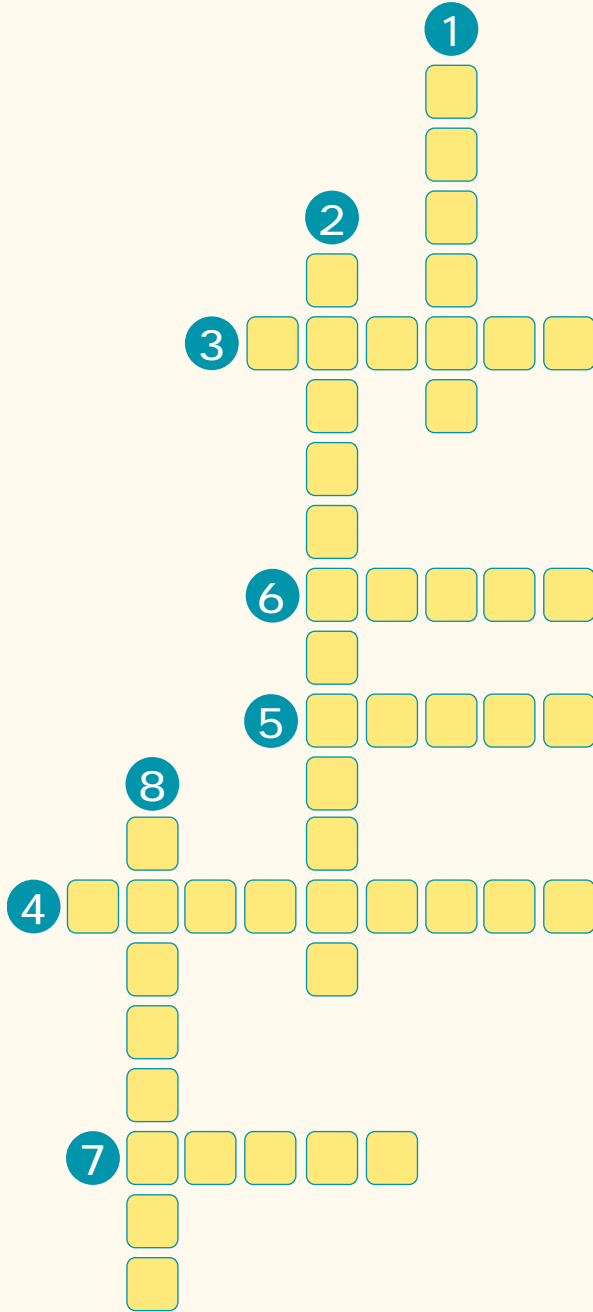
Yukarıda verilenlerden hangisi bir konuyu daha iyi ve etkili bir şekilde anlatabilmek için gereksizdir?

- A) 1 B) 2 C) 3

UYGULAMA - 3

1

Aşağıdaki soruların cevaplarını bulmacadaki kutucuklara yazınız.



- 1 Yönümüzü bulmak için kullandığımız araçtır.
- 2 Anne, baba ve çocuklardan oluşan küçük ailedir.
- 3 Ürün satışını artırmak için yapılan tanıtım.
- 4 Deprem, sel, çığ, heyelan gibi olaylara verilen ad.
- 5 Ana yönlerden biridir.
- 6 Haritada mavi renkle gösterilir. Dünyada karalara göre daha fazla yer kaplar.
- 7 İleri görüşlü, toplumlara yol gösteren kişi.
- 8 Fincan, tabak gibi eşyaların yapıldığı maddedir.

2

Aşağıdaki kutucuklarda yer alan ifadelerden yanlış olanların üzerindeki harfleri sırasıyla yazınız ve şifreyi bulunuz.

T

Doğu, batı, kuzey,
güney ana
yönlerdir.

Ş

Bizden daha
üstün yetenekleri
olan kişileri
dışlamalıyız.

L

Bütün meslekler
arasında iş bölü-
mü vardır ve
insanlara
hizmet ederler.

A

Herkesin ailesinin
davranışları,
yaşam
şekilleri aynıdır.

P

Sorunlarla
karşılaştığımızda
öfkelenmeli ve
kavga etmeliyiz.

K

Cep telefon-
larıyla sadece
sesli görüşme
yapılabilir.

M

Aile bireyleri
işleri
yardımlaşarak
yaparlar.

A

Evimiz en
güvenli yerdir
kazalarla hiç
karşılaşmayız.

Z

Öğretmenler
gelecek
nesilleri
yetiştirir.

ŞİFRE:

UYGULAMA - 4

1

Aşağıdaki soruların doğru cevapları işaretlendiğinde işaretlenmeyen kutucuklardaki harfler sırasıyla yazıldığında bir şifre oluşacaktır. Şifreyi bulup şifre kutusuna yazınız.

- | | Doğru | Yanlış |
|---|-------|--------|
| 1. İnsanların özellikleri birbirinden farklıdır. Bu farklılıklar ortamı güzelleştirir. | T | K |
| 2. Beden dilimizi kullanarak da iletişim kurabiliriz. | F | A |
| 3. Ailede herkes dilediği gibi davranmalı ve diğerlerine yardım etmemelidir. | L | M |
| 4. İnsanlar çevrelerindeki kişilere sosyal ve ekonomik durumlarına göre ön yargılı davranmamalıdır. | R | E |
| 5. Sorunlara çözüm yolları bulmak hem bizi hem de çevremizdekileri mutlu eder. | Y | M |
| 6. İletişim kurarken sadece telefon kullanırız. | L | Z |
| 7. Planlı yaşarsak hem başarılı oluruz hem de oyuna zaman ayırabiliriz. | R | İ |
| 8. Başarılı olmak için zamanımızı boş yere harcamamalıyız. | N | K |

ŞİFRE:

2

Aşağıdaki ifadelerden yanlış olanların yanındaki harfleri sırasıyla yazarak şifreyi bulunuz.

Ailede alınacak kararlarda aile bireylerinin hepsinin fikrinin alınması gerekir.

K

Bizimle aynı dili konuşmayan insanları dışlamalıyız.

A

İletişim araçları bilgi veren araçlardır.

S

Canımız isteyince ders çalışmalı, canımız isteyince oyun oynamalıyız.

F

Reklamın çekici olması tüketiciyi aldatmamalıdır.

M

Sadece okulda ders çalışmalı, evde ders çalışmamalıyız.

E

Lider kişiler ileri görüşlü ve cesurdur.

L

Bir topluluk karşısında konuşurken dinleyicilerin yüzüne bakmamalıyız.

T

Doğal afetlere karşı gerekli önlemler alınırsa hayati tehlikeler atlatılmış olur.

Z

ŞİFRE:

3. SINIF HAYAT BİLGİSİ KONU TESTİ

- * Ev Kazalarına Dikkat
- * Doğal Afetlerden Korunmayı Öğreniyorum

Adım:
Soyadım:
Sınıfım:
Numaram:

TEST - 12

HATIRLAYALIM

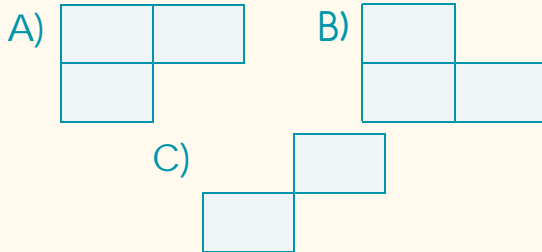
- * Evimizde güvenli bir şekilde yaşamak için ev içi güvenlik kurallarına uymalıyız.
- * Ülkemizde erozyon, sel, heyelan, deprem gibi doğal afetler yaşanmaktadır. Bu afetlerle yaşamasını öğrenmeli, afetlere hazırlıklı olmalıyız.
- * Depremden korunmak için binalarımızı sağlam malzemelerle yapmalıyız.
- * Yaşanabilir bir dünya için bireylerin sorumluluğunun yanında ülkelerinde sorumluluğu vardır.

1

Fişi prize takarken elektrik çarpması	Ağaçtan düşmek
Banyoda ayağı kayıp düşmek	Sehpaya takılıp düşmek

Yukarıdaki kartta ev kazaları örnekleri verilmiştir

Yanlış örnekler kesilip atılırsa kartın görünümü nasıl olur?



2

Aşağıdakilerden hangisi doğal afet değildir?

- A) Deprem B) Sel
C) Trafik kazası

3

Aşağıdakilerden hangisi deprem anında yapılanlardan biri değildir?

- A) Çök, kapan, tutun tekniği uygulamalıyız.
B) Dayanıklı eşyaların altına girmeliyiz.
C) Deprem çantası hazırlamalıyız.

4

Ormanlık alanların azalması hangi doğal afetin oluşmasına neden olur?

- A) Deprem B) Çığ C) Sel

5



Yukarıdaki resmi inceleyen bir öğrenci hangi doğal afetin meydana geldiğini söyleyebilir?

- A) Sel B) Deprem C) Çığ

6

Annen yemek pişirirken ısınmış tencereye dokunursan ne olur?

- A) Elin kesilir.
B) Elin yanar.
C) Zehirlenme olur.

7

Aşağıdakilerden hangisi depreme karşı alınabilecek önlemlerden biri değildir?

- A) Dayanıklı binalar yapmak.
B) Sağlam zeminli yerlere ev yapmak.
C) Binalara iyi ısı yalıtımı yapmak.

8

- Dünya'nın yaşanılır bir yer olması için çevre temizliğine önem vermeliyiz.
- Dünya hepimizin ortak malıdır. Bu nedenle temiz tutmalıyız.
- Çevremizi temiz tutmak sadece bizi ilgilendirir.

Yukarıdaki ifadelerin yanında bulunan boşluğa doğru ise "D", yanlış ise "Y" yazılacaktır.

Buna göre, doğru cevap aşağıdakilerden hangisidir?

- A) D
 D
 D
- B) Y
 D
 Y
- C) D
 D
 Y

3. SINIF HAYAT BİLGİSİ KONU TESTİ

- * Gecen Yıl, Bu Yıl
- * Değişen Duygular
- * Hayalimdeki Meslek
- * Hava Tahminleri

Adım:
Soyadım:
Sınıfım:
Numaram:

TEST - 13

HATIRLAYALIM

- * Geçen yıl yapamadığımız birçok işi büyüdükçe tek başımıza yapabiliriz.
- * Gün içerisinde farklı farklı duygular yaşarız. Bütün günlerimiz hep mutlu ya da hep üzüntülü geçmez.
- * Meslekler insanlara hizmet için vardır.
- * İleride mutlu olacağımız bir meslek seçmeli ve bu yolda çalışmalıyız.
- * Hava durumu tahminlerini meteoroloji mühendisleri yapar.

1

Yıllar geçtikçe artık birçok işi tek başımıza yapabiliriz.

Bu durumun sebebi nedir?

- A) İş yapma isteğimizin artması.
- B) Anne ve babamızın bize daha çok yardım etmesi.
- C) Büyüdükçe hem öğrenmemiz hem de fiziksel gücümüzün artması.

2

Aşağıdakilerden hangisi bebeklik dönemimizde yaptığımız işlerdendir?

- A) Bilgisayar kullanmak
- B) Sütü biberonla içmek
- C) Bisiklete binmek

3

Bir mesleği seçerken aşağıdakilerden hangisini dikkate alırsak doğru davranmış oluruz?

- A) Ne kadar para kazandırdığına
- B) İlgi ve yeteneklerimize uygun olmasına
- C) Anne ve babamızın isteğine uygun olmasına

4

Serkan gittiği doktora mesleğiyle ilgili sorular sormuştur.

Serkan neden doktora sorular sormuştur?

- A) Zaman geçirmek için
- B) Doktorlardan hoşlandığı için
- C) Doktorluk mesleğini tanımak için

5

Aşağıdaki meslek gruplarından hangisi günlük işini hava durumuna göre ayarlar?

- A) Avukat B) Çiftçi
C) Öğretmen

6

Pazartesi

Salı



Yukarıdaki hava durumu hangi mevsimde gözlenmiştir?

- A) İlkbahar B) Kış C) Yaz

7



Yukarıdaki yüz ifadesini hangi durumda yaşarız?

- A) Üzgün olduğumuzda
B) Canımız yandığında
C) Mutlu olduğumuzda

8

Top oynarken düşüp yaralandığımızda aşağıdaki duygulardan hangisini yaşarız?

A)



B)



C)



9

Aşağıdakilerden hangisini bebeklik döneminde yapamayız?

- A) Oyuncakla oynama
B) Biberon emme
C) Futbol oynama

10

Aşağıdaki mesleklerden hangisinin yaptığı iş yanlış verilmiştir?

- A) **Kasap:** Etlere keserek, isteğe göre hazırlayıp satar.
B) **Kuaför:** Saçı dökülen insanlara ilaç vererek, tedavi eder.
C) **Terzi:** Elbise diker ve elbise onarımı yapar.

3. SINIF HAYAT BİLGİSİ KONU TESTİ

Adım:
Soyadım:
Sınıfım:
Numaram:

- * Atatürk'ün Hayatı
- * Atatürk'ün Türk Milletine Yaptığı Hizmetler
- * Milli Bayramlarımız

TEST - 14

HATIRLAYALIM

- * Atatürk 1881 yılında Selanik'te doğdu. 1938 yılında İstanbul'da hayata veda etti.
- * Atatürk'ün yaptığı yenilikler
 - Halifeliğin kaldırılması
 - Takvim, saat ve ölçülerde yenilik
 - Yeni Türk alfabesinin kabulü
 - Kılık - kıyafette değişiklik.
- * Millî Bayramlar
 - Cumhuriyet Bayramı
 - Ulusal Egemenlik ve Çocuk Bayramı
 - Atatürk'ü Anma Gençlik ve Spor Bayramı
 - Zafer Bayramı

1

Atatürk'le ilgili aşağıda verilen ifadelerden hangisi yanlıştır?

- A) Atatürk'ün hayatı askerlik mesleği ile uğraşmakla geçmiştir.
- B) Atatürk 1938 yılında Ankara'da vefat etmiştir.
- C) Atatürk Arap alfabesini kaldırmış ve yerine yeni Türk alfabesini getirmiştir.

3

Millî bayramlarda aşağıdakilerden hangisi yapılmaz?

- A) Sınıfların ve okulun bayraklarla süslenmesi
- B) Okulda törenler düzenlenmesi
- C) Tatlı, çikolata gibi şeylerin misafirlere ikram edilmesi

2

Aşağıdakilerden hangisi Atatürk'ün yaptığı yeniliklerden değildir?

- A) Yeni ölçülerin kabulü
- B) Padişahlığın babadan oğula geçmesi
- C) Soyadı kanunu

4

Aşağıdaki tarihlerden hangisinde kutlanan bayram Atatürk tarafından çocuklara armağan edilmiştir?

- A) 30 Ağustos
- B) 23 Nisan
- C) 29 Ekim

5

- Yeni Türk alfabesinin kabulü
- Kılık kıyafette değişiklik
- Takvim, saat ve ölçülerde yenilik

Yukarıdakilerden kaç tanesi Atatürk'ün yaptığı yeniliklerdendir?

- A) 1 B) 2 C) 3

6

▲: Atatürk Samsun'a çıktı ve Kurtuluş Savaşı'nı başlattı.

★: Türkiye Büyük Millet Meclisi açıldı.

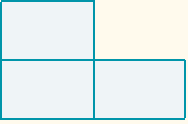


Yukarıdaki olaylar nedeniyle kutlanan milli bayramlar hangileridir?

- | | ▲ | ★ |
|----|---|---|
| A) | 19 Mayıs
Atatürk'ü
Anma Gençlik
ve Spor
Bayramı | 23 Nisan
Ulusal
Egemenlik ve
Çocuk
Bayramı |
| B) | 30 Mayıs
Zafer
Bayramı | 19 Mayıs
Atatürk'ü
Anma Genç-
lik ve Spor
Bayramı |
| C) | 23 Nisan
Ulusal Ege-
menlik ve Ço-
cuk Bayramı | 30 Ağustos
Zafer
Bayramı |

7

Zafer Bayramı	Ramazan Bayramı
Kurban Bayramı	Cumhuriyet Bayramı

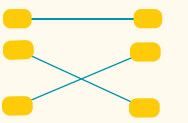
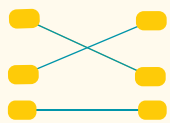
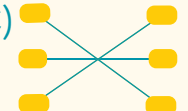
Yukarıdaki kartta milli bayram olmayan kısımlar kesilip atılırsa kartın görünümü nasıl olur?

- A) 
- B) 
- C) 

8

- | | |
|------------|--|
| 30 Ağustos | Cumhuriyet Bayramı |
| 29 Ekim | Zafer Bayramı |
| 19 Mayıs | Atatürk'ü Anma Gençlik ve Spor Bayramı |

Yukarıdaki bayramların ilgili oldukları tarih ile eşleştirilmesi hangi seçenekte doğru yapılmıştır?

- A) 
- B) 
- C) 

TEST - 15

HATIRLAYALIM

- * Tekerleğin bulunmasıyla birlikte insanlar bir yerden başka bir yere daha kolay ulaşım sağlamışlardır.
- * Okulda, evde, hastanelerde, iş yerlerinde bilgisayar yardımıyla işler daha güvenilir ve kolay şekilde yapılır.
- * Yazının icadı mektupla iletişimi sağladı.
- * Gazete, dergi, kitap iletişim araçlarıdır.
- * Teknoloji geliştikçe telefon, radyo, televizyon ve bilgisayarla iletişim sağlanmaya başlamıştır.

1



Eski



Yeni

Yukarıdaki ulaşım araçlarını karşılaştıran bir öğrenci aşağıdakilerden hangisini söylerse yanlış olur?

- A) Hızı artmıştır.
- B) Kullanım amacı değişmiştir.
- C) Görünümü değişmiştir.

2



Bilgisayar aşağıdaki amaçlardan kaç tanesinde kullanılabilir?

- Eğitim amaçlı
- Uzaktakilerle iletişim kurma
- Eğlenme, oyun oynama

- A) 1 B) 2 C) 3

3

Aşağıdakilerden hangisi daha geniş bir kitleyle iletişimi sağlar?

A)



Cep telefonu

B)



Televizyon

C)



Mektup

4

Aşağıdakilerden kaç tanesi kara hareket etmez?

Uçak

Tren

Kamyon

Sandal

Bisiklet

Helikopter

A) 1

B) 2

C) 3

5

Ulaşım araçlarının teknolojinin gelişmesiyle birlikte gelişmesinin bize en önemli katkısı nedir?

A) Daha çok para kazandırması

B) Daha güzel görünmesi

C) Daha kısa sürede ulaşımın sağlanması

6

Matbaanın icadı aşağıdaki iletişim araçlarından hangisinin oluşmasını sağlamıştır?

A) Telefon

B) Gazete

C) Radyo

7

Aşağıdaki ifadelerden hangisi yanlıştır?

A) İnternet sayesinde uzaktaki kişilerle sesli ve görüntülü iletişim kurabiliriz.

B) Bilgisayar sayesinde işler daha kolay ve güvenilir şekilde yapılır.

C) Bilgisayar sayesinde ders çalışmak zorunda kalmayız.

8

Aşağıda zamanı ölçmek için yapılmış saatlerden hangisi son teknoloji kullanılarak üretilmiştir?

A)



B)



C)



3. SINIF HAYAT BİLGİSİ KONU TESTİ

- * Yaşadığımız Yerin Dünü, Bugünü
- * Doğal Afetlerden Korunalım
- * Doğa İçin El Ele

Adım:
Soyadım:
Sınıfım:
Numaram:

TEST - 16

HATIRLAYALIM

- * Teknolojinin gelişmesi, şehir planlamalarının değişmesi gibi etkenlerle çevremizde değişiklikler oluşur.
- * Selden korunmak için ormanların ve yeşil alanların korunması gerekir.
- * Doğal afetlerden korunma yollarını öğrenmeliyiz.
- * Depremden korunmak için sağlam ve dayanıklı evlerde oturmalıyız.
- * Eğer çevreyi kirletirsek, dünyamız yaşanmaz hâle gelir.

1

Aşağıdakilerden hangisi tarihi bir yapıdır?

- A) Boğaziçi Köprüsü
- B) Galata Kulesi
- C) Marmaray tüp geçidi

3

Aşağıdakilerden hangisi depreme karşı alınacak bir önlem değildir?

- A) Evler çok katlı olmamalıdır.
- B) Binalardaki asansörler çok hızlı olmalıdır.
- C) Bina yapımında sağlam malzeme kullanılmalıdır.

2

Aşağıdaki ifadelerden hangisi yanlıştır?

- A) Teknolojinin gelişmesiyle yapılan binalar daha çok katlı olmuştur.
- B) Çevremizde şehir planlamaları nedeniyle değişiklikler meydana gelir.
- C) Çevre değişiminin tek nedeni depremlerdir.

4

Aşağıdakilerden hangisi sele karşı alınacak bir önlem değildir?

- A) Akarsular barajlarla kontrol altına alınmalıdır.
- B) Akarsu yatakları genişletilmelidir.
- C) Binalar çok katlı olmamalıdır.

5

Yağmur ve kar sularının sebep olduğu doğal afet hangisidir?

- A) Deprem
B) Sel
C) Heyelan

6

Çevreye büyük ölçüde zarar veren, can ve mal kaybına neden olan, olağan dışı doğa olaylarına genel olarak verilen ad nedir?

- A) Mevsimler
B) Gece - gündüz
C) Doğal afet

7

Selin, neden olduğu zararları önlemek için aşağıdakilerden hangisi yapılmaz?

- A) Ağaçlandırma
B) Kurtarma ekibi
C) Su kanalları

8

Aşağıdakilerden hangisi kar yağışına bağlı olarak oluşan bir doğal afettir?

- A) Çıg
B) Deprem
C) Heyelan

9

Bulduğumuz şehirde alışveriş merkezleri açıldı. Yeni yollar, alt ve üst geçitler yapıldı. Ulaşım çok rahatladı. Nüfus gittikçe arttı ve nüfusa yetecek kadar yeşil alanlar oluşturuldu.

Yukarıdaki metinde aşağıdakilerden hangisinden söz edilmemiştir?

- A) Şehrin geliştiği
B) Ulaşımın kolaylaştığı
C) Hava kirliliğinin arttığı

10

- Doğayı korumak sadece bizim için değil, bizden sonraki nesiller içinde gereklidir.
- Çevremizdeki insanları doğayı koruma konusunda bilgilendirmiyoruz.
- Doğaya gerekli özeni göstermezsek, yaşanacak doğal afetlere neden oluruz.

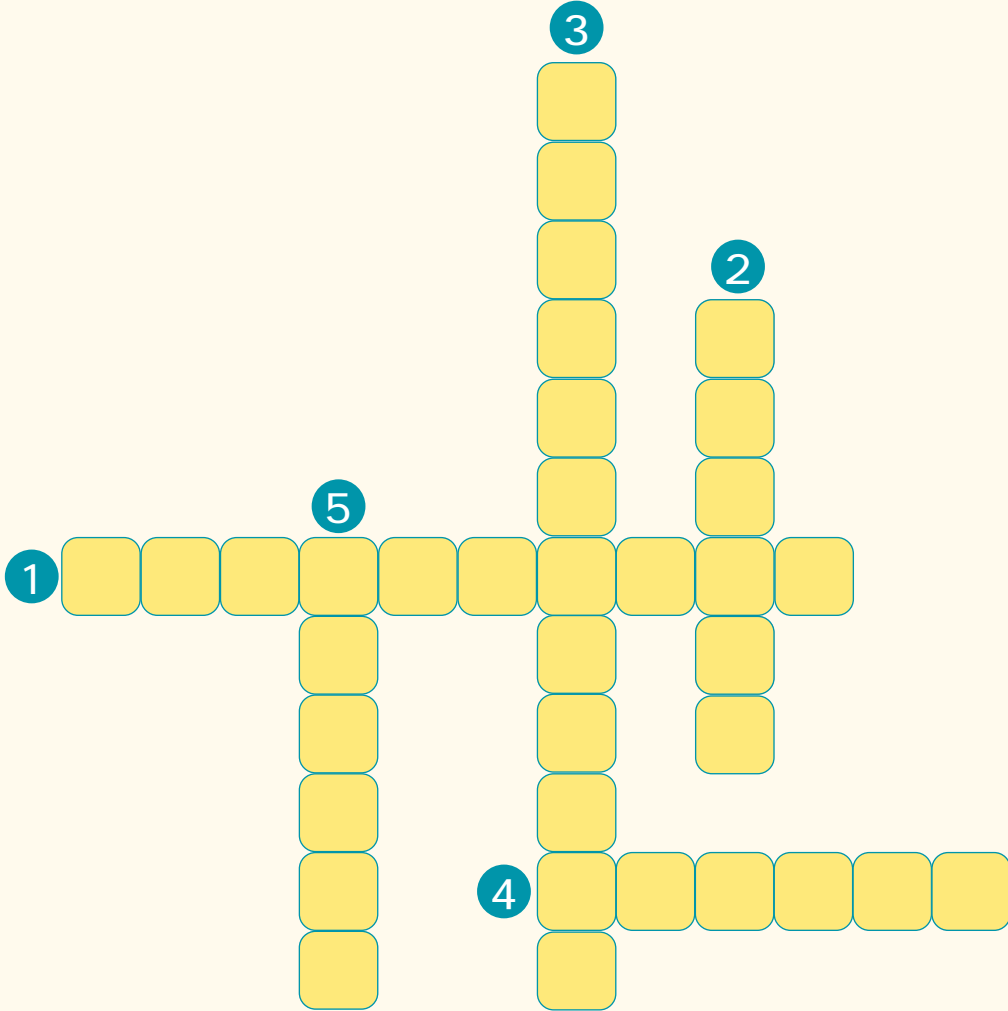
Yukarıdaki ifadelerden kaç tanesi doğrudur?

- A) 1
B) 2
C) 3

UYGULAMA - 5

1

Aşağıdaki soruların cevaplarını bulmacadaki kutucuklara yazınız.



1. İnternete bağlanıp, bilgi edinmemizi sağlayan, evde, okulda, hastahane-
de kullanılan bir araçtır.
2. İlaçların özelliğini bilen, doktorun yazdığı reçeteye göre bize ilaç satan
meslek grubu.
3. 30 Ağustos'ta kutlanan milli bayram.
4. Yazının icadıyla birlikte kullanılmaya başlanan iletişim aracı.
5. Günlük olarak yayınlanan, kâğıttan yapılmış, yazılı iletişim aracı.

2

Aşağıdaki ifadelerin yanındaki boşluğa doğru ise (D), yanlış ise (Y) yazalım.

1. Gün içerisinde farklı olaylar karşısında farklı duygular yaşarız.
2. Gazetecilik mesleği ile uğraşanlar haber takibi yaparlar.
3. Hava durumu tahminini bilgisayar mühendisleri yapar.
4. Atatürk 10 Kasım 1938'de Ankara'da vefat etmiştir.
5. Atatürk Türkiye Cumhuriyeti'nin ilk Cumhurbaşkanıdır.
6. Önder kişiler cesur ve kararlı olmalıdır.
7. Atatürk halifeliğin kaldırılmasını sağlamıştır.
8. Bütün ülkelerin bayrakları aynı renktedir.
9. Ramazan Bayramı milli bayram değildir.
10. Bir maddenin katı hâlden sıvı hâle geçmesi için ısı vermesi gerekir.

UYGULAMA - 6

1

Aşağıdaki kutucuklarda yer alan ifadelerden doğru olanların üzerindeki harfleri sırasıyla yazarak şifreyi bulunuz.

U

Dünya, Güneş'in etrafındaki dönüşünü 365 günde tamamlar.

L

Teknolojinin gelişmesiyle ulaşım araçları daha hızlı ve konforlu hâle gelmiştir.

A

Matbaanın icadıyla gazete, dergi gibi iletişim araçları kullanılmaya başlamıştır.

Z

Doğal afetlerin hepsi aynı etkiye sahiptir.

Ş

Bir maddenin sıvı hâlden katı hâle geçmesine donma denir.

I

Cumhuriyet Bayramı her yıl 29 Ekim'de kutlanır.

F

Atatürk yaptığı yeniliklerden biri halifelikle yönetim şeklinin getirilmesidir.

K

Atatürk 23 Nisan 1923'te Samsun'a çıkarak Kurtuluş Savaşını başlatmıştır.

M

Bulutların şekli ve rengi hava durumu tahmininde önemlidir.

ŞİFRE:

2

Aşağıdaki ifadelerin doğru ya da yanlış olduğuna karar vererek işaretleyiniz. İşaretlemediğiniz kutucuklardaki harfleri sırasıyla şifre kutucuğuna yazıp şifreyi bulunuz.

Doğru

Yanlış

1. Tek başımıza yapabildiğimiz işleri gördükçe kendimize güvenimiz artar.

K

Ö

2. Gün içerisinde hep aynı duyguları yaşarız.

N

S

3. Meteoroloji mühendisleri hava tahminleri yaparlar.

R

D

4. Atatürk 19 Mayıs 1919'da Samsun'a çıkmıştır.

F

E

5. Lider kişiler güvenilir ve cesurdur.

L

R

6. Atatürk takvim, saat ve ölçülerde yenilikler yapmıştır.

N

İ

7. Türk bayrağı ve İstiklâl Marşı bizim için kutsaldır.

S

M

8. Isı alan buz parçası sıvı hâle geçer.

D

İ

9. Sel sadece bitkileri etkiler.

Z

R

ŞİFRE:

UYGULAMA - 7

1

Aşağıdaki ifadelerden doğru olanların yanındaki boşluğa (D) yanlış olanlara (Y) yazınız.

Doğru

Yanlış

1. Arkadaşımız konuşurken onun sözünü kesmemeliyiz.

2. Kaba sözler kullanan kişiler toplum tarafından çok sevilir.

3. Kroki bir yeri daha kolay bulmamıza yardımcı olur.

4. Bir yarışmada rakibimiz kazandığında onunla konuşmamalıyız.

5. Bir problemle karşılaştığımızda çözüm yolu aramalıyız.

6. Sağlıklı yaşam için temizlik kurallarına ve beslenmemize dikkat etmeliyiz.

7. Manastır Askeri Lisesi Atatürk'ün öğrenim gördüğü okullardan biridir.

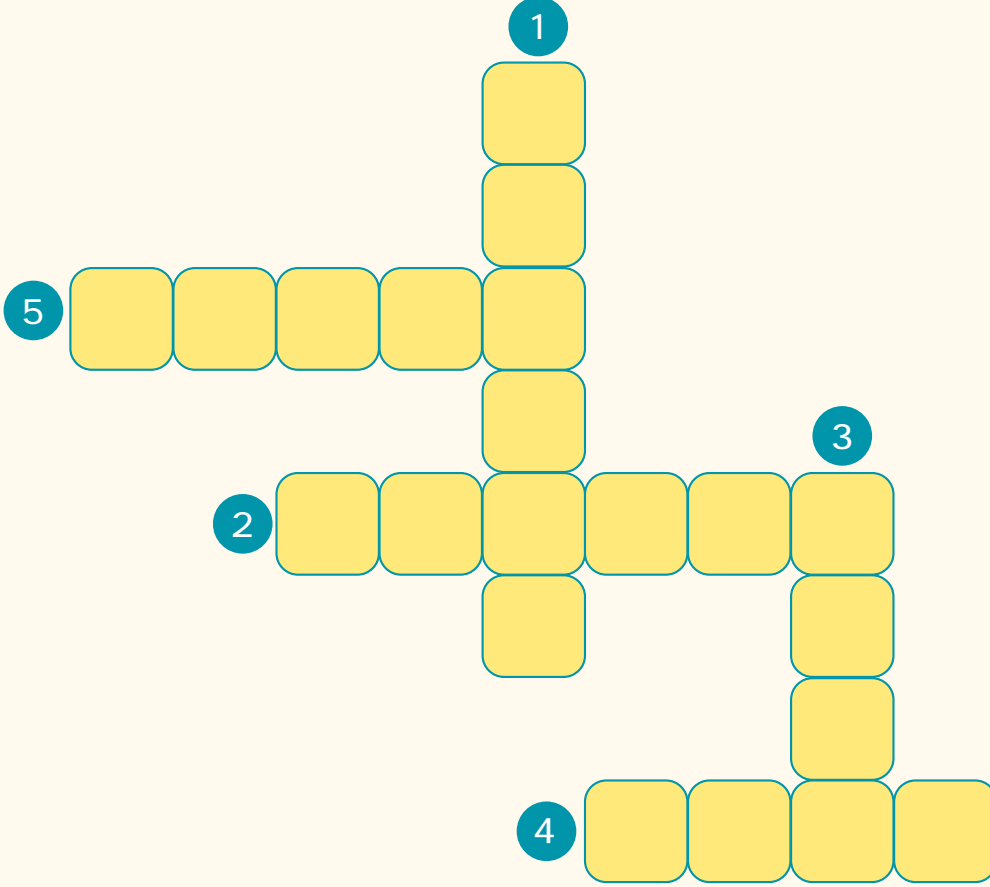
8. Cumhuriyet yönetimi halkın kendi kendini yönetme şeklidir.

9. Tanımadığımız kişilerle bir yere gitmemeliyiz.

10. Pusula yönümüzü bulmak için kullandığımız bir araçtır.

2

Aşağıdaki soruların cevaplarını bulmacadaki kutucuklara yazınız.



1. Yalan söylemeyen, sözüne güvenilir kişi.
2. Kişilerin insanlara hizmet yapmak için yaptıkları iş.
3. Yaralanmalara neden olabilecek, önlem almamız gereken olaylar.
4. İşlerimizin zamanında ve düzenli olarak yapılması için yaptığımız programlar.
5. Topluma önderlik eden kişilere verilen ad.

UYGULAMA - 8

1

Aşağıda verilen sözcükleri kullanarak cümlelerdeki boşlukları doldurunuz.

Cumhuriyet

Selanik

Bilgisayar

Deprem

Demokratik

Tentürdiyot

Dayanışma

Dikkat

1. İyi bir ders çalışma ortamında dağıtacak şeyler bulunmamalıdır.
2. 29 Ekim 1923'te ilan edilmiştir.
3. Atatürk 1881 yılında te doğdu.
4. Evlerin yıkılmasına neden olan yer sarsıntılarına denir.
5. Bayramlarda duygusu artar.
6. Ecza dolabında bulunması gerekir.
7. Sınıfta bir karar alınırken herkesin fikrini sormak bir davranıştır.
8. Okulda, hastahanelerde ve iş yerlerinde yardımıyla işler daha kolay ve güvenilir şekilde yapılır.

2

Aşağıdaki ifadeleri doğru (D) ya da yanlış (Y) olmalarına göre işaretleyiniz.

Doğru

Yanlış

1. Bizimle aynı fikirde olmayan arkadaşlarımızla konuşmamalıyız.

2. Sınıfça yapılan etkinliklerde herkesin fikri alınmalıdır.

3. Sağlığımızı korumak için düzenli spor yapmalıyız.

4. Kendimize uygun öğrenme yolunu bulursak başarılı oluruz.

5. Zafer Bayramı, milli bir bayramdır.

6. Gıda alırken son kullanma tarihine bakmalıyız.

7. Okula çabuk ulaşmak için trafik kurallarına dikkat etmesek de olur.

8. Evimizin yerini tarif ederken yönleri kullanabiliriz.

9. Meslekler arasında iş bölümü vardır.

10. İnsanlar arasında dil, din ve cinsiyet ayrımı yapmamalıyız.

KONU TESTİ

1. TEST: 1. C 2. C 3. C 4. B 5. A 6. C 7. C
8. B 9. B
2. TEST: 1. B 2. C 3. B 4. C 5. C 6. B 7. A
8. C
3. TEST: 1. B 2. B 3. B 4. C 5. C 6. C 7. C
4. TEST: 1. C 2. C 3. B 4. C 5. A 6. B 7. B
8. B
5. TEST: 1. C 2. C 3. C 4. B 5. B 6. C 7. B
8. C 9. A
6. TEST: 1. B 2. A 3. B 4. B 5. C 6. B 7. A
8. B
7. TEST: 1. C 2. C 3. C 4. C 5. C 6. C 7. A
8. A
8. TEST: 1. B 2. C 3. C 4. C 5. B 6. A 7. C
8. C 9. C
9. TEST: 1. B 2. A 3. C 4. C 5. B 6. B 7. A
10. TEST: 1. C 2. C 3. A 4. B 5. B 6. B 7. C
8. A 9. C
11. TEST: 1. C 2. A 3. C 4. C 5. C 6. A 7. C
8. A 9. B
12. TEST: 1. B 2. C 3. C 4. C 5. B 6. B 7. C
8. C
13. TEST: 1. C 2. B 3. B 4. C 5. B 6. B 7. C
8. B 9. C 10. B
14. TEST: 1. B 2. B 3. C 4. B 5. C 6. A 7. B
8. B
15. TEST: 1. B 2. C 3. B 4. C 5. C 6. B 7. C
8. C
16. TEST: 1. B 2. C 3. B 4. C 5. B 6. C 7. B
8. A 9. C 10. C

UYGULAMA - 1

- 1) 1. Sargı bezi 2. Cumhuriyet
3. Yeşil 4. Kroki
5. Mahalle Mektebi
- 2) Cevap. 1
- 3) 1. D 2. Y 3. D 4. Y 5. D 6. D 7. D

UYGULAMA - 2

- 1) 1. D 2. D 3. Y 4. Y 5. D 6. D 7. Y
8. D 9. D 10. D
- 2) 1
- 3) Şifre: Bilgi

UYGULAMA - 3

- 1)
-
- 8
- 4
- 7
- 6
- 5
- 3
- 2
- 1

- 2) Şifre: Şapka

UYGULAMA - 4

- 1) Şifre: Kalemlik
- 2) Şifre: Afet

UYGULAMA - 5

1)

1. D 2. D 3. Y 4. Y 5. D 6. D 7. D 8. Y 9. D 10. Y

UYGULAMA - 6

- 1) Şifre: Ulaşım
- 2) Şifre: Önderimiz

UYGULAMA - 7

- 1) 1. D 2. Y 3. D 4. Y 5. D 6. D 7. D 8. D 9. D 10. D

2)

UYGULAMA - 8

- 1) 1. Dikkat 2. Cumhuriyet 3. Selanik 4. Deprem 5. Dayanışma 6. Tentürdiyot 7. Demokratik 8. Bilgisayar

- 2) 1. Y 2. D 3. D 4. D 5. D 6. D 7. Y 8. D 9. D 10. D