

TÜRKÇE

* Hiçbir zaman elinde sapan olan bir arkadaşım olmadı. Daha doğrusu, öyleleri ile arkadaşlık yapmadım. Çünkü minicik bir kuşun canına kıyarken acıma duygusu olmayan kişi, zor duruma düşene elini uzatmaz. Acıma duygusu olmayan kişi her an birilerine kötülük edebilir.

NOT: 1. 2. 3. soruları yukarıdaki metne göre cevaplayınız

1) Yazar kimlerle arkadaşlık **etmemiştir**?

- A) Yaramaz çocuklarla.
- B) Elinde sapan olanlarla.
- C) Kendiyle yaşıt olmayanlarla.

2) Yazara göre kuşların canına kıyanda ne **yoktur**?

- A) Acıma duygusu
- B) Para
- C) Akıl

3) Acıma duygusu olmayan kişi ne **yapabilir**?

- A) Yaramazlık yapabilir.
- B) Başkasına kötülük edebilir.
- C) Kavga edebilir.

4) *Ödevlerini yaptın mı* cümlesinin sonuna hangi noktalama işareti **konmalıdır**?

- A) Nokta
- B) Soru İşareti
- C) Ünlem işareti

5) Aşağıdaki cümlelerin hangisinde karşılaştırma **yapılmamıştır**?

- A) Çocuklar, babaları kadar akıllı değillermiş.
- B) Büyük kardeş, ortancadan daha güçlüymüş.
- C) Babaları, oğullarının hatalarını anlamalarını sağlamış.

6) "Annem marketten st aldı."

cmlesinde aađıdaki sorulardan hangisinin cevabı yoktur?

A) Ne zaman?

B) Kim?

C) Ne?

7) "Arkadaım annesinin hasta olduđunu syleyince onadedim."

cmlesinde noktalı yere aađıdakilerden hangisi yazılmalıdır?

A) "Teekkr ederim."

B) "zr dilerim."

C) "Geçmi olsun."


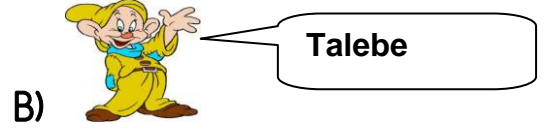
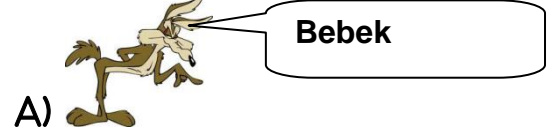
8) "Kızdı," kelimesi aađıdaki cmlelerin hangisinde diđerlerinden *farklı* bir anlamda kullanılmıtır?

A) Aye dzenli bir kızdı.

B) Annesi çocuđa kızdı.

C) Vazoyu kırınca çok kızdı

9) Aađıdakilerden hangisi ile "đrenci," kelimesinin hece sayısı eittir?



10) "Dost kara gnde belli olur."

atasz kaç kelimedenden olumaktadır?

A) 5

B) 9

C) 11

1 1) "Hediye -armağan " arasındaki anlam ilişkisi "konuk" sözcüğü ile hangi sözcük arasında vardır?

- A) tanıdık
- B) komşu
- C) misafir

1 2) Aşağıdaki kelimelerden hangisi yanlış yazılmıştır?

- A) gaste
- B) ev
- C) kalem

1 3) Aşağıdaki cümlelerin hangisinde "çirkin" kelimesinin *zıt anlamı* kullanılmıştır?

- A) Annem sıcak çorba pişirmiş.
- B) Sana güzel bir haberim var.
- C) Yarın hava çok soğuk olacak

1 4) Aşağıdaki sözcüklerden hangisi sözlükte diğerlerine göre sonda yer alır?

- A) ana
- B) anı
- C) anıt

1 5) Aşağıdaki cümlelerin hangisinde **sebeptonuç** cümlesidir?


- A) Başını eğerek konuştu.
- B) Kalenin duvarları sağlam yapılmış.
- C) Araba bozuk olduğundan gelemedik.

MATEMATİK

1) 135 sayısı ile 128 sayısının onlar basamaklarındaki rakamların **basamak değerleri toplamı** kaçtır?

- A) 50 B) 5 C) 500

2)

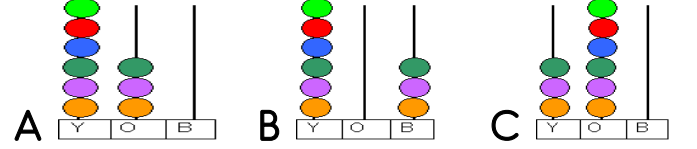


Yukarıdaki grafik okul kantininde bir günde satılan yiyecekleri göstermektedir.

Buna göre okul kantininde kaç tane kek satılmıştır?

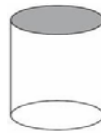
- A) 8 B) 12 C) 16

3) Aşağıdaki abaküslerden hangisinde "altı yüz otuz" sayısı gösterilmiştir?



4) Aşağıdaki geometrik şekillerden hangisinin köşesi ve ayrıtı yoktur?

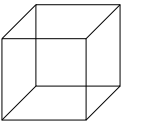
A)

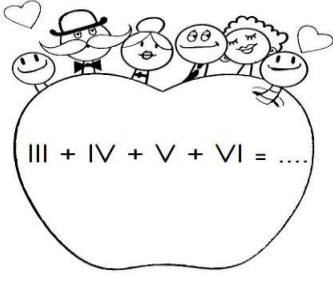


B)



C)





5)

Bu sevimli ailenin paralarının toplamı kaçtır?

- A) 7 TL B) 18 TL C) 20 TL

6) 49 un 9 katının 249 fazlası kaçtır?

- A) 650 B) 690 C) 720

7) Bir sınıfta 14 sıra vardır. Her sırada 3 öğrenci oturmaktadır. Sınıftan 8 öğrenci gittiğinde sınıfta kaç kişi kalır?

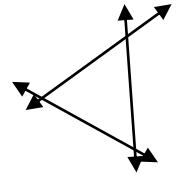
- A) 34 B) 25 C) 19

8) Yandaki üçgensel bölgedeki doğrular için hangisi söylenebilir?

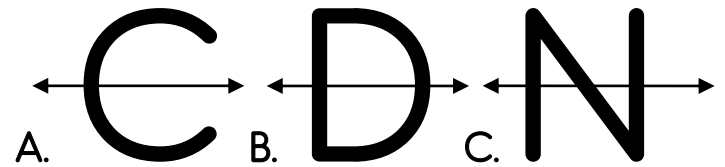
A) Paralel doğrulardır.

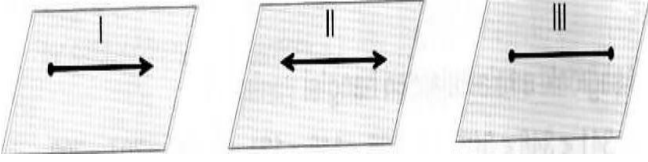
B) Kesişen doğrulardır.

C) Dik kesişen doğrulardır.



9) Aşağıdakilerden hangisi verilen doğruya göre simetrik değildir?





10) Yukarıdaki düzlemler içinde çizilen modeller aşağıdakilerin hangisinde doğru sıralamayla verilmiştir?

I	II	III
A. doğru parçası	doğru	ışın
B. Doğru	ışın	doğru parçası
C. ışın	doğru	doğru parçası

BOT: 1 05 TL MONT: 1 55 TL KAZAK: 75

11) Yukarıdaki bilgilere göre 360 TL ile mağazaya giden Çelik Ailesi 1 bot, 1 mont ve 1 kazak satın aldı. Acaba Çelik Ailesinin kaç lirası artar?

A) 30 B)35 C) 25

48	50	53	57	61	68	75
----	----	----	----	----	----	----

12) Yukarıda bir sayı örüntüsü verilmiştir. Ancak bir sayı bu sayı örüntüsünü bozmaktadır. Örüntünün doğru olabilmesi için örüntüyü bozan sayının yerine aşağıdakilerden hangisi gelmelidir?

A. 67 B. 62 C. 65

13) İrmak 29 yaşında, Büşra ise İrmak'tan 7 yaş büyüktür. İkisinin yaşının toplamı kaçtır?

A) 36 B) 43 C) 65

14) Bir çıkarma işleminde eksilen 209 çıkan sayı 155 ise fark kaçtır?

A) 52 B) 53 C) 54

$$\begin{array}{r} A3C \\ + 3B8 \\ \hline 724 \end{array}$$

15) Yukarıdaki toplama işlemine göre $A+B+C$ kaçtır?

A)17 B)18 C)19

FEN BİLİMLERİ

1 -) Aşağıdakilerden hangisi dilimizin sağlığı için dikkat etmemiz için gereken durumlara örnektir?

A) Ağız ve diş temizliğine önem vermeli, dişlerimizi her gün düzenli olarak fırçalamalıyız.

B) İçeriğini bilmediğimiz maddelerin ne olduklarını tadararak anlamalıyız.

C) Daha sağlıklı ağız ve diş sağlığı için sigara kullanmalıyız

2)

Cam şişe	pamuk	lastik
sert	yumuşak	yumuşak
esnek	esnek	esnek
kırılgan	Kırılgan	Kırılgan değil

Yukarıda verilen hangi maddenin özellikleri doğru olarak verilmiştir?

A) cam şişe B) pamuk C) lastik

3) "Maddenin belirli bir şekli ve hacmi olmayan haline..... denir." İfadesinde noktalı yere hangisi gelmelidir?

A) Katı B) Gaz C) Sıvı

4) Hangisinin gerçekleşmesinde kuvvetin etkisi yoktur?

A) Rüzgârda ağaç yapraklarının sallanması
B) Dolaptaki suyun donması
C) Düşen bardağın kırılması

5) Aşağıdaki hareketlerden hangisi diğerlerinden farklıdır?

A) Kırmızı ışığa yaklaşan arabanın hareketi
B) Piste doğru inen uçağın hareketi
C) Yokuş aşağı yuvarlanan topun hareketi

6) I. Akışkanlık

II. İçine konulduğu kabı tamamen doldurma

III. Konulduğu kabın doldurduğu kısım kadarının şeklini alma

Yukarıdakilerden hangisi ya da hangileri bütün sıvıların ortak özelliğidir?

A. Yalnız I B. I, III C. I, II, III

7) Aşağıdakilerden hangisi ışık kaynağı değildir?

A) güneş B) ay C) yıldız

8) Ses ile ilgili aşağıdaki ifadelerden hangisi yanlıştır?

A) Ses kaynağı uzaklaştıkça sesin şiddeti azalır.

B) Her sesin bir kaynağı vardır.

C) Bütün ses kaynakları doğaldır.

HAYAT BİLGİSİ

1) Gece kaybolduğumuzda yönümüzü en kolay nasıl buluruz?

- A) Ağaç yosunlarına bakarak
B) Güneş'in durumuna bakarak
C) Kutup Yıldızı'na bakarak

2) Aşağıdakilerden hangisi temel ihtiyaçlarımızdan biri değildir?

- A)  Beslenmek B)  Tatile gitmek C)  Giyinmek

3) Hangi seçenekte tanımlanan kişi için okula hazırlıklı gittiği söylenemez?

A. Kemal, akşamdan okul çantasını hazırlar, sabah bir kez daha kontrol eder.

B) Nilgün Duru, okul çantasını ders aralarında yiyeceği abur cuburla doldurur, ayrıca tenffüslerde de yine yiyecek alır.

C) Zeynep, kahvaltısını yaptıktan sonra, akşamdan yaptığı ödevlerini tekrar kontrol eder

4) Meslek seçerken aşağıdakilerden hangisine özen göstermeliyiz?

- A) İlgi ve yeteneklere uygun meslek seçilmelidir.
- B) Baba mesleği seçilmelidir.
- C) Çok para kazanabilecek bir meslek seçilmelidir

5) T.B.M.M. hangi tarihte nerede açıldı?

- A) 23 Nisan 1920'de İstanbul'da.
- B) 29 Ekim 1923'de Ankara'da
- C) 23 Nisan 1920'de Ankara'da

6) Aşağıdakilerden hangisi fiziksel özelliklerimizden birisi değildir?

- A. Boyumuzun uzun olması
- B. Göz rengimiz
- C. Duygularımız

7) Çevremizdeki insanların giyimlerinin, evlerinin, arabalarının farklı olması ile ilgili hangi öğrencinin ifadesi yanlıştır?

- A) Farklılıklar doğaldır.
- B) Bizden farklı düşünen insanlarla görüşmemeliyiz.
- C) Farklılıklarının olması yaşamımıza renk katar.