

TÜRKÇE DERSİ SORULARI

1. "kahvaltı" sözcüğünde kaç tane harf ve kaç tane hece vardır?

- A) 7 harf, 2 hece
- B) 8 harf, 4 hece
- C) 8 harf, 3 hece

2. Hangi davranışı yapan öğrenci, anlatılanları daha iyi anlar?

- A) Bir şey anlatılırken yanındaki arkadaşıyla konuşan öğrenci.
- B) Anlatılanları dikkatle dinleyen öğrenci.
- C) Konuşurken bir şeyler çizen veya yazı yazan öğrenci.

3. "Dün bize Mustafa Amcam geldi." cümlesinde hangisi sözcük yanlış yazılmıştır?

- A) amcam
- B) mustafa
- C) geldi

4. "Sen her sabah geç kalıyorsun ()" cümlesinin sonuna hangi noktalama işaretini koymalıyız?

- A) virgül (,)
- B) soru işareti (?)
- C) nokta (.)

5. "Okulun en şişman öğrencisi bizim sınıftadır." cümlesinde altı çizili sözcüğün zıt anlamlısı aşağıdakilerden hangisidir?

- A) zayıf
- B) fakir
- C) çalışkan

6. Hangisi tek heceli bir sözcüktür?

- A) kasa
- B) etek
- C) park

7. Hangi kelimenin ilk harfi her zaman büyük yazılır?

- A) Ağaç
- B) Mor
- C) İstanbul

8. "Yarın size geleceğiz." cümlesinde hangi sorunun cevabı yoktur?

- A) Ne zaman?
- B) Kime?
- C) Nasıl?

9. Aşağıdaki cümlelerden hangisinde yanlışlık yapılmıştır?

- A) Sen hiç gemi gördün mü?
B) Sek sek oynamayı biliyor musun?
C) Bana dondurma alırmısın?

10. "-ka, -ya, -la" heceleri ile hangi sözcük oluşturulamaz?

- A) kale B) kaya C) yaka

11. "Akşam yatmadan önce ellerini ve ayaklarını yıkadın mı ?" cümlesinde çoğul isimler hangileridir?

- A) Akşam-ellerini B) ellerini-ayaklarını C) ayaklarını- yıkadın mı?

MATEMATİK DERSİ SORULARI

12. "10" sayısı hangi sayılar arasındadır?

- A) 11 - 12 B) 8 - 9 C) 9 - 11



13

14 - 13 - ? - 11 - 10 - ? - 8 - 7 - 6 - 5 - 4 - 3 - 2 - 1

Yukarıdaki sayı dizisinde boş bırakılan yerlere sırasıyla hangi sayılar yazılmalıdır?

- A) 12 - 9 B) 12 - 10 C) 9 - 11

14. En hafif olan hayvanı işaretleyiniz?



15. Beden Eğitimi dersindeki koşu yarışmasında 3. olan Zeynep'ten önce kaç kişi yarışmayı tamamlamıştır?

- A) 1 B) 2 C) 3

16. Hangisi toplama işlemini ifade etmez?

- A) 4 elma, 2 elma daha 6 elma eder.
B) 12'ye 6 eklersem 18 eder.
C) 14 cevizin 4'ünü yersem 10 ceviz kalır.

17. Bu gün Cuma ise dün günlerden neydi?

- A) Pazar B) Perşembe C) Salı

18. Hangi çıkarma işleminin sonucu 11 değildir?

- A) $14 - 3 =$ B) $16 - 5 =$ C) $19 - 6 =$

19. "Annem, tabağa 7 elma koymuştu. 5 tanesini yedik. Tabakta kaç elma kaldı?" sorusunu çözmek için hangi işlemi yapmalıyız?

- A) toplama işlemi B) çıkarma işlemi C) çarpma işlemi


20. Benim 5 kalemim vardı. Annem 3 kalem, ablam da 6 kalem almış kaç kalemim oldu?

- A) 8 B) 11 C) 14

21. Bir otobüste 8 yolcu vardı. 5 yolcu otobüsten indi. Otobüste kaç yolcu kaldı?

- A) 13 B) 3 C) 10

22. Hangisi silindire benzemez ?



HAYAT BİLGİSİ DERSİ SORULARI

23. Hangisi temizlikle ilgili değildir?

- A) Dişlerimizi fırçalamak.
B) Ödevlerimizi yapmak.
C) Tırnaklarımızı kesmek.

24. Hangisi milli bayramlarımızdan birisidir?

- A) 23 Nisan
- B) Kurban Bayramı
- C) İşçi Bayramı

25. Atatürk'ün annesinin adı nedir?

- A) Mustafa Kemal
- B) Makbule Hanım
- C) Zübeyde Hanım

26. Türk bayrağının üzerinde hangisinin resmi **yoktur**?

- A) Güneş
- B) Ay
- C) Yıldız

27. Hangisi sağlığımızla ilgilenir?

- A) Öğretmen
- B) Polis
- C) Hemşire

28. Yemeklerden önce hangisini mutlaka yapmamız gerekir?

- A) Ayaklarımızı yıkamak.
- B) Ellerimizi yıkamak.
- C) Saçlarımızı yıkamak.

29. Aşağıda, bazı hayvanlar ile yaşadıkları yerler eşleştirilmiştir. Hangi eşleştirme **yanlıştır**?

- A) kuş → akvaryum
- B) tavuk → kümes
- C) inek → ahır

30. Adresimizi söylerken hangisini **söylemeyiz**?

- A) babamızın yaşını
- B) sokağımızın adını
- C) kapı numarasını

31. "Anne, baba ve çocuklardan oluşan topluluğa.....denir." cümlesindeki boş bırakılan yere hangisi yazılmalıdır?

- A) grup
- B) aile
- C) okul

32. Hangisi özel eşyalarımızdan **değildir**?

- A) kanepes
- B) diş fırçası
- C) tarak

33. Salonda otururken yemeğin yandığını anlayan annem aniden mutfağa koştu. Annem yemeğin yandığını hangi duyu organıyla algıladı?

- A) el (deri)
- B) kulak
- C) burun