

## DENEME SINAVI - 1

### TÜRKÇE TESTİ

Turgut eve geldiği zaman tüm odaların lambaları yanıyor. Dahası biraz önce çiçeklere bakmak için açılan balkon ışığı bile yanık bırakılmıştı. Salon çok sıcaktı. Sobaya sık sık kömür atılıyor, sıcak fazla geldikçe pencereler açılıyordu. Gündüz yağan kardan sonra hava açmış, ay dede sevimli yüzünü göstermişti.

İlk üç soruyu yukarıdaki metne göre cevaplayınız.

1. Balkonun ışığı niçin yakılmış?


- A) Orada oturdukları için.
- B) Çiçeklere bakmak için.
- C) Kömür almaya çıktıkları için.

2. Salon niçin çok sıcakmış?

- A) Yaz mevsimi olduğu için.
- B) Kaloriferler çok yandığı için.
- C) Sobaya durmadan kömür attıkları için.

3. Ay dede sevimli yüzünü ne zaman göstermiş?

- A) Kar yağmadan önce.
- B) Sabah güneş doğduktan sonra.
- C) Gündüz yağan kardan sonra.



4-Karşıt(zıt) anlamlı olmayan sözcükler hangi görseldedir?

- A) kuzu
- B) balık
- C) kedi



Göz




Gözlük

5-"Göz kelimesine getirilen ek sayesinde yine gözle ilgili olan gözlük kelimesini türetiliyor."Buna benzer bir durum hangi kelimeler arasında da vardır?

- A) beş-beşik
- B) odun-odunluk
- C)kaş-kaşık

Kitaplarını ( )defterlerini ( ) kalem ve silgini çantana yerleştirdin mi ( )



6-Tümcesinde boş bırakılan yerlere sırasıyla hangi noktalama işaretleri gelmelidir?


- A) (,) (?)(.)
- B) (,) (?)(.)
- C) (,) (,) (?)




7-Aşağıdaki cümlelerin hangisinde yazım yanlışı yapılmıştır?

- A) Gizem istanbula gitti.
- B) Çiftçiler ürünlerini topluyor.
- C) Eğer soğuk olursa montumu giyerim.

8. Aşağıdaki öğrencilerden hangisinin söylediği cümle sebep sonuç ifadesidir?

A)  Çalışmayınca sınavda başarısız oldum.

B)  En sevdiğim ders matematiktir.

C)  Sınavda birinci oldum.

9) Başarılı bir öğrenci olan Saliha, büyüyünce doktor olmak istiyor."

Yukarıdaki cümlede altı çizili sözcüklerin yerine aşağıdakilerden hangisini getirirsek cümlenin anlamı değişmez?

- A) talebe - hekim  
B) öğretmen - hemşire  
C) mektep - mimar



10- "masa, bez, sıra, defter" sözcüklerini sözlük sırasına göre sıraladığımızda baştan üçüncü sözcük hangisi olur?


- A) masa B) sıra C) defter

Geçen yaz dedemin köyünde çok güzel vakit geçirdim.

11-Yukarıdaki cümlede hangi sorunun cevabı yoktur?

- A ) neden B ) ne zaman  
C ) nerede

- 1- gidip  
2- köyümüze  
3- tatilde  
4- eğleneceğim  
5 -çok



12-Yukarıdaki sözcüklerden anlamlı ve kurallı bir cümle oluşturursak sıralama aşağıdakilerden hangisi olur?

- A) 1-5-3-2-4 B) 3-2-1-5-4  
C) 3-2-5-4-1

13- Aşağıdaki cümlelerden hangisinde "kırmızı" kelimesi varlığın özelliğini belirten sözcüktür?

- A) Anneme kırmızı çok yakışıyor.  
B) Dedem hediye olarak kırmızı araba almış.  
C) Domatesin rengi koyu kırmızıydı.

14-Aşağıdaki sözcüklerden hangisinin hece sayısı, diğerlerin hece sayısından azdır?

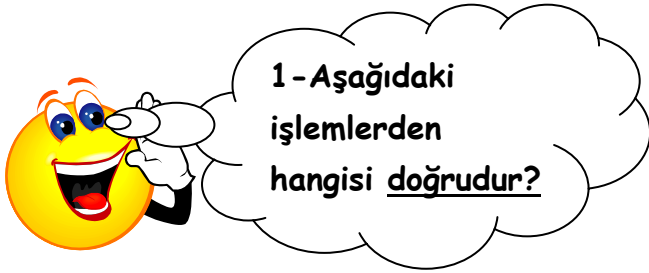
- A) Diyarbakır  
B) Afyonkarahisar  
C) Kahramanmaraş

- ☆ Zürafa, inekten büyüktür.
- 😊 Sınıftan koşarak çıktım.
- ♥ Kırmızı ayakkabımı kaybettim.

15-Yukarıdaki cümlelerin hangisinde karşılaştırma yapılmıştır?

- A) ♥ B) 😊 C) ☆

### MATEMATİK TESTİ



- A)  $419 > 491$  B)  $807 = 708$   
C)  $927 < 972$

9K3

2-Kartta yazan sayının "dokuz yüz altmış üç" olması için "K" yerine hangi rakam yazılmalıdır?

- A) 6 B) 5 C) 8



399 TL



119 TL

3-Lale Hanım, kendisine cep telefonu oğluna bisiklet satın alıyor. Satıcıya kaç lira para ödemelidir?

- A) 518 B) 480 C) 628

|    |    |    |    |    |   |
|----|----|----|----|----|---|
| 13 | 15 | 19 | 25 | 33 | ? |
|----|----|----|----|----|---|

4-Yukarıdaki örüntüde ? işareti aşağıdaki sayılardan hangisi gelmelidir?

- A) 43 B) 41 C) 35

5)  $109 + 28 > \square$  işleminde  $\square$  yerine yazılabilecek en büyük doğal sayı hangisidir?

- A) 138 B) 136 C) 137

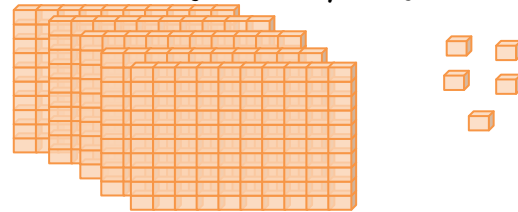
$$\begin{array}{r}
 1 \heartsuit 6 \\
 \star 7 4 \\
 + \\
 \hline
 5 0 0
 \end{array}$$

6-Yukarıda verilmeyen rakamlar hangi seçenekte doğru verilmiştir ?



- A) 3 4  
B) 2 4  
C) 2 3

7-) Aşağıda taban blokları ile modellenmiş olan sayı kaçtır?



- A) 505 B) 550 C) 55


8-  $148 < \star < 154$  sıralamasında  $\star$  yerine hangi sayıyı yazamayız?

- A) 150      B) 143      C) 151

XIV. Cadde

9- Yukarıdaki tabelada Romen rakamı ile gösterilen caddenin numarası kaçtır?

- A) 19      B) 14      C) 16




10- Miki Fare yukarıdaki sayıyı en yakın onluğa yuvarladı. Miki Fare'nin yazdığı sayıdaki "  " yerine aşağıdaki hangi rakam yazılamaz?

- A) 2      B) 4      C) 7

11- 579 sayısının onlar basamağındaki rakamın basamak değeri kaçtır?

- A) 70      B) 7      C) 579

12- Hangi evin kapı numarası bir çift sayıdır?



13- Yukarıdaki sıralamanın doğru olabilmesi için hangi iki sayının yerleri değiştirilmelidir?

- A) 144 ile 246      B) 318 ile 246  
C) 318 ile 663

14- "2, 7, 4" rakamları kullanılarak yazılabilecek en büyük sayı kaçtır?

- A) 274      B) 724      C) 742

15) Mehmet'in 305 kilo buğdayı var. Asım'ın buğdayları, Mehmet'in buğdaylarından 97 kilo daha fazladır. İkisinin toplam kaç kilo buğdayı vardır?

- A) 402      B) 697      C) 707

## HAYAT BİLGİSİ TESTİ

1- Aşağıdakilerden hangisini yaparsak karşımızdaki kişiyle etkili bir iletişim kurmuş oluruz?



- A) Konuşan kişiye bakmamalıyız.
- B) Yüksek sesle konuşmalıyız.
- C) Nezaket kurallarına uymalıyız.



### Beden Eğitimi

dersinde Sporcu Şirin ve arkadaşları yakar top oynadılar. Sporcu Şirin oyunu kaybedince ağlamaya başladı.

2- Arkadaşları Sporcu Şirin'e nasıl bir tavsiyede bulunmuş olabilir?

- A) Bir daha yakar top oynamasan iyi olur.
- B) Senin 5 canın olsun. Hep oyunda kal.
- C) Oyunda kazanmak da, kaybetmek de doğaldır. Buna üzülmemelisin.



3) Zeynep, kitaplık tarafındaki baştan 3. sırada oturuyor. Zeynep'in oturduğu sıra krokide kaç numara ile gösterilmiştir?

- A) 11
- B) 10
- C) 3

4) "Ayşe, annesinin tüm uyarılarına rağmen gece geç yattığı için sabah okula geç kalmıştı. Ayrıca okula giderken birkaç okul eşyasını evde unutmuştu." Öğretmeni Ayşe'ye bu durumla ilgili tavsiyede bulunmuştur. Öğretmeni Ahmet'e neler söylemiş olabilir?



A) Yardımsever ve düzenli olmalısın



B) Planlı ve düzenli olmalısın



C) Dengeli ve düzenli beslenmelisin



"Tekerlekli sandalyesi ile yeni kayıt olduğu okuluna giden Mehmet'i yeni sınıf arkadaşları samimi, içten bir şekilde karşılamışlardır. Daha

sonraları oynadıkları oyunlara Mehmet'i de dahil etmişler, ona oyunlarda yapabileceği sorumluluklar vermişlerdir."

5- Bu anlatılanlara göre Mehmet'in yeni sınıf arkadaşları için söylenenlerden hangisi doğrudur?

- A) Engellilere acıyan kişilerdir.
- B) Farklılıkların doğal olduğunu bilen kişilerdir.
- C) Sınıf çok yaramaz ve bencildir.

Esra



Bir yerin .....  
görünüşünün kağıt üzerine  
kaba taslak çizimine **kroki**  
denir

6. Esra'nın cümlesinde boş bırakılan yere aşağıdakilerden hangisi getirilmelidir?

- A) ağaçtan      B) helikopterden  
C) kuşbakışı



Ben Ela. Okulumun  
geçmişini çok merak  
ediyorum. Okulumun  
tarihçesini araştırıp  
öğrenmek istiyorum.

7- Buna göre Ela, okulunun tarihçesini öğrenmek için aşağıdaki kişilerden hangisiyle görüşmelidir?

- A) Dede ve ninesiyle  
B) Mahalle muhtarıyla  
C) Okul müdürüyle

8) Ders çalışırken bir soruyu yapamazsak ne yapmalıyız?

- A ) Soruyu boş bırakıp öğretmenimize sormalıyız.  
B ) Ders çalışmayı bırakmalıyız.  
C ) Sorunun üzerini karalamalıyız

9) Aşağıdaki görsellerden hangisini sınıfta **kullanmayız?**

A )



B)



C)



10) Aşağıdaki öğrencilerden hangisi **saygısız** bir davranış yapmaktadır?

A)



Boyu kısa olanlarla alay ederim.

B)



Sınıfa geç girersem özür dilerim.

C)



Sınıfta izin alarak konuşurum.

11. Hangi seçenekteki eşleştirme **yanlıştır?**

A)

Saç rengi



Kişisel özellik

B)

Göz rengi



Fiziksel özellik


C)


Duygusal  
olmak




Kişisel özellik

12- Aşağıdaki öğrencilerden hangisi çevresiyle ve arkadaşlarıyla ilişkilerinde başarısız olur?

A)  Kimseye emir vermem, herkese saygı duyarım.

B)  Eğlenceli biriyim , güzel ve zevkli oyunlar kurarım.

C)  Çok komik biriyim , herkese ilginç lakaplar takarım.



13-Okul kurallarına niçin uymalıyız?

- A) Okul düzenini sağlamak için  
B) Okulda yaramazlık yapabilmek için  
C) Ceza vermek için

14. Emin sınıfına başkan oldu. Sınıfta demokratik bir ortam var.Bu durumda Emin nasıl başkan olmuştur?

- A) Öğretmeni tarafından seçilmiştir.  
B) Çok çalışkan olduğu için onun hakkıdır.  
C) Arkadaşlarının oyu ile seçilmiştir.

| Salı      | Çarşamba        |
|-----------|-----------------|
| H.Bilgisi | H.Bilgisi       |
| Türkçe    | Görsel sanatlar |
| Müzik     | Matematik       |
| Matematik | Türkçe          |

15.Yukarıdaki ders programına göre Asya **Çarşamba** günü hangisini getirmesi **gerekmez?**

- A) flüt  
B) boya kalemleri  
C) matematik defteri

### FEN BİLİMLERİ TESTİ

1.Aşağıdaki davranışlardan hangisi duyu organlarımıza zarar vermez?



|   |        |  |          |
|---|--------|--|----------|
| 1 | Cam    |  | maddedir |
| 2 | Sünger |  | maddedir |
| 3 | Demir  |  | maddedir |

2-Yukarıdaki tabloda cümlelerde boş bırakılan yerlere sırasıyla gelmesi gerekenler hangi seçenekte doğru verilmiştir?

A )

|   |         |
|---|---------|
| 1 | sert    |
| 2 | renksiz |
| 3 | kokulu  |

B)

|   |         |
|---|---------|
| 1 | pürüzlü |
| 2 | yumuşak |
| 3 | sert    |

C )

|   |          |
|---|----------|
| 1 | kırılgan |
| 2 | esnek    |
| 3 | sert     |

3-Aşağıdaki hareket türlerinden hangisi diğerlerinden farklıdır?

A)



B )



C)



4.Aşağıdaki duyu organlarından hangisi vücudumuzun her yerinde bulunur?

A) Deri

B) Kulak

C) Göz



5-"Boşlukta yer kaplayan ve beş duyu organımızla fark edebildiğimiz her şey maddedir." Buna göre aşağıdaki maddelerden hangisini gözümüz kapalıyken koklayarak tanıyamayız ?

A )



nane

B)



gül

C )



altın

Bir cisme hareketinin zıt yönünde kuvvet uygulanırsa cisim hareketi yapar. ★

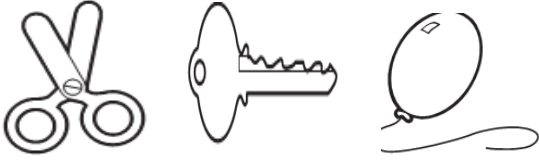
6-Yukarıdaki cümlede ★ ile gösterilen yere aşağıdakilerden hangisi getirilmelidir ?

A) yavaşlama

B) hızlanma

C) dönme





7. Yukarıdaki maddelerden hangisi sert bir madde **değildir**?

- A) makas B) balon C) anahtar

|                                     |
|-------------------------------------|
| 1 - Çekmeceyi açan çocuk            |
| 2 - Çorabını ayağından çıkaran adam |
| 3 - Gözlüğünü takan kadın           |

8-Yukarıdakilerden hangisi diğerlerinde farklı bir kuvvet uygulamıştır?

- A) 3 B) 2 C) 1



9-Yukarıdaki resimde hangi hareket veya kuvvet çeşidi **yoktur** ?

- A) İtme B) Çekme C) Sallanma



- A) Hızlanma B) Sallanma C) Yavaşlama

11- Aşağıdakilerden hangisi duyu organlarımızdan birisi **değildir**?

A)



B)



C)



12



Görme duyu organıdır.



Koklama duyu organıdır.



Duyma duyu organıdır.

Yukarıdaki eşleştirmelerden hangisi doğrudur.

A)



B)



C)





13 Yandaki adamın, uyguladığı kuvvetin çeşidi hangisidir?

- A) İtme B) Çekme C) Yön değiştirme

( ) Çok parlak ışık sağlığınıza uygundur.

( ) Burnumuzu karıştırmamalıyız.

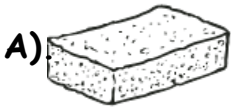
( ) Asitli yiyecekler zararlıdır.

14 Yukarıdaki cümlelere doğru-yanlış verirsek sırasıyla nasıl olmalıdır?

- A) D-D-Y B) D-Y-Y C) Y-D-D

- ✓ Esnektir
- ✓ Pürüzlüdür
- ✓ Yumuşaktır.
- ✓ Kokusuzdur.

15. Yukarıda özellikleri verilen madde hangisidir?



Bulaşık süngeri



çatal



oyun hamuru