

DENEME SINAVI - 2

TÜRKÇE TESTİ

Çalışmayı sevmeyen tembel arı, miskin miskin gezinirken bir ev görmüş. Eve yaklaşınca bir de ne görsün! Kavanoz kavanoz reçeller... Kavanozların kapakları açık duruyormuş. İnsanlar bu kavanozların kapaklarını kapatıp kışın kullanmak üzere kilere götürüyorlarmış.

Tembel arı sevinçle ağzı açık olan reçel kavanozunun içine dalmış. İştahla kendinden geçmiş bir halde reçel yemeğe başlamış. Kavanozun kapağının kapandığını fark etmemiş bile. Fark ettiğinde ise iş işten geçmiş. Biraz çırpınabilmiş o kadar...

Aşağıdaki İlk 4 soruyu metne göre yanıtlayalım.

1) Arı için aşağıdakilerden hangisi söylenebilir?

- A) Çalışkan B) Sabırlı C) Aç gözlü

2) Aşağıdakilerden hangisi metnin başlığı olabilir?

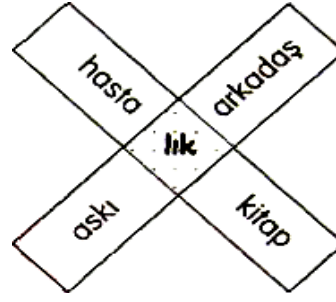
- A) Kavanoz B) Tembel Arı C) Çalışkan Arı

3) Arı evde ne görmüş?

- A) Kavanoz kavanoz reçelleri
B) Renk renk çiçekleri
C) Evde yaşayan insanları

4) Aşağıdakilerden hangisi metinden çıkarılacak sonuç olabilir?

- A) Aç gözlülük olumsuz bir davranıştır.
B) Reçel yemek zararlıdır.
C) İnsanlar reçelleri yazın yerler.



5) Ortadaki taralı ek, kutudaki sözcüklerden kaç tanesinin yanına eklendiğinde yeni sözcük oluşur?

- A) 2 B) 3 C) 4

1. Uçurtmamı gökyüzüne bıraktım.
2. Açık bir araziye yürüdüm.
3. Hava güneşli ve açıktı.
4. Uçurtmam kuş gibi süzülüyordu.

6) Yukarıdaki cümlelerden anlamlı bir metin oluşturulduğunda doğru sıralama hangisi olur?

- A) 1 - 4 - 3 - 2 B) 3 - 2 - 1 - 4
C) 2 - 3 - 4 - 1

7. Aşağıdaki canlıların isimlerinden hangisi sözlük sıralamasına koysak ilk başta yer alır?



- A) örümcek B) kelebek C) kanguru

"dün ankara'dan tirenle geldik."

8) Yukarıdaki cümlede kaç yazım yanlışı yapılmıştır?

- A) 2 B) 3 C) 5

"Annem pazardan elma() armut () portakal ve mandalina aldı () Acaba muz aldı mı ()"

9) Yukarıda parantezlerin içine sıra ile hangi noktalama işaretleri gelmelidir?

- A) (,) (,) (?) (!)
B) (,) (,) (!) (?)
C) (,) (,) (.) (?)



10) "Sıcak" kelimesi hangi şıkta varlığın özelliğini bildiren kelime olarak kullanılmıştır?

- A) Yaz mevsimindeki sıcaklıkları özledim.
B) Kahvaltı için fırından sıcak ekmek aldım.
C) Sıcaklarda ne giysek bunalıyoruz.

11) Aşağıdaki öğrencilerden hangisi *eş sesli bir sözcük* kullanmıştır?

A) Yaşar	Ocaaktaki ateş sönmüş.
B) Ömer	Yeni eteğimi yıkayacağım.
C) Umut	Okulun önünde satıcı var.

12) Aşağıdakilerin hangisi satır sonuna doğru ayrılmıştır?

A)

B)

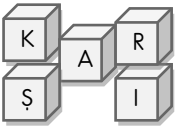
C)

...kardeş-
im

...okya-
nus

.....karı-
n

13) Selim, kutuların üzerindeki harfleri kullanarak sözcük oluşturma oyunu oynuyor. Selim aşağıdaki sözcüklerden hangisini oluşturamaz?



- A) ŞARKI B) ALKIŞ C) KARIŞ

14) Hangi defter yandaki defter ile aynı amaçla kullanılır?

- A) Şiir defteri
B) Anı defteri
C) Kutlama defteri



Hatıra defteri

esir

öneri

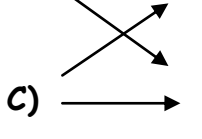
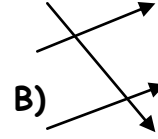
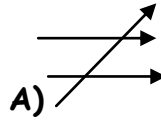
teklif

kanun

yasa

tutsak

15) Yukarıdaki kelimeleri eş anlamlılarıyla oklarla eşleştirdiğimizde hangi seçenek karşımıza çıkar?



MATEMATİK TESTİ

$$A > 127 + 345$$

1) Olduğuna göre "A" sayısının yerine yazılabilecek en küçük sayı kaçtır?

A) 473

B) 472

C) 471



730

Ezgi

2) Aşağıda verilen sayılardan hangisi Ezgi'nin söylediği sayıya yuvarlanmaz?

A) 726

B) 734

C) 724

I= 1	III= 3	XI= 9
VV= 10	X=10	VII=7
VIII=8	XIV=14	XX=20

3. Yukarıdaki tabloda Romen rakamları ve karşılıkları verilmiştir. Buna göre **yanlış yazılanlar boyandığında** aşağıdaki şekillerden hangisi oluşur?

A)

B)

C)



119 TL

4) Ayşe, ayakkabı ve çanta almak istiyor. Çantanın fiyatı ayakkabıdan **37 TL fazla** olduğuna göre Ayşe ikisine kaç lira ödemelidir?

A) 156 B) 205 C) 275

857 > 765 > ... > 543 > 444

5) Yukarıdaki sıralamada noktalı yere aşağıdakilerden hangisi **gelmelidir**?

A) 541 B) 345 C) 761

6) "6, 1, 3" rakamları ile yazılabilecek üç basamaklı **en küçük çift** sayı hangisidir?

A) 163 B) 136 C) 316

7) Babam kömürcüden 900 kg kömür aldı. İlk ay 255 kg, ikinci ay 546 kg kömür yaktık. Geriye kaç kg kömürümüz kalmıştır?

A) 80 B) 91 C) 99

8) Aşağıdaki işlemlerin hangisinin sonucu **tek** sayıdır?

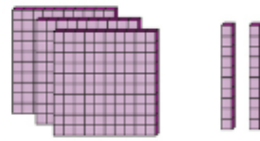
A) $462 + 136$ B) $701 - 295$ C) $236 + 345$

9) $21 * 28 * 35 * ☆ * 49 * ⊙ * 63$

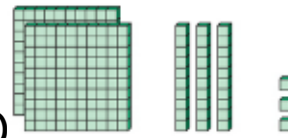
örüntüsünde $☆ + ⊙ = ?$

A) 90 B) 98 C) 114


10) "üç yüz yirmi" sayısının modeli hangisidir?



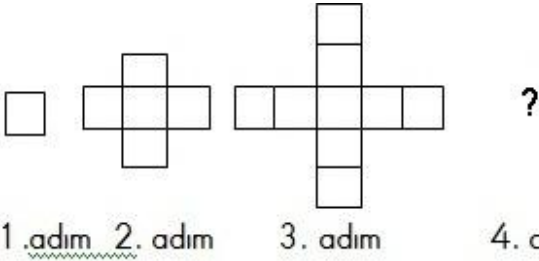
A)



B)



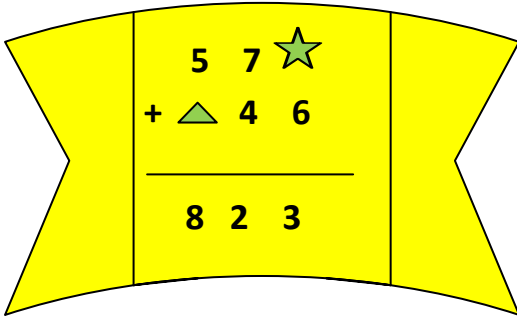
C)



1. adım 2. adım 3. adım 4. adım

11) Yukarıdaki örüntüde "?" yerine çizilecek şekilde kaç kare olmalıdır?

- A) 12 B) 14 C) 13



12) Yukarıdaki toplama işlemine göre yıldız ve üçgenin çarpımı kaçtır?

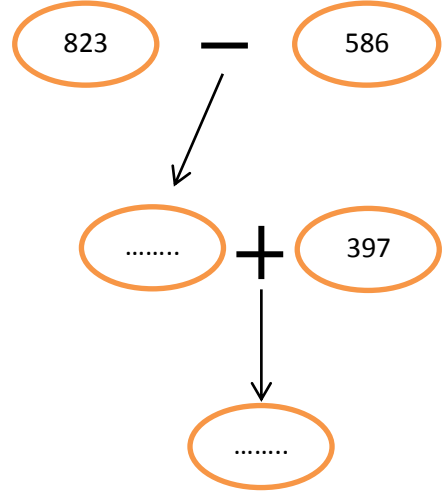
- A) 14 B) 21 C) 18

13) 34'ten başlayıp ileriye yedişer saydığımızda dördüncü saymada hangi sayıyı söyleriz?

- A) 56 B) 55 C) 48

14) Bir çiftlikte 600 hayvan yaşamaktadır. Bu hayvanların 215'i horoz, 87'si civciv ve geri kalanı tavuktur. Buna göre bu çiftlikteki tavukların sayısı kaçtır?

- A) 267 B) 298 C) 380



15) Yukarıdaki işlemler ok yönünde yapıldığında sonuç kaç olur?

- A) 348 B) 688 C) 634

HAYAT BİLGİSİ TESTİ

Bayramlar toplumsal dayanışmayı sağlar

D

Y

Kurban Bayramı dini bayramlarımızdandır

Cumhuriyet Bayramı Milli bayramlarımızdandır

D

Y

D

Y

1. Çıkış 2. Çıkış 3. Çıkış 4. Çıkış

1) Verilen bilgiler doğru ise "D", yanlış ise "Y", yönünde ilerleyen biri hangi çıkışa ulaşır?

- A) 1. Çıkış B) 2. Çıkış C) 3. Çıkış

2) Türkiye Büyük Millet Meclisi 23 Nisan 1920'de açılmıştır. Biz bu tarihi her sene bayram olarak kutlarız. Bu bayramın adı aşağıdakilerden hangisidir?

- A) Zafer Bayramı
- B) Cumhuriyet Bayramı
- C) Ulusal Egemenlik ve Çocuk Bayramı



3) Atatürk ve TBMM neden Cumhuriyet yönetimine karar verdiler ?

- A) Daha demokratik bir yönetim şekline geçmek için .
- B) Padişah'tan intikam almak için
- C) Yeni bir padişah bulamadıkları için

4) Aşağıdakilerden hangisi dini bayramlarımızdan biridir?

- A) 23 Nisan Ulusal Egemenlik ve Çocuk Bayramı
- B) Kurban Bayramı
- C) 29 Ekim Cumhuriyet Bayramı

5)Aşağıdaki ifadelerden hangisi "fiziksel özellikler"den söz etmektedir?

- A) Arkadaşım, sarı saçlı, ela gözlü, uzun boylu biridir.
- B) Annem bayrağın kutsallığına inanır.
- C) Babam çok güzel resim yapar

Sınıfta yan yana oturan iki arkadaş sürekli kavga etmekte ve derslerde gereksiz konuşarak sınıfı rahatsız etmektedirler."

6) Yukarıdaki sorun için en uygun çözüm hangisi olabilir?



Öğrenciler okuldan kovulmalıdır.

A)



Polise haber verilmelidir.

B)



Yerleri değiştirilerek başka öğrencilerle oturtulmalıdır.

C)

7-Bir yerin ya da binanın bölümlerinin kabataslak kuşbakışı çizimine ne denir?

- A) Plan
- B) Kroki
- C) Harita



Burak

Evde yemek yedikten sonra anneme ne söylemeliyim?

8) Burak'ın sorusunun **cevabı nedir?**

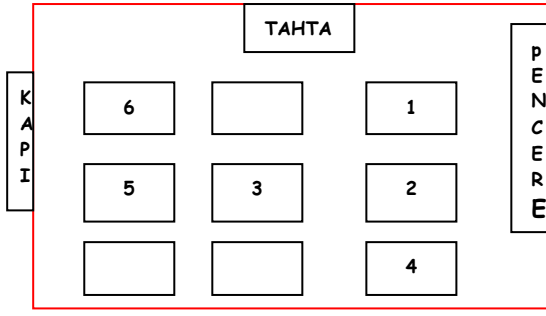
- A) Televizyon seyredelim.
- B) Neden istediğim yemeği yapmadın?
- C) Eline sağlık.

1-Harp Akademisi 2- Şemsi Efendi Okulu

3- Askeri Lise 4- Askeri Ortaokul

9) Mustafa Kemal' in gittiği okulların doğru sıralanışı hangi seçenekte verilmiştir?

- A) 2-1-4-3
- B) 2-3-4-1
- C) 2-4-3-1



Merve ve ailesi babasının iş durumu nedeniyle yeni bir şehre taşındılar. Merve, yeni sınıfında yeni arkadaşlarını seçecektir.

13) Aşağıdakilerden hangisi Merve'nin arkadaşlarında aradığı bir özellik olamaz?

- A) Güvenilir olması B) Dürüst olması
C) Yalancı olması

14) Hangi öğrencinin derslerinde başarılı olması beklenir?

- A) Melih, düzenli olarak ders çalışıyor.
B) Mert, hem Tv. izliyor hem matematik çalışır.
C) Murat, ödevlerini ablasına yaptırıyor.

Okul bahçesinde oyun oynarken Sevgi, öncelikle kendi arkadaşlarını oyuna aldı. Bana ve arkadaşlarıma biraz daha beklememiz gerektiğini söyledi. Halbuki bu oyunda bizde oynayabilirdik.

15) Yukarıdaki anlatımda Sevgi'nin davranışı için ne söylenebilir?

- A) Oyun kurallarına uygun davranmıştır.
B) Bütün arkadaşlarına karşı eşit davranmıştır.
C) Yanlı davranışta bulunmuştur.

10) Derya, sınıfta pencere tarafında **ORTADAKİ** sırada oturmaktadır. Derya nerede oturmaktadır?

- A) 4 B) 5 C) 2

BİLGİ YARIŞMASI



11) "3.Sınıflar arasında düzenlenen bilgi yarışmasında 3/ F sınıfı öğrencileri birinci oldu." Buna göre 3/F Sınıfı öğrencilerinin aşağıdaki davranışlarından hangisi yanlıştır?

- A) Kaybeden arkadaşlarıyla dalga geçerek onlara gülerler.
B) Bilgi yarışmasının hem eğitici hem de eğlendirici olduğunu arkadaşlarına hatırlatırlar.
C) Kaybeden arkadaşlarına bunun bir yarışma olduğunu, kazanmak kadar kaybetmenin de doğal olduğunu, üzülmemeleri gerektiğini söyleyerek arkadaşlarını teselli ederler.

12-) Aşağıdakilerden hangisi eşyalarını özenli kullanan öğrenciye **örnektir**?

- A) Futbol oynadıktan sonra ayakkabılarını çamurlu bırakan Cem.
B) Dişlerini fırçaladıktan sonra diş fırçasını yıkayan Selma.
C) Kitaplarını çantasına düzenli yerleştirmeyen Meltem.

FEN BİLİMLERİ TESTİ



Atın arabayı çekmesi



1) Yukarıdaki varlıkların hareketinde uygulanan kuvvetlerin türü hangi seçenekte doğru verilmiştir?

I	II	III
A) Çekme	İtme	Çekme
B) Çekme	Çekme	İtme
C) İtme	Çekme	Çekme

2) Aşağıdakilerden hangisi dönme hareketine örnek olarak verilebilir?

- A) Sallanan sandalyenin hareketi
- B) Evin kapısını açarken anahtarın hareketi
- C) Ağaçtan düşen elmanın hareketi

3) Aşağıdakilerden hangisi yapay ışık kaynağıdır?

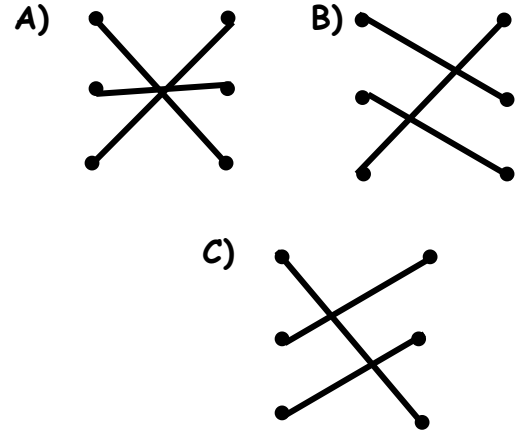


4. Aşağıdakilerden hangisi yanlıştır?


- A) Görebilmek için ışık şarttır.
- B) Güneş dünyamızı hem aydınlatır hem ısıtır.
- C) Ay da Güneş gibi bir ışık kaynağıdır.

- Hava • • Sıvı
- Demir • • Gaz
- Süt • • Katı

5) Yukarıdakilerin doğru eşleştirilmesi hangisidir?



6) Aşağıdaki maddelerden hangisi doğada hem sıvı hem gaz hem de katı halde bulunabilir?



7) Aşağıdakilerden hangisi **doğal ışık** kaynağıdır?

I- Yıldız

II- Ampül

III- Güneş

IV- Ateş böceği

V- Gaz lambası

VI- Mum

A) I-III

B) I-III-IV

C) II- V-VI

8) Aşağıdakilerden hangisi **doğru değildir**?

A) Katı maddelerin belirli bir şekli vardır.

B) Sıvıların belirli bir şekli yoktur.

C) Un, tuz, şeker sıvı maddelere örnektir.



Oyun hamuru



Cam şişe



Sarmal yay

9) Yukarıdaki maddelerin özellikleri hangi seçenekte doğru olarak verilmiştir?

Oyun hamuru

Cam şişe

Sarmal yay

A.	Yumuşak	Kırılğan	Esnek
B.	Kırılğan	Esnek	Yumuşak
C.	Esnek	Yumuşak	Kırılğan

10) Bir cismi görebilmemiz için aşağıdakilerden hangileri **gerekli**dir ?

A) şiddet - ışık

B) ışık - göz

C) ses - göz

Taş- zeytinyağı-meyve suyu-altın-demir- cam-sünger- su buharı

11) Yukarıdaki maddelerden kaç tanesi katıdır?

A) 5

B) 4

C) 3

"Onur oynayan çocukları gördü. Dışarı çıktığında havanın soğuk olduğunu anladı.

Hemen eve gitti. Üstüne bir ceket aldı.

Ceketi yumuşatıcı kokuyordu."

12) Yukarıdaki anlatımda Onur hangi duyu

organını **kullanmamıştır**?

A) Göz

B) Kulak

C) Burun

Doğal ışık kaynakları	Yapay ışık kaynakları
1. Güneş	4. Araba farları
2. Yıldızlar	5. Şimşek
3. El feneri	6. Mum

12) Yukarıdaki tablonun doğru olabilmesi için kaç numaralı ışık kaynaklarının **yerleri** değişmelidir?

A) 1 ve 6

B) 2 ve 4

C) 3 ve 5

14) Aşağıdaki hareketlerden hangisi **itme** kuvvetine örnektir?

A) Evin penceresinin açılması

B) Dolabın çekmecesinin kapatılması

C) İp bağlanmış oyuncak arabanın çekilerek hareket ettirilmesi



15) Durağa yaklaşan otobüsün hareket türü aşağıdakilerden hangisidir?

A) Hızlanma

B) Dönme

C) Yavaşlama

BAŞARILAR ☺