

GEOMETRİK ŞEKİLLER VE KESİRLER ÇALIŞMA SAYFASI

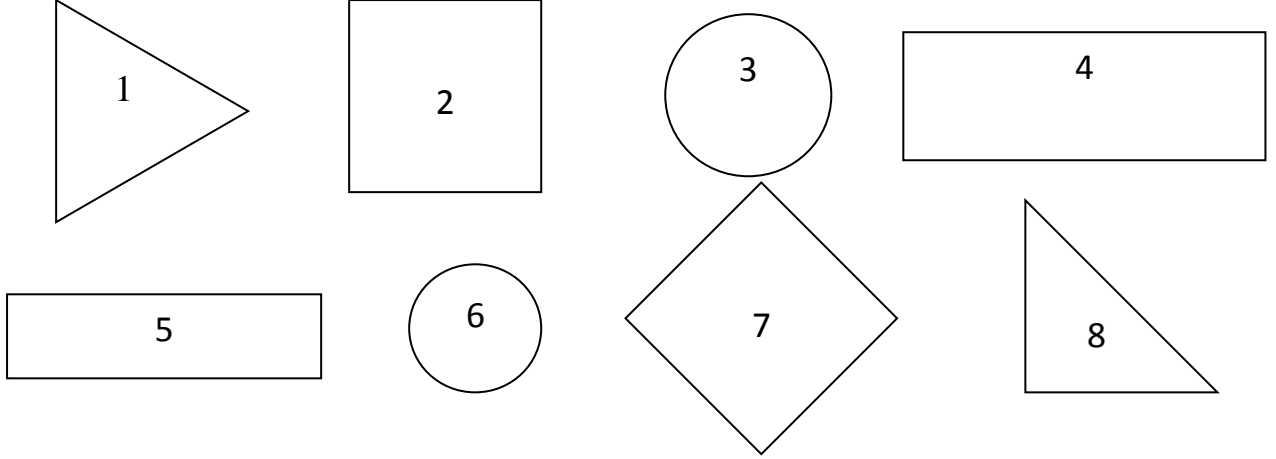
1)Aşağıdaki soruları, verilen geometrik şekillere göre cevaplayınız.

a)Çemberlerin içindeki sayıları yazınız.....

b)Karelerin içindeki sayıları yazınız.....

c) Üçgenlerin içindeki sayıları yazınız.....


d) Dikdörtgenlerin içindeki sayıları yazınız.....



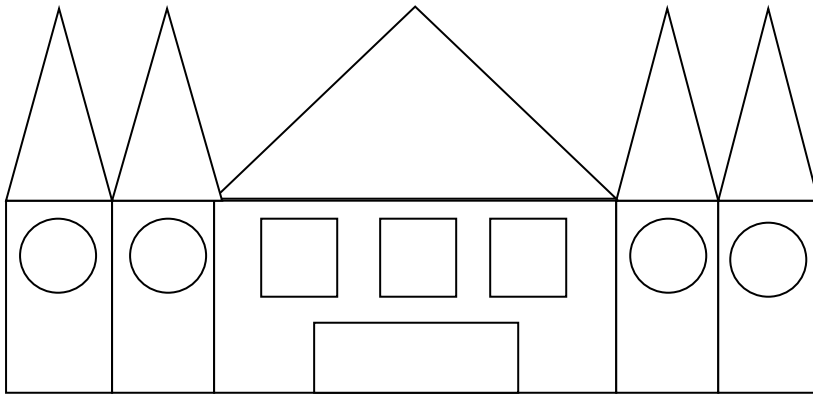
2)En fazla dört tane sayma çubuğu kullanarak hangi geometrik şekli oluşturabilirsiniz?

Cevap:.....

3)Hangi iki kenarı silince geriye iki kare kalır?



4)Aşağıdaki şekilde kaç tane üçgen,kare,çember ve dikdörtgen gördüğünüzü yazınız.



Üçgen:.....

Çember:.....


Kare:.....

Dikdörtgen:.....

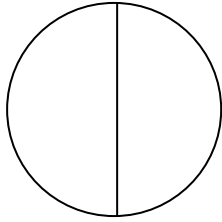
5)Barış bir günde dört çeyrek ekmek yedi.Barış bir günde kaç bütün ekmek yedi?.....

6)Alperen günde yarım kutu süt içiyor.Alperen iki kutu sütü kaç günde içer?.....


7) Şekillerin altında yazan kadarını boyayınız.



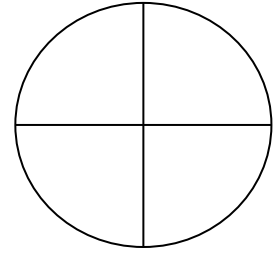
Bütün



yarım



çeyrek



çeyrek

8) Ersel, Hakkı ve Melih bir pizza ısmarladılar. Pizza eşit parçalara bölünmüştü. Her biri birer parça yiyecek. Geride hiç pizza kalmayacak. Onların pizzası hangisidir?



A


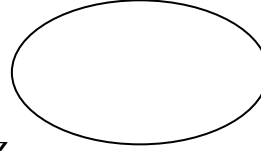
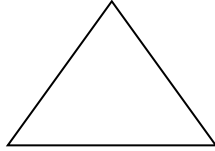


B

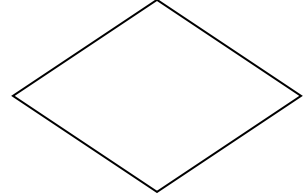



C

9) Aşağıdaki şekillerin yarısını çizerek boyayınız.




10) Aşağıdaki şekillerin çeyreğini çizerek boyayınız.



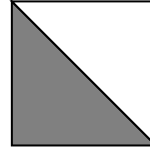
11) Aşağıdaki bütünlerin ne kadarının boyandığını altına yazınız.




.....



.....



.....



.....

12) Aşağıdaki tümcelerde boş bırakılan yerleri uygun kelimelerle tamamlayınız.

Bir bütünü iki eş parçaya ayırdığımızda, her bir parçaya denir.

Bir bütünü dört eş parçaya ayırdığımızda, eş parçalardan her birine denir.

İki tane yarım bir eder.

Dört tane çeyrek bir eder.

Dört tane yarım tane bütün eder.

Sekiz tane çeyrek bütün eder.