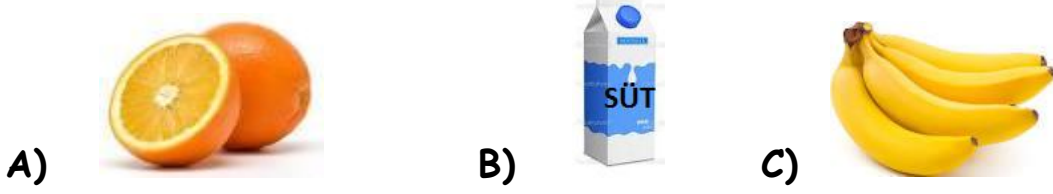




1) Aşağıdaki hangi nesnelere bardak ile ölçülebilir?



2) Bir bardağın aldığı su miktarı aşağıdakilerden hangisi olabilir?

A) 5 kaşık B) 5 kahve fincanı C) 5 sürahi


3) Hangi cümledeki ifade (söylenen) yanlıştır?

A) Çay bardağı, su bardağından daha az sıvı alır.

B) Eşit miktarda su dökülen bütün kaplardaki su seviyesi aynıdır.

C) 7 yemek kaşığı yağ, 7 çay kaşığı yağdan daha fazladır.

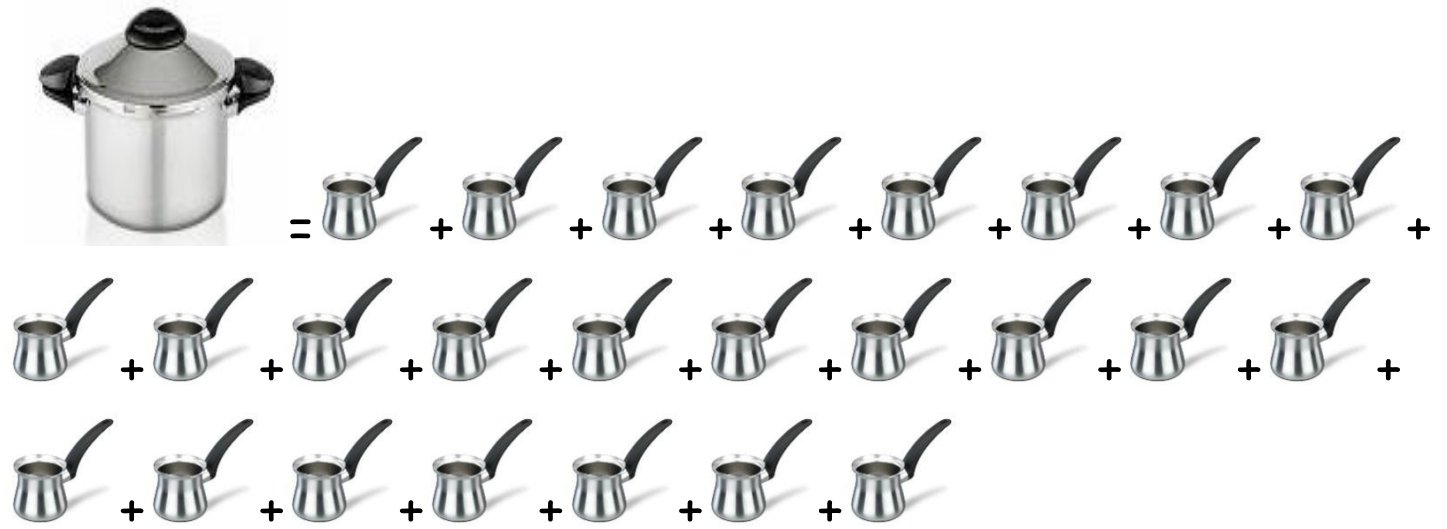
4) Aşağıdaki kaplara bir bardak su koyarsak hangi kabın su seviyesi en yüksek olur?



5) Teyzem bir sürahi limonata hazırladı. Bu limonata hangi bardakta daha çok kişiye ikram edilebilir.




6) Aşağıdaki tencere 25 cezve su alıyor.Kova ise 2 tencere ve 5 cezve su alıyor.Kova toplam kaç cezve su alıyor?



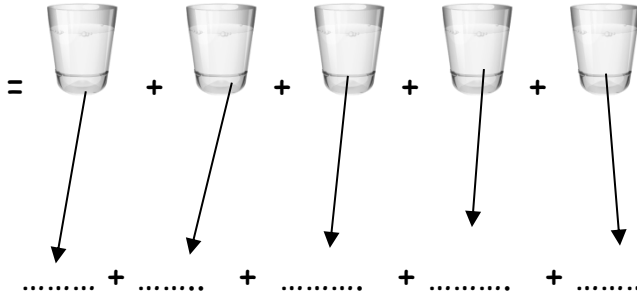
 ? = + +

7) 1 sürahi 12 fincan süt aldığına göre 4 sürahi kaç fincan süt alır?




..... + + + =


8) 1 şişe 5 bardak zeytinyağı alıyor. 1 bardak 3 fincan zeytinyağı alıyor.
1 şişe kaç fincan zeytinyağı ile dolar?



..... + + + + =



9) Pamuk günde 2 tabak süt içiyor. Her tabak 2 bardak süt aldığına göre, Pamuk bir haftada kaç bardak süt içmiştir?



1.gün

2.gün

3.gün

4.gün

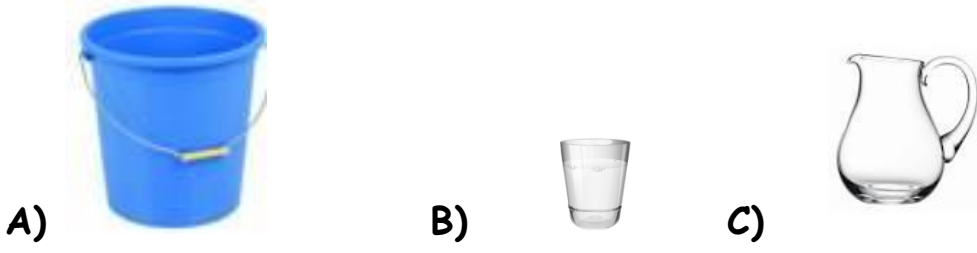
5.gün

6.gün

7.gün

..... + + + + + =

10) Aşağıdaki kaplardan hangisini doldurmak uzun sürer?



11) Aşağıdakilerin hangisi standart sıvı ölçme aracıdır.

A) metre

B) litre

C) kilogram

12) Aşağıdakilerden hangisi litre ile ölçülür.

A) kumaş

B) süt

C) elma

13) Aşağıdaki kaplardan hangisini doldurmak kısa sürer?

